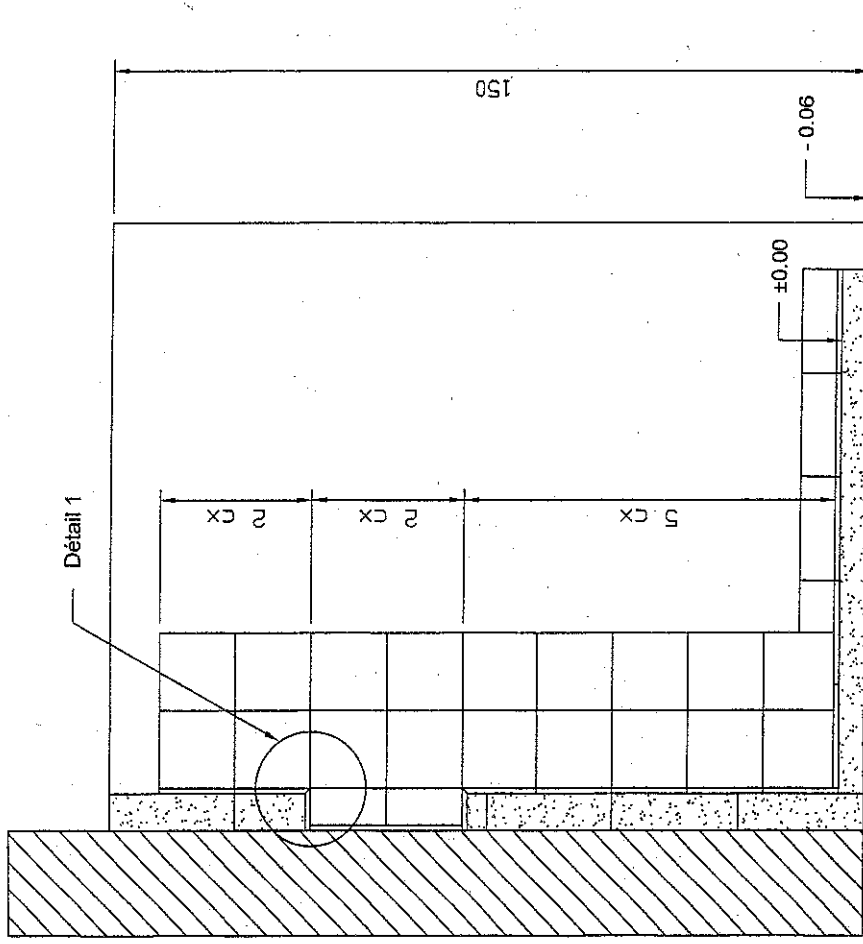
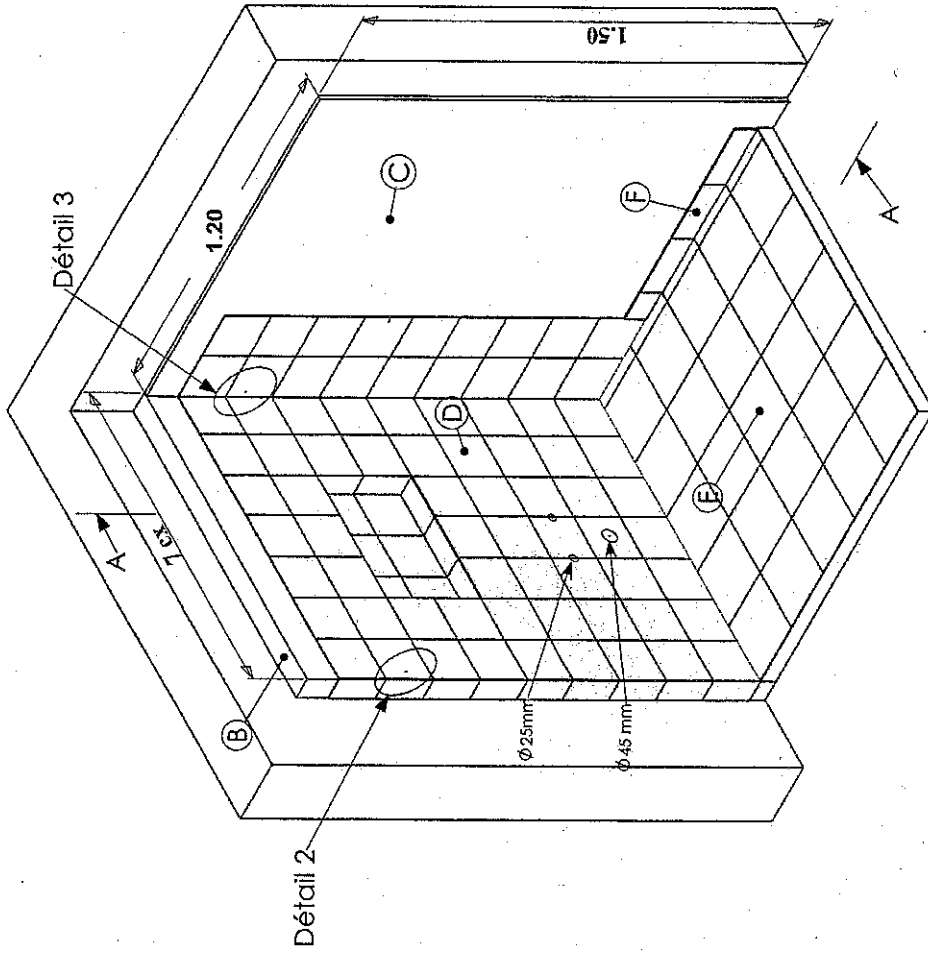


*Epreuve: EP2**Réalisation d'ouvrages  
courants en carrelage***PRATIQUE***Durée : 14 heures**Coefficient : 8***Dossier Sujet**

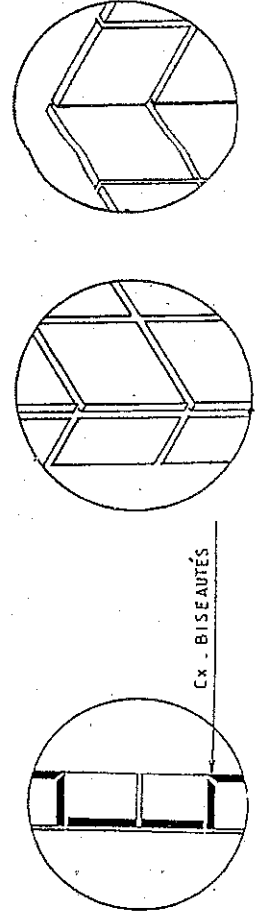
Ce dossier comprend 3 pages :	page	format
<i>. Présentation de l'épreuve</i>	1/3	A 3 H
<i>. Perspective et coupe</i>	2/3	A 3 H
<i>. Fiche contrat + déroulement de l'épreuve et notation</i>	3/3	A 3 H

<b>EXAMENS : C.A.P. CARRELEUR - MOSAISTE</b>				<b>SUJET</b>	
Epreuve : Réalisation d'ouvrages courants en carrelage					
Session : 2005	Repère: EP2	Echelle :	Durée : 14 h 00	Coef : 8	Page : 1/3
<b>Groupement EST</b>			<b>Epreuve Pratique</b>		

**Revêtement partiel d'une salle de bains comportant une niche**



**COUPE A.A**



Examen: <b>CAP CARRELEUR MOSAÏSTE</b>		<b>SUJET</b>	
Epreuve: Réalisation d'ouvrages courants en carrelage			
Session: 2005	Repère EP2	Echelle	Durée: 14h00
Groupement EST		Coef.: 8	Page :2/3
			Epreuve pratique

## DEROULEMENT DE L'EPREUVE PRATIQUE

Les temps et la chronologie sont donnés à titre indicatif

- 1<sup>er</sup> jour :
- Maçonnerie du mur (avec niche) en béton cellulaire 3,5 h.
  - Pré collage du mur 0,5 h.
  - Pose collée des cx. de faïence 15/15 + 4 h.
  - = 8 heures
- 2<sup>e</sup> jour :
- Pose collée au sol des cx. grès cérame 20/20 3 h
  - Pose collée des plinthes 7/20 (coupées dans cx. 20/20) 0,5 h
  - Jointoiement de l'ensemble (mur, sol, plinthes) 2,5 h

Total : 14 heures

N° du candidat : ..... **BAREME DE NOTATION**

POSTES de CONTROLE	NOTE
- Aspect général	...../60
- Faïence cx.15/15 + habillage niche	...../30
- Habillage de la niche, cx entiers pour l'arête	...../15
- Maçonnerie du mur en béton cellulaire *	...../30
- Percement +carreaux biseautés (niche)	...../15
- Sol cx.20/20 + plinthes 7/20	...../35
- Organisation du poste de travail, respect des règles de sécurité	...../15
Total :	<b>200 pts</b>

*Nota: \* L'évaluation de la maçonnerie se fera avant la pose de la faïence  
Le démontage de l'ouvrage sera pris en compte dans la notation*

EXAMEN : C.A.P. CARRELEUR - MOSAISTE		Barème de notation	
Epreuve : Réalisation d'ouvrages courants en carrelage			
Session : 2005	Repère: EP2	Echelle : Durée : 14 h 00	Coef : 8 Page : 3/3
Groupement EST		Epreuve Pratique	

## REVETEMENT PARTIEL D'UNE SALLE DE BAIN COMPORTANT UNE NICHE

FICHE CONTRAT			Nom et prénom du candidat : .....
Compé- tence	Repère	ON DEMANDE	ON DONNE
C3 05	A	<u>Implanter l'ouvrage au sol et au mur</u>	<b>LES PLANS</b> - perspective de l'ouvrage - plans de détails : 1-2-3 - coupe A-A
	C	<u>Réalisé par le centre d'examen</u>	
C3 08	B	<u>Réaliser le mur en béton cellulaire (avec la niche), puis ragréer le mur (parties carrelées)</u>	<b>LES MATERIAUX</b> - mur : faïence cx.15/15 blancs - sol et plinthes : cx.20/20 beige (grès cérame) - Blocs de béton cellulaire format : 7/50/62,5 - mortier-colle gris pour b.c et revêtement - ciment à joints gris - sable mélange 0/3 à 0/6 - liant CEM II A ou B - un délai d'exécution (14h)
C3102	D	<u>Réaliser la pose collée du revêtement mural avec habillage de la niche (voir détail 1 : cx biseautés.) (voir aussi détails 2 et 3 - largeur des joints : 2,5 mm)</u>	
C3101	E	<u>Réaliser le revêtement de sol en cx.20/20 grès cérame pose scellée (joints de 3 mm)</u>	
C3102	F	<u>Réaliser la pose collée des plinthes droites 7/20 (plinthes à couper dans cx.20/20)</u>	<b>ON EXIGE</b> - Exactitude du tracé équerrage, aplomb, niveau <b>TOLERANCES</b> - Mur en béton cellulaire : - Aplomb : ± 5 mm/2;50 m - Planéité : 2 mm/2 m - Niveaux : ± 5 mm/2 m - Cotes : ± 1 mm <b>REVETEMENTS</b> (horizontaux et verticaux) - Aplomb: ± 5 mm/2,50 m - Planéité : 2 mm/2 m - Niveau : ± 5 mm/2 m - Calepinage niche cx entiers <b>NOTA</b> Le démontage de l'ouvrage sera réalisé par le candidat et pris en compte dans la notation finale (organisation du poste de travail)
C3103		<u>Réaliser le jointoiement de l'ensemble (mur, sol, plinthes)</u>	