

C.A.P TAPISSERIE D'AMEUBLEMENT GARNITURE DECOR – SESSION 2005

DOSSIER DOCUMENTATION E.P.1


Le dossier comprend :

8 feuilles format A4 numérotées : 1/8 ; 2/8 ; 3/8 ; 4/8 ; 5/8 ; 6/8 ; 7/8 ; /8/8.


Groupement "Est"	Session 2005	Sujet	
C.A.P TAPISSERIE D'AMEUBLEMENT GARNITURE DECOR			
Epreuve : EP1 Technologie – Prévention	Durée total : 1h30	Coef : 2	Page : 1/8

**Une cliente souhaite que vous lui installiez une barre en bois, que vous lui réalisiez une paire de fauteuil Voltaire en technique contemporaine, et une chaise Louis XVI médaillon en technique traditionnelle (crin).**

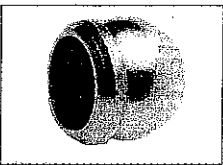
**1° Identifiez les accessoires ci-dessous et précisez pour quels types de tringles on les utilise :**  
(6,5 points)



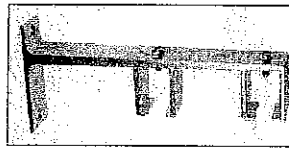
1



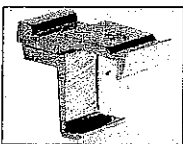
7




2



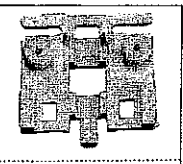
8



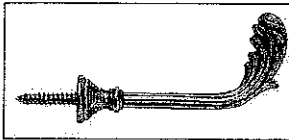
3




9



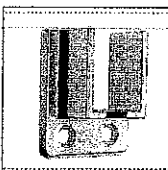
4



10



5



11



6



12

Groupement "Est"	Session 2005	Sujet
C.A.P TAPISSERIE D'AMEUBLEMENT GARNITURE DECOR		
Epreuve : EP1 Technologie – Prévention	Durée total : 1h30	Coef : 2 Page : 3/8

2° Voire cliente souhaite vous faire installer une barre en bois (d'une longueur inférieure à 1,80 m), pour une fenêtre dans une chambre d'amis. Vous constatez que la pose se fera de mur à mur. Parmi les supports de tringles précédents, lequel allez-vous utiliser ?  
Notez la référence du support et justifiez votre réponse : (3 points)

3° Sachant que votre cliente souhaite une assise ferme pour ses fauteuils Voltaire (technique contemporaine), quelle densité de mousse lui conseillez-vous et justifiez votre réponse (se référer au document fournisseur ci-dessous) : (4 points)

- FOND :

- DOSSIER :

<b>BULTEX PLAQUES et DECOUPE (prix m2)</b>					
Epaisseur en cm	Dimensions en cm	BULTEX 26 kg	BULTEX 36 kg	BULTEX 42 kg	BULTEX 53 kg
2	160 x 200	5,24	6,68	8,06	
3	160 x 200	7,86	10,02	12,09	15,45
4	160 x 200	10,48	13,36	16,12	
5	160 x 200	13,10	16,70	20,15	25,75
6	160 x 200	15,72	20,04	24,18	
8	160 x 200	20,96	26,72	32,24	
10	160 x 200	26,20	33,40	40,30	
12	160 x 200	31,44	40,08	48,36	
15	160 x 200	39,30	50,10	60,45	

M2 découpé par cm d'épaisseur BULTEX 26 kg	M2 découpé par cm d'épaisseur BULTEX 36 kg	M2 découpé par cm d'épaisseur BULTEX 42 kg	M2 découpé par cm d'épaisseur BULTEX 53 kg
3,93	5,01	6,05	7,73

Groupement "Est"	Session 2005	Sujet
C.A.P TAPISSERIE D'AMEUBLEMENT GARNITURE DECOR		
Epreuve : EPI Technologie – Prévention	Durée total : 1h30	Coef : 2 Page : 4/8

**4° Pour la réalisation de ces deux fauteuils, que placez-vous pour isoler la mousse du sanglage élastique ? Justifiez votre réponse. (3 points)**

**5° Pendant son utilisation, votre compresseur s'arrête. Quelles peuvent en être les causes ? (1 point)**

**6° Citez trois consignes d'entretien du compresseur ? (1,5 points)**

-

-


-

Groupement "Est"	Session 2005	Sujet	
C.A.P TAPISSERIE D'AMEUBLEMENT GARNITURE DECOR			
Epreuve : EP1 Technologie – Prévention	Durée total : 1h30	Coef : 2	Page : 5/8


**7° Votre employeur vous demande de réaliser un plan de coupe pour deux fauteuils Voltaire sur un velours uni en 140 cm de large (contresens impossible). Tracez votre plan de coupe à l'échelle 1/20<sup>ème</sup> :**

(10 points)

- Fond = Profondeur 74 x Largeur 80
- Dossier intérieur = Hauteur 96 x Largeur 58
- Dossier extérieur = Hauteur 90 x Largeur 52
- Manchettes = Profondeur 28 x Largeur 20


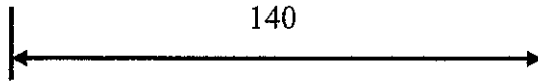


Métrage nécessaire : .....



(voir page suivante)

140



Groupement "Est"		Session 2005	Sujet
C.A.P TAPISSERIE D'AMEUBLEMENT GARNITURE DECOR			
Epreuve : EP1 Technologie – Prévention		Durée total : 1h30	Coef : 2 Page :7/8

**8° Votre apprenti doit réaliser une chaise Louis XVI Médaillon en crin.**

**Vous devez vous absenter pour la journée.**

**Enumérez-lui chronologiquement les différentes étapes jusqu'à la couverture.**

**La garniture du fond sera réalisée en plein à l'ancienne et le dossier en cuvette). (8 points)**

GARNITURE DU FOND :		GARNITURE DU DOSSIER :	
1		1	
	COUVERTURE		COUVERTURE

Groupement "Est"	Session 2005	Sujet
C.A.P TAPISSERIE D'AMEUBLEMENT GARNITURE DECOR		
Epreuve : EP1 Technologie – Prévention	Durée total : 1h30	Coef : 2
		Page : 8/8

9° Lors de la réalisation, votre apprenti utilisera un carrelet double pointes. Vous lui demandez de vous rappeler quelles sont les consignes de sécurité. (2 points)

10° Pour cette chaise, la cliente a choisi un tissu d'armure sergée. Tracez son rapport d'armure : (1 point)

