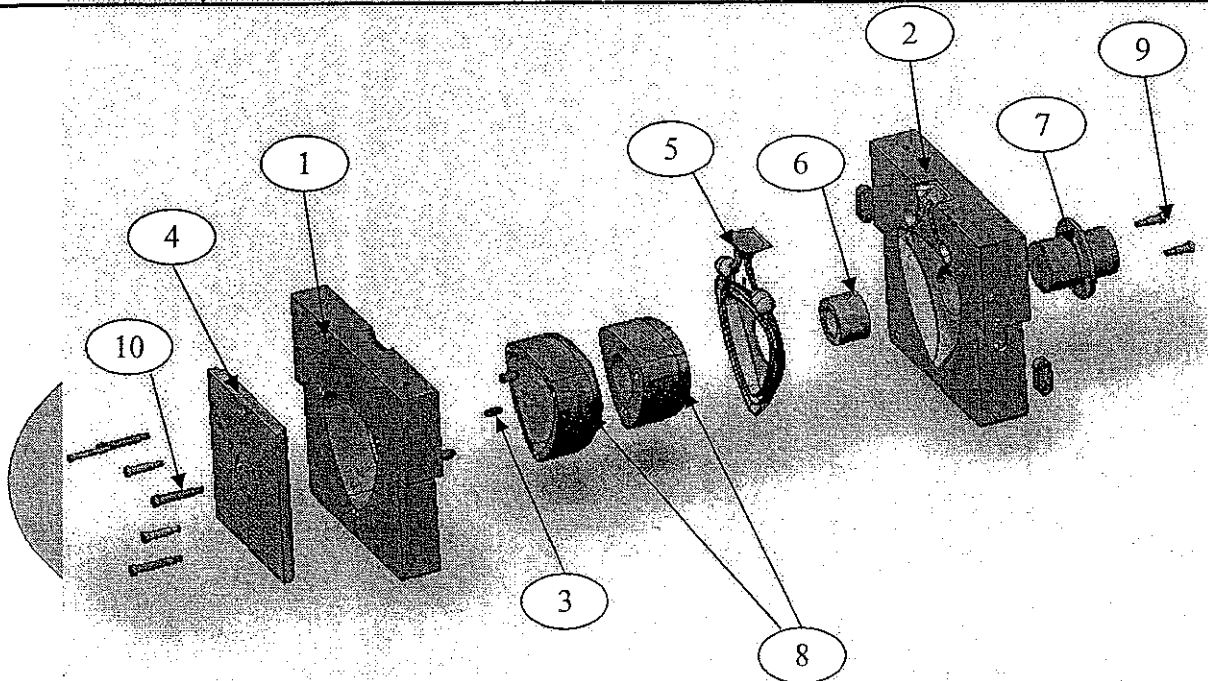


CORRIGE

6) Vous devez indiquer sur le dessin ci-dessous le repère des pièces (de 1 à 10) correspondant à la nomenclature.


REP N°	DESSIN PERSPECTIVE ECLATEE DE LA COQUILLE Nomenclature de la Coquille CACHE-PIED
10	Vis CHC
9	Vis CHC
8	Noyau
7	Manchon d'accouplement
6	Noyaux de l'évidement de la pièce
5	Pièce Cache-Pied
4	Plaque d'extraction des noyaux
3	Goujon
2	Chape mobile du moule
1	Chape fixe du moule

17




Examen : BEP Mise en Œuvre des Matériaux option : Matériaux Métalliques Moulés	Code : 51 22 304
Epreuve : EP3 Technologie	Durée : 3 h 00
Session : juin 2005	Coeff. : 4
	page : 16 /18

CORRIGE



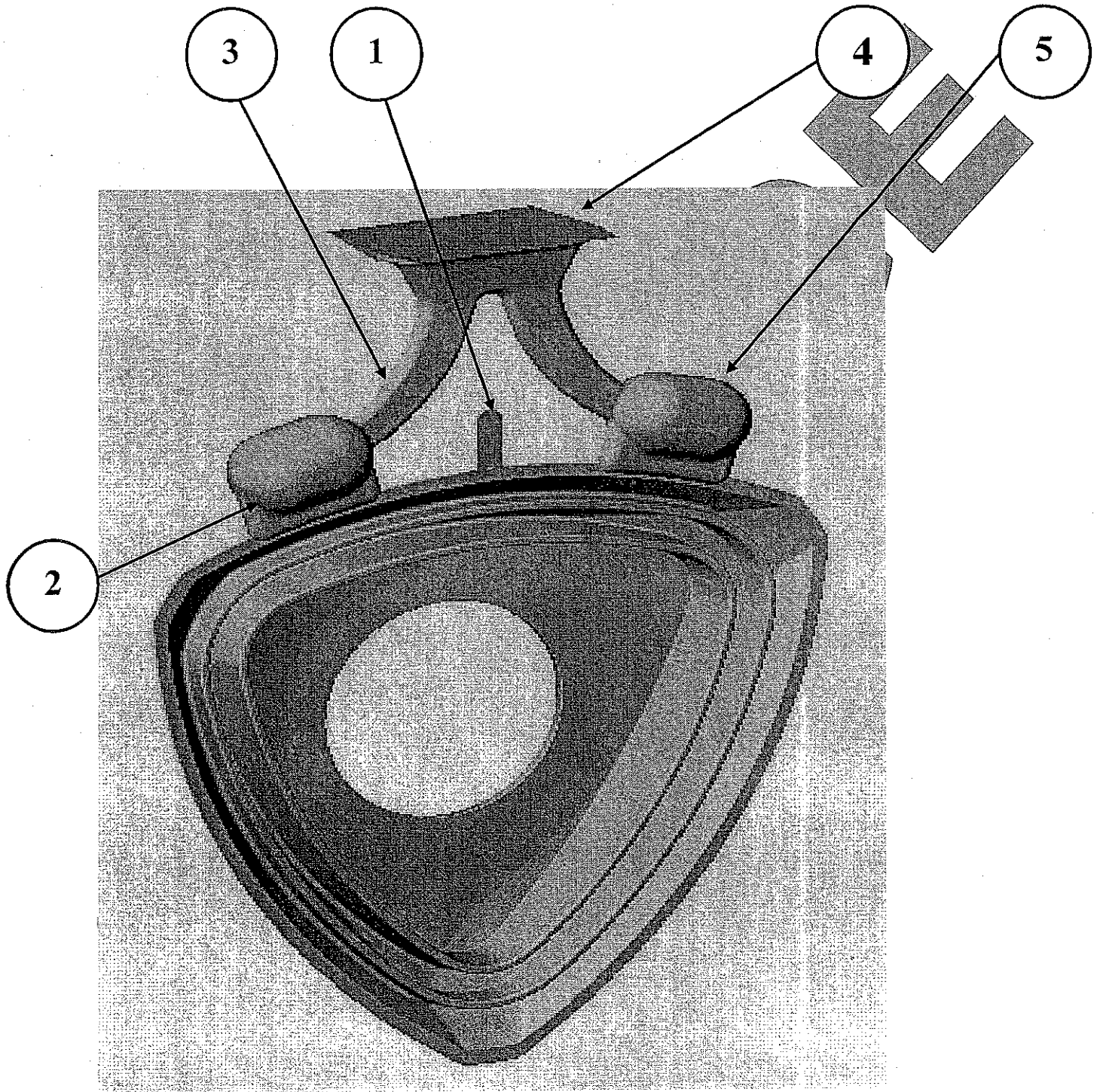
1



2

Examen : BEP Mise en Œuvre des Matériaux option : Matériaux Métalliques Moulés	Code : 51 22 304
Epreuve : EP3 Technologie	Durée : 3 h 00
Session : juin 2005	Coeff. : 4
	page : 17 /18

CORRIGE



Examen : BEP Mise en Œuvre des Matériaux option : Matériaux Métalliques Moulés	Code : 51 22 304
Epreuve : EP3 Technologie	Durée : 3 h 00
Session : juin 2005	CORRIGE
	Coeff. : 4
	page : 18 /18