

<b>ACADÉMIE DE REIMS</b>		<b>SESSION JUIN 2006</b>
<b>EXAMEN M.C.</b>	<b>COLORISTE - PERMANENTISTE</b>	<b>EXAMEN B.P.- E1</b>
<b>Épreuve : E1</b>	<b>Conception et réalisation de mises en forme permanente</b>	<b>Épreuve : U11.B</b>

**FRISAGE**

**PARTIE 1** : Projet de conception de mise en forme permanente.

**Durée : 30 minutes**

**Coefficient : 2**

- \* Pour le modèle qui vous est présenté,
- \* A partir de la figurine (photo) qui vous est fournie, vous devez élaborer la procédure à mettre en œuvre pour obtenir la coiffure demandée.

Pour cela, vous complétez la fiche technique ci-jointe et vous la remettrez au jury à la fin de l'épreuve.

- \* Vous disposez de la fiche du passé technique du modèle.
- \* Vous pouvez également vous déplacer pendant l'épreuve, regarder et toucher la chevelure du modèle, prendre des notes (questions interdites).

# FICHE TECHNIQUE

E1 : Conception et réalisation de mises en forme permanente

Date :

NOM des membres du jury	Fonction	Signature
-	-	-
-	-	-
-	-	-

## FRISAGE

- 1° PARTIE : PROJET DE CONCEPTION DE MISE EN FORME PERMANENTE

LE CANDIDAT COMPLÈTE LA PARTIE « A » EN PREMIER

NOTE (A + B) : /20

**PARTIE B / 15 points**

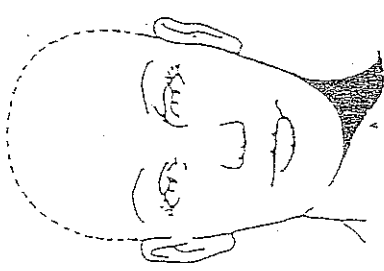
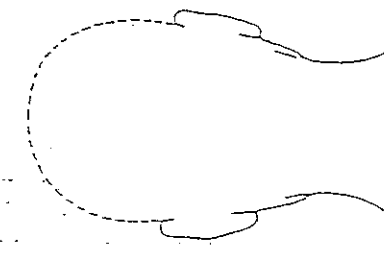
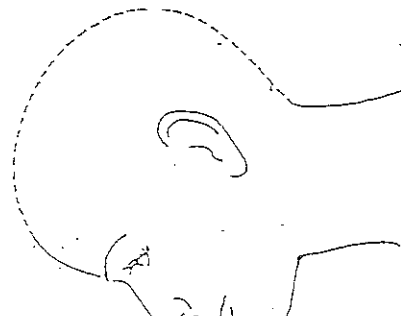
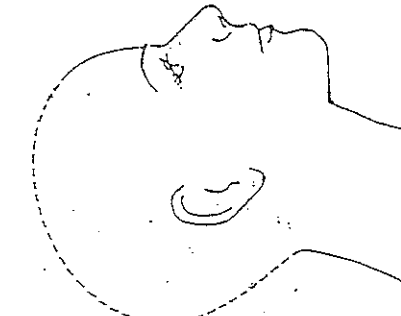
Déroulement des différentes opérations

Listez les opérations selon le déroulement chronologique <b>5 points</b>	Citez les produits utilisés <b>4 points</b>	Justifiez les produits utilisés et les différentes opérations en prenant en compte les besoins du client <b>6 points</b>

**PARTIE A / 5 points**

A l'aide des gabarits ci-dessous, présentez votre plan de montage.

Représentez les zones sur les gabarits. Numérotez ces zones dans l'ordre chronologique où vous effectuerez votre travail. Dessinez sous forme d'esquisses ou de schémas le dessin de frisure. Nommez le type de frisure. Précisez les enrouleurs. Justifiez les méthodes et/ou les systèmes que vous choisirez.

Face	Nuque	Zones Frisure	* .....	* .....	* .....	* .....	* .....
 <p style="text-align: center;">Face</p>	 <p style="text-align: center;">Nuque</p>	<p>Degré de frisure</p> <p>Esquisse ou schéma de la frisure <b>2 points</b></p>					
 <p style="text-align: center;">Profil 1</p>	 <p style="text-align: center;">Profil 2</p>	<p>Enrouleurs : - diamètre et forme - autres caractéristiques éventuellement <b>1 point</b></p>					
		<p>Méthode de permanente choisie et justification <b>1 point</b></p>					
		<p>Système adopté et moyens utilisés. Justification <b>1 point</b></p>					

\* Une même colonne peut correspondre à plusieurs zones mais à un seul dessin de frisure