

ENVIRONNEMENT ÉCONOMIQUE JURIDIQUE ET SOCIAL

SUJET Deuxième jour

1. Quelle est la différence entre :
un bon de commande ?
un bulletin de commande ?
2. Vous constatez qu'il y a deux taux de T.V.A. Est-ce le cas dans votre entreprise ?
Si oui, à quels produits ou services cela correspond-il ?
3. Dans les conditions tarifaires, vous trouvez : "franco au dessous de 15 kgs".
4. Pour quelle raison le fournisseur propose-t-il des remises ?
5. Si le client règle au comptant par chèque à réception de la facture, il bénéficiera d'un escompte de 3 %. Expliquez ce qu'est un escompte.

ACADEMIE D'ORLEANS-TOURS		
Temps alloué au Total : 45 MN	Coefficient : 2	CAP 199 9
Echelle :	Note Mini : /	Examen : FLEURISTE
Epreuve : EP 2	Environnement Economique Juridique et Social	SUJET N° 1
Ce su jet comporte :	2 feuille(s)	1/2

BULLETIN DE COMMANDE

CHATILLON CHOCOLATIER
6, rue Victor Hugo
29200 BREST

TEL : 98 4163 63
FAX : 98 47 78 49

raison sociale : M. MICHEL
adresse : 4, rue Jean Jaurès
29200 BREST
Téléphone : 98 42 02 92

TARIF AU 01 JANVIER - HORS TAXE

réf.	Désignation de la marchandise	Unité de vente	Prix en F. le kilo	aux de TVA	Quantité commandée	Poids commandé		
ASSORTIMENT CHOCOLATS AU POIDS								
13	NOIX (pâte d'amande aux noix enrobé couverture fondante)	2,0 kg	112,50	20,6	2			
14	PISTACHE (pâte d'amande verte enrobé couverture fondante)	1,8 kg	112,50	20,6				
15	NOUGAT (intérieur nougat de Montélimar 1er choix enrobé couverture fondante)	2,2 kg	112,50	20,6	2			
17	VIOLETTE (intérieur praliné clair enrobé couverture au lait)	1,8 kg	112,50	20,6				
22	CAFÉ (ganache au beurre au café enrobé couverture fondante)	1,8 kg	112,50	20,6				
23	ROCHER LAIT (amandes grillées coupées et chocolat lait)	1,0 kg	112,50	20,6	2			
"FLORENTINS" SPÉCIALITÉ								
• Vrac								
31	Florentins à l'orange et au chocolat au lait	Bte 1,4 kg	112,50	5,5				
32	Florentins à l'orange et au chocolat noir	Bte 1,4 kg	112,50	5,5				
33	Florentins à la menthe et au chocolat noir	Bte 1,4 kg	112,50	5,5				
• Etais 100 g Florentins Garnis ; prêts à la vente								
37	Orange et chocolat au lait	12 étuis	125,00	5,5				
36	Orange et chocolat noir	12 étuis	125,00	5,5				
• Ballotins 200 g Florentins Garnis, prêts à la vente								
41	Panaché orange, chocolat au lait et noir	1 Bte	127,00	5,5	20			

CONDITIONS TARIFAIRES POUR TOUTE COMMANDE

Au dessous de 15 kg, nous livrons aussi avec une légère participation financière au transport de votre part, c'est-à-dire :

Prix H.T.

- de 0 kg à 5 kg = 60,00 F
 - de 5 kg à 10 kg = 50,00 F
 - de 10 kg à 15 kg = 40,00 F
 - franco au dessus de 15 kg
- T.V.A. 20,6 %

Au-dessus de 15 kg, nous appliquons les remises quantitatives suivantes :

- de 15 kg à 30 kg = 2 %
- de 30 kg à 50 kg = 5 %
- de 50 kg à 100 kg = 10 %
- de 100 kg à 300 kg = 12 %
- de 300 kg à 500 kg = 14 %

Possibilités cartonnages (boîtes et ballotins à la marque "CHATILLON", nous consulter).

Tous nos CHOCOLATS VRAC et FLORENTINS VRAC sont livrés en caisse polystyrène isolante.

MODE DE RÈGLEMENT

30 jours fin de mois, par traite acceptée, ou par chèque comptant à réception de la facture (escompte 3 %).

Veuillez joindre un RIB de votre domiciliation bancaire à votre première commande.

Temps alloué au Total : 45 MN	Coefficient : 2	CAP 199 9
Echelle :	Note Mini : /	Examen : FLEURISTE
Epreuve : EP 2	Environnement Economique Juridique et Social	SUJET N° 1
Ce sujet comporte :	2 feuille(s)	2/2

ENVIRONNEMENT ECONOMIQUE JURIDIQUE ET SOCIAL

SUJET Deuxième jour

- 1] Qu'est-ce qu'un contrat à durée indéterminée ?
- 2] Un jeune a passé son CAP en juin. Il entre chez l'employeur le 1er juillet:
il est payé au **SMIC**.

Que signifie ce sigle ?
Le salaire peut être augmenté de 2 manières. Lesquelles ?
- 3] Quelques mois plus tard ce jeune quitte son employeur, celui-ci doit lui remettre obligatoirement deux documents. Lesquels ?

ACADEMIE D'ORLEANS-TOURS		
Temps alloué au Total : 45 MN	Coefficient : 2	CAP 199 9
Echelle :	Note Mini : /	Examen : FLEURISTE
Epreuve : EP 2	Environnement Economique Juridique et Social	SUJET N° 2
Ce sujet comporte : 1 feuille(s) /		

ENVIRONNEMENT ECONOMIQUE JURIDIQUE ET SOCIAL

SUJET Deuxième jour

La durée du travail

1 - **Quelle** est la durée légale hebdomadaire du travail en France ?
qu'elle est la durée hebdomadaire maximale ?

2 - Comment sont rémunérées les heures supplémentaires ?

3 - Un salarié a effectué au cours du mois de mai 1999

◆ 169 heures à 42 francs de l'heure

◆ 4 heures supplémentaires

Calculer son salaire brut

ACADEMIE D'ORLEANS-TOURS		
Temps alloué au Total : 45 MN	Coefficient : 2	CAP 1999
Echelle :	Note Mini : /	Examen : FLEURISTE
Epreuve : EP 2	Environnement Economique Juridique et Social	SUJET N° 3
Ce sujet comporte :	1 feuille(s) /	

ENVIRONNEMENT ECONOMIQUE JURIDIQUE ET SOCIAL

SUJET Deuxième jour

Prendre connaissance du document et répondre aux questions ci-dessous



- 1° Quelle est la raison sociale de cette entreprise ?
- 2° Que signifie **EURL** ?
Quel est le principal avantage de l'**EURL** par rapport à l'entreprise individuelle ?
- 3° Citer deux autres formes juridiques d'entreprise.
- 4° Que signifie RCS ?

ACADEMIE D'ORLEANS-TOURS		
Temps alloué au Total : 45 MN	Coefficient : 2	CAP 1999
Echelle :	Note Mini: /	Examen : FLEURISTE
Epreuve : EP 2	Environnement Economique Juridique et Social	SUJET N° 4
Ce sujet comporte :	1 feuille(s) /	

ENVIRONNEMENT ÉCONOMIQUE JURIDIQUE ET SOCIAL

SUJET Deuxième jour

Vous travaillez chez “Annie Fleurs” à Toulouse (31). Vous avez comme client habituel le restaurant “Au Fin Gourmet” à Toulouse auquel vous envoyez à la fin de chaque mois une facture.

TRAVAIL À FAIRE :

1. Présenter la facture de doit du mois de mai en fonction des renseignements suivants :

Produits à facturer :

2 compositions à 370 F l'une
6 centres de tables pour 600 F
1 vase haut à 180 F

Le taux de TVA est de **20,60 %**.

La livraison est gratuite.

2. Que signifient les termes :

HT ?

TTC ?

Débours ?

3. Calculer le net à payer en F et en euros.
1 euro = **6,55957 F**.

ACADEMIE D'ORLEANS-TOURS		
Temps alloué au Total : 43 MN	Coefficient : 2	CAP 199 9
Echelle :	Note Mini : /	Examen : FLEURISTE
Epreuve : EP 2	Environnement Economique Juridique et Social	SUJET N° 5
Ce sujet comporte :	2 feuille(s)	1 / 2

CLASSEMENT

FACTURE EXEMPLAIRE	
DATE	NUMERO FEUILLET
COMMANDES	
OFFRE	
LIVRAISON	
REPRESENTANT	

ORIGINE	TRANSPORTS DESTINATION	MODE	CONDITIONS: LIVRAISON		DATE				
			CONDITIONS: PAIEMENT						
DOMICILIATION:									
MARQUES ET NUMEROS	NOMBRE ET NATURE DES COLIS DESCRIPTION DE LA MARCHANDISE				MASSE NETTE UNITE	DIMENSIONS UNITES			
					MASSE BRUTE UNITE	VOLUME UNITE			
N°	REFERENCE	DESIGNATION DES ARTICLES	TAXES	QUANTITE ET UNITE	P. U. TARIF H. T.	AUX DE DEM.			
1	2	3	4	5	6	7			
T.V.A. (A)		T.V.A. (B)		T.V.					
TAUX	BASE	MONTANT	TAUX	BASE	MONTANT	TAUX	BASE	MONTANT	TOTAL H.T.
									TOTAL T.V.A.
TAXE PARAFISCALE (P)			TAXE PARAFISCALE (Q)						
TAUX	BASE	MONTANT	TAUX	BASE	MONTANT	TOTAL TAXES ARAFISCALES			
						TOTAL T.T.C.			
RESERVE AU DESTINATAIRE			DEBOURS EMBALLAGES TRANSPORTS ASSURANCES		MONTANT	TOTAL DEBOURS			
						NET A PAYER			

190000.
EUROS.

ACADEMIE D'ORLEANS-TOURS		
Temps alloué au Total : 45 MN	Coefficient : 2	CAP 199 9
Echelle:	Note Mini : /	Examen : FLEURISTE
Epreuve : EP 2	Environnement Economique Juridique et Social	SUJET N° 5
Ce sujet comporte :	2 feuille(s)	2/2

SUJET Deuxième jour

Prendre connaissance du document et répondre aux questions ci-dessous

SÉNAT

Le travail noir, fléau social

« Illégal ou dissimulé », il coûterait chape année à la collectivité 150 milliards de francs

Le gouvernement entend faire de la lutte contre le travail illégal « une priorité nationale », a souligné, hier, M^{me} Anne-Marie Couderc, ministre délégué à l'emploi, en présentant aux sénateurs le projet de loi « global et cohérent » renforçant la lutte contre le travail « illégal ou dissimulé ».

Ce texte, adopté en première lecture par l'Assemblée nationale début décembre, a pour objet « de clarifier la définition du délit, mieux contrôler et dissuader » le recours au travail illégal qu'il ne faut pas confondre, a affirmé le ministre, avec l'immigration irrégulière.

- 1° Qu'appelle-t-on « travail noir » ?
- 2° Qui a adopté le texte en première lecture ?
- 3° Quelle assemblée a ensuite examiné le projet de loi ?
- 4° A quelle condition un texte devient-il loi ?
- 5° Donner la composition du : Gouvernement
Donner la composition du : Parlement

ACADEMIE D'ORLEANS-TOURS		
Temps alloué au Total : 45 MN	Coefficient : 2	CAP 199 9
Echelle :	Note Mini : /	Examen : FLEURISTE
Epreuve : EP 2	Environnement Economique Juridique et Social	SUJET N° 6
Ce sujet comporte : 1 feuille(s) /		

ENVIRONNEMENT ÉCONOMIQUE JURIDIQUE ET SOCIAL

SUJET Deuxième jour

Prendre connaissance du document ci-joint et répondre aux questions suivantes :

1. Que représente ce document ?
2. Quel est le montant du salaire de base ?
3. Quelle est la durée normale hebdomadaire du travail ?
4. Expliquer pourquoi la durée normale mensuelle du travail est de 169 h.
5. Qu'appelle-t-on acompte ? Expliquer le montant du net à payer.

ACADEMIE D'ORLEANS-TOURS		
Temps alloué a" Total : 45 MN	Coefficient : 2	CAP 199 9
Echelle :	Note Mini : /	Examen : FLEURISTE
Epreuve : EP 2	Environnement Economique Juridique et Social	SUJET N° 7
Cesujetcomporte	de	1/2

ENVIRONNEMENT ÉCONOMIQUE JURIDIQUE ET SOCIAL

SUJET Deuxième jour

Vous êtes employé(e) par le magasin Lys Blanc à Saintes. Mme LEBLANC, l'une de vos fidèles clientes, achète toutes les semaines des compositions pour la décoration de son restaurant et vous règle sur factures à la fin de chaque mois.

Au cours du mois de mai 1999, ces achats sont les suivants :

Dessus de buffet végétatif	300 francs HT
5 centres de tables	250 francs HT
Bouquet exotique	380 francs HT
Jardin de plantes	450 francs HT


1. Calculer le montant TTC dû par Mme LEBLANC sachant que la TVA sur les compositions florales est de **20,6 %** en francs et en euros.
2. Par quel mode de paiement Mme LEBLANC pourra-t-elle vous régler, si elle règle comptant, si elle règle à 30 jours.
1 euro = 6,55957 F

ACADEMIE D'ORLEANS-TOUR!3			1
Temps alloué au Total : 45 MN	Coefficient : 2	CAP1999	
Echelle :	Note Mini : /	Examen : FLEURISTE	
Epreuve : EP 2	Environnement Economique Juridique et Social		SUJET N° 8
Ce sujet comporte :	1 feuille(s) /		

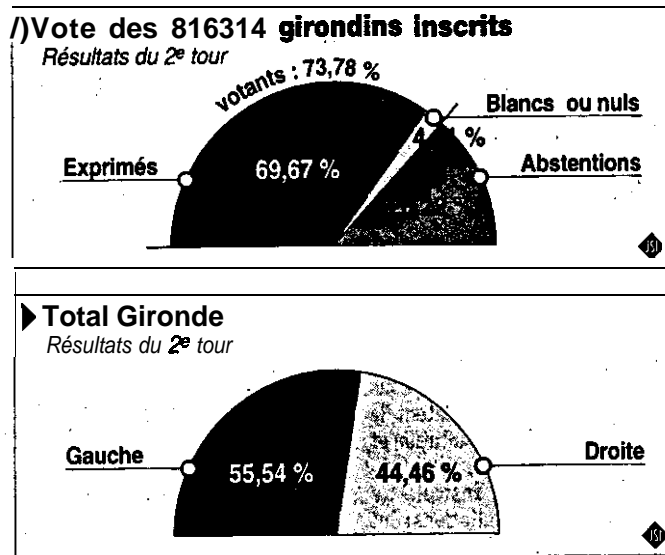
ENVIRONNEMENT ECONOMIQUE JURIDIQUE ET SOCIAL

SUJET Deuxième jour

Prendre connaissance du document et répondre aux questions ci-dessous



ASSEMBLÉE NATIONALE



- 1° Que représentent les documents ci-dessus ?
- 2° Comment s'appellent les personnes qui siègent à l'Assemblée Nationale ?
- 3° Expliquer les termes suivants : votants, blancs, nuls, abstentions, exprimés
- 4° Quelles sont les conditions pour être électeur ?
- 5° Quel est le rôle des personnes élues ?

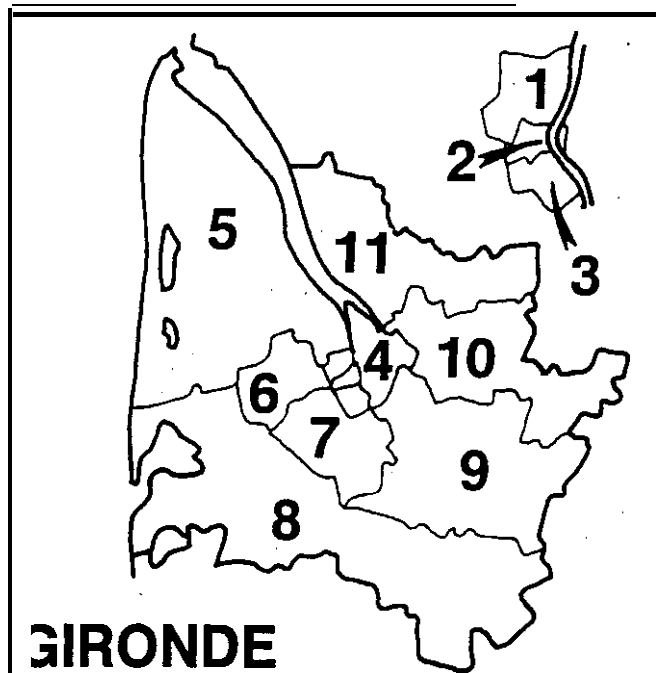
ACADEMIE D'ORLEANS-TOURS		
Temps alloué a) Total : 45 MN	Coefficient : 2	CAP 199 9
Echelle :	Note Mini : /	Examen : FLEURISTE
Epreuve : EP 2	Environnement Economique Juridique et Social	SUJET N° 9
Ce sujet comporte :	1 feuille(s)	/

ENVIRONNEMENT ECONOMIQUE JURIDIQUE ET SOCIAL

SUJET Deuxième jour

Prendre connaissance du document et répondre aux questions ci-dessous

LÉGISLATIVES 97



1^{re} circonscription

I : 69 956 - V : 49 904 (71,34 %) - E : 47 600 (95,38 %)

Béatrice DESAIGUES (PS)	21 425 (45,01 %)
Jean VALLEIX (RPR)	26 175 (54,99 %)

LÉGISLATIVES 1991 (premier tour)

I : 69 953 - V : 46 981 (67,16 %) - E : 45 084 (95,96 %)

Claudine COPIN (VT)	243 (0,54 %)
Jacques COLOMBIER (FN)	5 095 (11,30 %)
Denis LACOSTE (LO)	881 (1,96 %)
Béatrice DESAIGUES (PS)	11 725 (26,01 %)
Jean VALLEIX (RPR)	18 950 (37,80 %)
v - t MAUNI (PC)	3 048 (6,76 %)
J-Jacques RABEISEIN (MEI)	562 (1,25 %)
Chantal BALLIAS (GE)	700 (1,55 %)
Stéphane DE BENIZMAN (MPF)	1 746 (3,87 %)
François FOURNIER (MPF)	557 (1,24 %)
Catherine DURIN (LCR)	417 (0,92 %)
Gérard ALBOUY (UPS)	691 (1,53 %)
Daniel FEDOU (EE)	815 (1,81 %)
Micheline GARUZ (NENA)	429 (0,95 %)
Valérie LE GOFF (LV)	1 138 (2,52 %)
Marie-Line TOUYA (PLN)	87 (0,19 %)

- 1° Qui élit-on aux élections législatives ?
- 2° Qui été élu au deuxième tour ?
- 3° Pourquoi y-a-t-il eu un deuxième tour ?
- 4° Que signifient les lettres I, V, E ?
- 5° Quel est le rôle des personnes élues ?

ACADEMIE D'ORLEANS-TOURS		
Temps alloué a" Total : 45 MN	Coefficient : 2	CAP1999
Echelle :	Note Mini : /	Examen : FLEURISTE
Epreuve : EP 2	Environnement Economique Juridique et Social	SUJET N° 11
CC sujet comporte :	1 feuille(s)	/

ENVIRONNEMENT ECONOMIQUE JURIDIQUE ET SOCIAL

SUJET Deuxième jour

Votre fournisseur RAPID'FLEURS
10 allée des Thuyas
31000 Toulouse

vous fait parvenir au début de chaque mois un facture relative à tous vos achats du mois précédent qui seront réglés par chèque bancaire.

Le 4 juin, RAPID'FLEURS vous fait parvenir une facture d'un montant de **9874,45 francs TTC**.

Vos références sont les suivantes :

 : Fleur Boréale
 15 Rue de l'aurore
 17 La Rochelle
Banque : CRCA Verdun
 4 12 536894 51

Compléter le chèque bancaire fourni en annexe et préciser le nom du tiré, du tireur et du bénéficiaire.

CA CREDIT AGRICOLE / CAISSE RÉGIONALE DE CRÉDIT AGRICOLE MUTUEL B.P.F.
12, Bd. Guillet-Maillet - 17117 SAINTES - CEDEX
CHARENTE-MARITIME DEUX-SÈVRES

PAYEZ CONTRE CE CHÈQUE NON ENDOSSABLE SAUF AU PROFIT D'UN ÉTABLISSEMENT BANCAIRE OU ASSIMILÉ

COMPENSABLE A LA ROCHELLE
PAYABLE A CRCA Verdun
4 12 536894 51
N° Compte : 40292436000
0001632 : N° Chèque Date

A L'ORDRE DE
LIEU DE CRÉATION

<84>
Le non St-Jacques à Paris
Associés A. Lespérance

ACADEMIE D'ORLEANS-TOURS		
Temps alloué AN Total : 4.5 MN	Coefficient : 2	CAP 199 9
Echelle :	Note Mini : /	Examen : FLEURISTE
Epreuve : EP 2	Environnement Economique Juridique et Social	SUJET N° 12
<small>Ce sujet comporte feuille(s)</small>		