

**DOCUMENT A RENDRE ET A AGRAFER AVEC LA COPIE**

**TECHNIQUE PROFESSIONNELLE**

**❶ Citez 5 fleurs coupées utilisées dans la composition de bouquets secs**

2,5 points

	NOM BOTANIQUE GENRE	NOM COMMUN	FAMILLE
1			
2			
3			
4			
5			

**❷ Donner la définition du style végétatif**  
Citez deux exemples de réalisation

3,5 points

**❸ Reconnaître des végétaux (voir annexe)**

3 points











**❹ Citez au moins deux avantages de posséder une chambre climatique.**  
Indiquez la température idéale pour l'ensemble des fleurs coupées

3 points

Académie de Poitiers		
<b>Temps alloué au Total : 3 H</b>	<b>Coefficient : 3</b>	<b>CAP 1999</b>
<b>Echelle :</b>	<b>Note Mini : /</b>	<b>Examen : FLEURISTE</b>
<b>Epreuve : EP 4 - TECHNOLOGIE</b>		<b>SUJET</b>
<b>Ce sujet comporte :</b>	<b>4 feuille(s) 1 / 4</b>	

NOTE

RECONNAISSANCE DE VEGETAUX

						<p>NOM BOTANIQUE GENRE FAMILLE NOM COMMUN</p>	<p>..... ..... ..... .....</p>	<p>..... ..... ..... .....</p>	<p>..... ..... ..... .....</p>	<p>..... ..... ..... .....</p>	<p>..... ..... ..... .....</p>
<p>NOM BOTANIQUE GENRE FAMILLE NOM COMMUN</p>						<p>NOM BOTANIQUE GENRE FAMILLE NOM COMMUN</p>	<p>..... ..... ..... .....</p>	<p>..... ..... ..... .....</p>	<p>..... ..... ..... .....</p>	<p>..... ..... ..... .....</p>	<p>..... ..... ..... .....</p>

HYGIENE PROFESSIONNELLE - 3 points

- Quel est le vaccin indispensable pour les personnes exerçant le métier de fleuriste ?

- Quel est le principe du vaccin ?

- Vous vous blessez en entreprise.

A l'hôpital où l'on vous soigne, le médecin constate que vous n'êtes pas à jour dans les vaccinations.

Que doit-il faire pour vous protéger immédiatement ?

Académie de Poitiers		
Temps alloué au Total : 3 H	Coefficient : 3	C A P 1999
Echelle :	Note Mini : /	Examen : FLEURISTE
Epreuve : EP 4 - TECHNOLOGIE		SUJET
Ce sujet comporte :	4 feuille(s) 3 / 4	

**DOCUMENT A RENDRE ET A AGRAFER AVEC LA COPIE**

**BOTANIQUE - 5 points**

**1) Indiquez l'appellation :**

2 points

- d'un fruit charnu possédant des pépins :
  
- d'un fruit charnu possédant un noyau :
  
- Donnez le nom du tissu formant ce noyau :

**2) Donnez la définition de la fonction chlorophyllienne en mentionnant les facteurs indispensables à cette fonction :**

2 points

**3) Énumérez 5 types de feuilles différentes :  
Donnez 1 exemple avec schéma (pour chaque type)**

1 point

Académie de Poitiers		
Temps alloué au Total : 3 H	Coefficient : 3	<b>CAP 1999</b>
Echelle :	Note Mini : /	Examen : FLEURISTE
Epreuve : EP 4 - TECHNOLOGIE		<b>SUJET</b>
Ce sujet comporte : <b>4</b> feuille(s) 4 / <b>4</b>		