

**TECHNIQUE PROFESSIONNELLE****0 Citez 5 fleurs coupées utilisées dans la composition de bouquets secs**

2,5 points

	NOM BOTANIQUE GENRE	NOM COMMUN	FAMILLE
1			
2			
3			
4			
5			

**2 Donner la définition du style végétatif**  
Citez deux exemples de réalisation

3,5 points

**3 Reconnaître des végétaux (voir annexe)**

3 points












**4 Citez au moins deux avantages de posséder une chambre climatique.**  
Indiquez la température idéale pour l'ensemble des fleurs coupées

3 points

<b>ACADEMIE D'ORLEANS-TOURS</b>		
<b>Temps alloué</b> PU Total : <b>3 H</b>	<b>Coefficient : 3</b>	<b>CAP 1999</b>
Echelle :	Note Mini : /	Examen : <b>FLEURISTE</b>
Epreuve : EP 4 - TECHNOLOGIE		<b>SUJET</b>
Ce sujet comporte : 4 feuille(s) 1 / 4		

NOTE

RECONNAISSANCE DE VEGETAUX

<p>1</p>					
<p>NOM BOTANIQUE GENRE FAMILLE NOM COMMUN</p>	<p>..... ..... ..... .....</p>	<p>..... ..... ..... .....</p>	<p>..... ..... ..... .....</p>	<p>..... ..... ..... .....</p>	<p>..... ..... ..... .....</p>
					
<p>NOM BOTANIQUE GENRE FAMILLE NOM COMMUN</p>	<p>..... ..... ..... .....</p>	<p>..... ..... ..... .....</p>	<p>..... ..... ..... .....</p>	<p>..... ..... ..... .....</p>	<p>..... ..... ..... .....</p>

HYGIENE PROFESSIONNELLE - 3 points

- Quel est le vaccin indispensable pour les personnes exerçant le métier de fleuriste ?

- Quel est le principe du vaccin ?

- Vous vous blessez en entreprise.

A l'hôpital où l'on vous soigne, le médecin constate que vous n'êtes pas à jour dans les vaccinations.

Que doit-il faire pour vous protéger immédiatement ?

<b>ACADEMIE D'ORLEANS-TOURS</b>		
<b>Temps alloué au Total : 3 H</b>	<b>Coefficient : 3</b>	<b>CAP 1999</b>
Echelle :	Note Mini : /	Examen : FLEURISTE
Epreuve : EP 4 • TECHNOLOGIE		<b>SUJET</b>
Ce sujet comporte : 4 feuille(s) 3 / 4		

BOTANIQUE - 5 points

1) Indiquez l'appellation :

2 points

- d'un fruit charnu possédant des pépins :
- d'un fruit charnu possédant un noyau :
- Donnez le nom du tissu formant ce noyau :

2) Donnez la définition de la fonction chlorophyllienne en mentionnant les facteurs indispensables à cette fonction :

2 points

3) Énumérez 5 types de feuilles différentes :  
Donnez 1 exemple avec schéma (pour chaque type)

1 point

<b>ACADEMIE D'ORLEANS-TOURS</b>		
<b>Temps alloué au Total : 3 H</b>	Coefficient : 3	<b>CAP 1999</b>
Echelle :	Note Mini : /	Examen : FLEURISTE
Epreuve : EP 4 - TECHNOLOGIE		<b>SUJET</b>
<del>Ce sujet comporte : 4 feuille(s)</del>		<del>4 / 4</del>