

**VIE SOCIALE ET PROFESSIONNELLE**

Durée : 1 heure

**CAP** Boulanger + Charcutier préparation traiteur + Pâtissier glacier chocolatier confiseur + Préparateur en produits camés Option A +Poissonnier + Chocolatier confiseur + Industries chimiques + Agent de la qualité de l'eau + Plastiques et composites : mise en oeuvre des poudres et granulés + Installations thermiques + Froid et climatisation + Installations sanitaires + Exploitations d'installations industrielles + Couverture + Opérateur géomètre topographe + Graveur sur pierre + Métiers de la pierre + Construction et entretien des routes + Construction en ouvrages d'art + Construction, maçonnerie, béton armé + Carrelage mosaïque + Peinture, vitrerie, revêtements + Plâtrerie - plâtres et préfabriqués + Maintenance de bâtiments de collectivité + Arts du bois, option sculpteur orfèvre + Ebéniste + Sols et moquettes + Charpente + Menuiserie agencement + Fabrication industrielle de mobilier et menuiserie + Conducteur d'engins de travaux publics + Industries, maille, habillement + Entretien des articles textiles en entreprises artisanales et industrielles + Couture flou + Mode et chapellerie + Tailleur homme + Tailleur dame + Sellier harnacheur + Tapisserie d'ameublement couture décor + Tapisserie d'ameublement garniture décor + Micromécanique + Outillages en moules métalliques + Outillages à découper et emboutir + Mécanicien en tracteurs et matériels agricoles + Mécanicien d'engins de chantiers et travaux publics + Mécanicien en matériels de parcs et jardins + Mécanicien en maintenance de véhicules Options A - B - C - D + Equipement électrique-électronique automobile + Construction d'ensembles chaudronnés + Métallerie + Carrosserie Réparation + Peinture en carrosserie + Electrotechnique + Electrobobinage + Installations en équipements électriques + Conduite routière + Déménageur professionnel + Magasinage et Messagerie + Distribution et commercialisation des produits alimentaires + Distribution et commercialisation des équipements automobiles + Vente relation clientèle - vente visuelle + vente conseil + Quincaillerie + Fleuriste + Assurance + Employé librairie - papeterie - presse + Photographe + Sérigraphie + Arts de la reliure + Dessinateur d'exécution en communication graphique + Petite enfance + Prothésiste dentaire + Employé en pharmacie + Cuisine + Restaurant + Hébergement + Employé technique de collectivité + Café brasserie + Esthétique cosmétique - soins conseils + Coiffure + Maintenance et hygiène des locaux + Agent technique d'alimentation + Gestion des déchets et protection urbaine

Ce sujet comporte 4 pages

NOM : ..... Prénom : ..... N° d'inscr. : .....

1 - Jérôme vient d'obtenir son CAP de carrossier.

1.1 - Pourquoi doit-il s'inscrire à l'ANPE dès la sortie du système scolaire ?

Donnez 2 raisons.


2 pts

---

---



1.2 - Pour s'y retrouver dans l'environnement social que va désormais fréquenter Jérôme, il faut connaître les rôles de chacune de ces structures. Inscrire chacun de ces noms sur l'illustration correspondante : **CAF (Caisse d'Allocations Familiales), ANPE, Sécurité Sociale, ASSEDIC, Inspection du travail.**

2,5 pts





Pour vous aider à trouver un emploi  
Pour avoir un dossier de demandeur d'emploi  
Pour bénéficier des aides mises en place par l'Etat

Pour connaître vos droits en ce qui concerne la législation du travail  
- réglementation des contrats, du licenciement...  
- consultation des conventions collectives



Pour connaître vos droits en matière d'indemnisation du chômage :  
- différentes allocations  
- dossiers d'indemnisation

Pour connaître vos droits en ce qui concerne la protection sociale de la famille, des jeunes :  
- différentes aides  
- conditions d'attribution..



Pour connaître vos droits en matière de Santé  
- les formalités à accomplir  
- les remboursements et prises en charge

1.3 - Jérôme vient de sélectionner 2 offres d'emploi.

Que devra-t-il faire pour prendre contact avec les entreprises ?

2 pts

1 - Sté Lenormand - Equeurdreville  
embauche carrossiers-peintres  
pour un CDD de 9 mois.  
Merci d'adresser CV. lettre manuscrite et photo. sous la référence B 342 au journal qui transmettra.

2 - Garage Renouf - Z.I. Tourlaville  
recherche un carrossier, titulaire du CAF.  
Tél. pour rendez-vous au 02.33.45.52.37.

pour l'annonce 1 : \_\_\_\_\_

pour l'annonce 2 : \_\_\_\_\_

1.4 - Dans le cas d'une prise de contact par courrier, donner 3 conseils pratiques pour réussir la lettre accompagnant le C.V.

1,5 pt

\_\_\_\_\_

\_\_\_\_\_

\_\_\_\_\_

1.5 - Trois mois ont passé. Jérôme a été embauché par la Société Lenormand pour un C.D.I. Voici quelques extraits du contrat qui lui a été remis.

DISPOSITIFS INDIVIDUELS DE SECURITE

Il vous sera remis les dispositifs correspondant à votre profession (casque, lunettes. chaussures. etc.). Lors de leur réception vous devrez signer un reçu. Tout dispositif détérioré sera immédiatement remplacé par la Société. Vous êtes tenu de les maintenir en bon état et de les utiliser constamment

PERIODE D'ESSAI. PREAVIS ET APTITUDE MEDICALE

Ce contrat ne sera définitif qu'à l'issue d'une période d'un mois prenant fin le 21 février 2000. Pendant cette période d'essai chacune des parties pourra rompre le présent contrat sans préavis. Une inaptitude constatée lors de la visite médicale d'embauche annulerait de plein droit le présent contrat.

1.5.1. - Donner la signification du sigle C.D.I

0,5 pt

\_\_\_\_\_

1.5.2. - Donner un avantage du C.D.I

1 pt

\_\_\_\_\_

1.5.3. - Qu'est-ce que le préavis ?

0,5 pt

\_\_\_\_\_

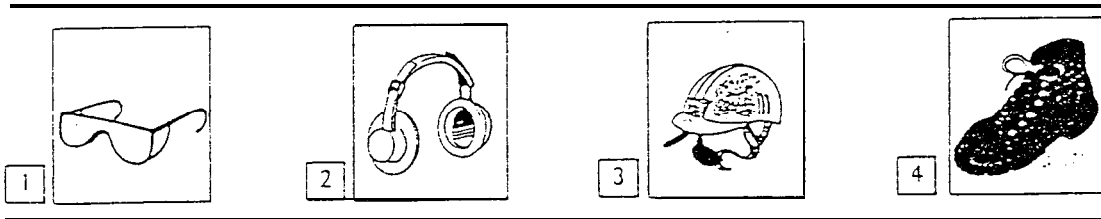
\_\_\_\_\_

\_\_\_\_\_

1.6 - Un équipement de protection individuelle a été remis à Jérôme.

1.6.1. - Pour chaque logo proposé, préciser les parties du corps protégées et les phénomènes dangereux évités.

2 pts



- 1 - \_\_\_\_\_
- 2 - \_\_\_\_\_
- 3 - \_\_\_\_\_
- 4 - \_\_\_\_\_

1.6.2. - Ne pas utiliser cet équipement serait une faute professionnelle.

Relevez dans le texte ce qui permet de l'affirmer.

1 pt

\_\_\_\_\_

2 - Les beaux jours arrivant, Jérôme a envie de laisser les transports en commun et de s'acheter un vélo. Le vélo qui le tente coûte 2 500 F. Le vendeur lui propose deux possibilités de paiement :

- Règlement au comptant : un seul versement de 2 500 F.
- Règlement à crédit : versement de 10 mensualités de 275 F chacune, auxquelles s'ajoute un supplément de 50 F de frais de dossier.

2.1 - Dans le tableau ci-dessous : (-0,5 pt par erreur)

2 pts

- Indiquer le coût du VTT dans les 2 cas.
- Proposer un avantage et un inconvénient pour chaque possibilité de paiement

	COUT	AVANTAGE	INCONVENIENT
Achat au comptant			
Achat à crédit			

2.2 - Faire du vélo, utiliser les transports en commun, c'est un comportement tout à fait recommandé. Pour quelles raisons ? (en citer deux)

1 pt

\_\_\_\_\_  
\_\_\_\_\_

2.3 - Les pistes cyclables sont de plus en plus réclamées en France. Les nuisances causées par la circulation automobile sont dénoncées par beaucoup de nos concitoyens : bruit, pollution de l'air, gaspillage des ressources énergétiques...

2 pts

Citer 2 conséquences sur la santé de l'individu :

- du bruit :

---

---

- de la pollution de l'air :

---

---

### 3 - Schéma de l'appareil auditif

Replacer les numéros du schéma dans les cases correspondantes.

2 pts

Chaîne des osselets	
Pavillon	
Nerf auditif	
Tympan	

