

Ce sujet est présenté sous la forme d'un cahier réponse. Il vous appartient de le compléter et de le rendre, agrafé dans le coin inférieur gauche à l'intérieur d'une copie d'examen dont vous aurez rempli l'en-tête.

	Barème	Notation
Entreprise et vie professionnelle (questions n°1 à 4)	7 pts	
Environnement et consommation (questions n°5 à 8)	6 pts	
Santé (questions n°9 à 11)	7 pts	
TOTAL	20 points	
Note sur 20 (en points entiers ou ½ points) :		/ 20

Métropole – La Réunion - Mayotte		Session 2007		
BEP TOUTES SPÉCIALITÉS				
Vie sociale et professionnelle				
SUJET	Lundi 4 juin 2007 (11 h - 11 h 30)	Durée : 30 minutes	Coef. 1	1 / 6

Jonathan, titulaire du BEP Maintenance des Véhicules et des Matériels, est à la recherche d'un emploi dans la région de Nantes, ville dans laquelle il emménage. Pendant ses loisirs, il envisage de pratiquer une activité sportive au sein d'un club.

Jonathan consulte les d'offres d'emploi dans un journal local. Il repère quatre annonces :

Date : 12/05/07 offre n°1
TECHNICIEN SUPERIEUR EN
MAINTENANCE DE VEHICULES
Entreprise de 150 salariés dans le
secteur industriel
Lieu : 44 Nantes
Avoir moins de 26 ans
Contrat d'apprentissage

Date : 2/05/ 2007 offre n°2
MECANICIEN AUTOMOBILE
Entreprise de 10 salariés
Petite concession de marque
française
Lieu : 44 Nantes
Accepté si Bac pro ou BEP
Contrat : CDD de 6 mois

Date : 30/04/2007 offre n°3
MECANICIEN AUTOMOBILE
Entreprise de 25 salariés
Secteur de l'automobile
Lieu : 29 Brest
Poste en mission intérim avec
embauche possible en fin de mission
BEP exigé

Date : 28/05/2007 offre n°4
MECANICIEN QUALIFIE
Entreprise de 40 salariés en pleine
expansion
Lieu : 44 Nantes et environs
Expérience de deux ans exigée en
plus du BEP

1. Choisir parmi celles-ci, l'annonce qui semble le mieux convenir à sa situation. Justifier la réponse par trois arguments.

Annonce choisie :

Justifications :

.....

.....

.....

.....

.....

BEP toutes spécialités	2007
Vie sociale et professionnelle	2 / 6

Document 1 :

DOPATIS Jonathan
12 rue des vignes blanches
Né le 20 mai 1989
N° SS : 1890549007654

FORMATION

2006 obtention du BEP Maintenance des Véhicules et des Matériels

STAGES EN ENTREPRISE

Juin 2005 3 semaines chez Mobilauto-SA
Février 2006 2 semaines dans la concession Dépanneplus

EMPLOIS SAISONNIERS

Juillet 2005 travaux agricoles : cueillette d'échalotes, castration de maïs
dans l'entreprise familiale

DIVERS

Loisirs : aime regarder la télévision et flâner avec les copains

JDOPATIS

Après lecture du document 1, répondre aux questions :

2. Relever quatre points négatifs de ce C.V.

-
-
-
-

3. Jonathan devra joindre un autre document à son C.V. Nommer ce document.

.....

BEP toutes spécialités	2007
Vie sociale et professionnelle	3 / 6

Jonathan espère un entretien d'embauche dans les prochains jours.

4. Lister quatre conseils pour réussir cet entretien d'embauche.

.....


.....

.....

.....

Jonathan s'installe dans un nouvel appartement. Il compare plusieurs propositions pour s'équiper d'un lave-linge. Voici trois modèles qu'il a retenus dans une publicité :

MODÈLE A




LIVRÉ 2823,76 F
399€⁹⁹

Programme stretch
Touche "couleurs foncées"

VELETTE VLF 5102

Capacité variable auto. de 1 à 6 kg. 15 programmes dont rapide. Essorage jusqu'à 1000 tr/min. Thermostat réglable. Départ différé. Conso. : 46 litres / 0,95 kWh. Énergie A+ / Lavage A / Essorage D. L 59 x H 85 x P 55 cm.

MODÈLE B




LIVRÉ 3917,34 F
459€⁹⁹

Chargement facile :
hublot 30 cm

FAURE FWG 3126

Capacité variable auto. de 1 à 6 kg. 12 programmes électroniques. Essorage jusqu'à 1200 tr/min. Thermostat réglable. Départ différé. Conso. : 52 litres / 1,02 kWh. Énergie A / Lavage A / Essorage B. L 60 x H 85 x P 55,2 cm.

MODÈLE C



LIVRÉ 4329,25 F
659€⁹⁹

Programmes rapides
Signal sonore
de fin cycle

BOSCH WAE 24460 FF

Capacité variable auto. de 1 à 6,5 kg. Sélecteur monocommande. Essorage jusqu'à 1200 tr/min. Départ différé, affichage écran. Conso. : 49 litres / 1,1 kWh. Énergie A / Lavage A / Essorage B. L 60 x H 85,2 x P 59 cm.

Existe sans départ différé : WAE 24160 FF à 559,99 €

Source : Publicité « Extra électroménager image et son »

5. Sensible au respect de l'environnement, indiquer deux critères qui vont guider son choix.

.....

.....

BEP toutes spécialités	2007
Vie sociale et professionnelle	4 / 6

6. Parmi les trois modèles proposés dans la publicité, indiquer le modèle à conseiller à Jonathan en fonction de sa situation personnelle (deux arguments attendus).

Modèle conseillé :

Arguments :

.....

.....

.....

.....

Jonathan reçoit sa facture d'électricité :

votre facture en détail *document à conserver 5 ans*

Votre référence client
12411 193 655 335 405

Réf. Point de livraison : 124 567293699 36

	relevé ou estimation en kWh			consomm. (en kWh)	prix kWh en euros	montant HT en euros	taxes locales	TVA	total TTC en euros
	ancien	nouveau	différence						
électricité compteur n° 245						(1) 46,67	4,47	7,67	58,81
abonnement						15,26			
7,63€ /mois du 12/09/06 au 12/11/06									
consommation HC du 17/07/06 au 13/09/06	09071	09285	214	214	* 0,0454	9,72			
28 jours à 0,0450€ + 28 jours à 0,0458€									
soit un prix moyen de 0,0454€									
consommation HP du 17/07/06 au 13/09/06	12727	13008	281	281	* 0,0772	21,69			
28 jours à 0,0765€ + 28 jours à 0,0778€									
soit un prix moyen de 0,0772€									

(1) y compris le coût d'acheminement de l'électricité pour 48% (% moyen pour le Tarif Bleu)

7. Relever la somme qu'il doit payer.

.....

8. Citer quatre gestes de la vie quotidienne pour réduire sa consommation d'électricité.

.....

.....

.....

.....

Pendant ses loisirs, il envisage de pratiquer une activité sportive au sein d'un club. Pour s'inscrire dans ce club, Jonathan doit fournir un certificat médical. Il prend alors rendez-vous chez le médecin.

9. Citer deux bienfaits de l'activité physique.

.....

.....

BEP toutes spécialités	2007
Vie sociale et professionnelle	5 / 6

6. Parmi les trois modèles proposés dans la publicité, indiquer le modèle à conseiller à Jonathan en fonction de sa situation personnelle (deux arguments attendus).

Modèle conseillé :

Arguments :

.....

.....

.....

.....

Jonathan reçoit sa facture d'électricité :

votre facture en détail *document à conserver 5 ans*

Votre référence client
12411 193 655 335 405

Réf. Point de livraison : 124 567293699 36

	relevé ou estimation en kWh			consomm. (en kWh)	prix kWh en euros	montant HT en euros	taxes locales	TVA	total TTC en euros
	ancien	nouveau	différence						
électricité compteur n° 245						(1) 46,67	4,47	7,67	58,81
abonnement						15,26			
7,63€ /mois du 12/09/06 au 12/11/06									
consommation HC du 17/07/06 au 13/09/06	09071	09285	214	214	* 0,0454	9,72			
28 jours à 0,0450€ + 28 jours à 0,0458€									
soit un prix moyen de 0,0454€									
consommation HP du 17/07/06 au 13/09/06	12727	13008	281	281	* 0,0772	21,69			
28 jours à 0,0765€ + 28 jours à 0,0778€									
soit un prix moyen de 0,0772€									

(1) y compris le coût d'acheminement de l'électricité pour 48% (% moyen pour le Tarif Bleu)

7. Relever la somme qu'il doit payer.

.....

8. Citer quatre gestes de la vie quotidienne pour réduire sa consommation d'électricité.

.....

.....

.....

.....

Pendant ses loisirs, il envisage de pratiquer une activité sportive au sein d'un club. Pour s'inscrire dans ce club, Jonathan doit fournir un certificat médical. Il prend alors rendez-vous chez le médecin.

9. Citer deux bienfaits de l'activité physique.

.....

.....

BEP toutes spécialités	2007
Vie sociale et professionnelle	5 / 6





10. Indiquer le rôle du certificat médical.

.....

.....

Jonathan profite de ce rendez-vous pour demander des conseils de nutrition ; son médecin lui a remis un tract élaboré dans le cadre du PNNS (Programme National Nutrition Santé) dont voici un extrait :

11. Identifier les constituants alimentaires et justifier chaque conseil donné dans ce document en complétant le tableau ci-dessous :

CONSEILS	JUSTIFICATIONS
<p>Fruits et légumes</p> 	<p>- <u>Constituants alimentaires</u> :</p> <p>.....</p> <p>.....</p> <p>- <u>Justifications du conseil</u> :</p> <p>.....</p> <p>.....</p>
<p>Lait et produits laitiers (yaourts, fromages)</p> 	<p>- <u>Constituants alimentaires</u> :</p> <p>.....</p> <p>.....</p> <p>- <u>Justification du conseil</u> :</p> <p>.....</p> <p>.....</p>
<p>Matières grasses ajoutées</p> 	<p>- <u>Constituant alimentaire</u> :</p> <p>.....</p> <p>- <u>Justifications du conseil</u> :</p> <p>.....</p> <p>.....</p>
<p>Produits sucrés</p> 	<p>- <u>Constituant alimentaire</u> :</p> <p>.....</p> <p>- <u>Justifications du conseil</u> :</p> <p>.....</p> <p>.....</p>

Source : Ministère de la Santé et des Solidarités et INPES (Institut National de Prévention et d'Education pour la Santé)

BEP toutes spécialités	2007
Vie sociale et professionnelle	6 / 6