

SOMMAIRE

1- CONNAISSANCE DES MATERIAUX :

Question a : /8
Question b : /2
Question c : /2

2- CONNAISSANCE DU MATERIEL :

Question a : Mode opératoire d'une douure : /12
Question b : Protection et sécurité : /1

3- EVOLUTION DE L'ECRITURE :

Question a : Histoire de l'art et de l'écriture : /5
Question b : Classification A Typ1 : /10
Question c : Monogramme : /14

TOTAL DES POINTS :

/60

Note sur 20 :

/20

SUJET

CAP & Mention Complémentaire
« Graveur sur pierre »

Epreuve écrite :

TECHNOLOGIE ET PREVENTION DES ACCIDENTS

Les documents réponses seront remis et agrafés dans une copie anonymée

Groupement inter-académique	Session 2005	SUJET
C.A.P. & Mention complémentaire <<Graveur sur Pierre>>		
Epreuve écrite de :		
"Technologie et prévention des accidents"		
Durée : 1h 30'	Coef: 3	page 17/5

b) Analysez ces photos prises dans une entreprise. Quelles remarques pouvez-vous faire concernant les conditions de sécurité ?



1-.....
 2-.....
 3-.....



1-.....
 2-.....
 3-.....



1-.....
 2-.....



1-.....

Groupement inter-académique	Séssion 2006	SUJET
C.A.P. & Mention complémentaire <<Graveur sur Pierre>>		
Epreuve écrite de :		page 3/5
"Technologie et prévention des accidents"		Coef.: 3
Durée : 1h 30'		

3) EVOLUTION DE L'ECRITURE

- a) On vous demande de réaliser une plaque commémorative pour un édifice public.
A quel type de caractère proposé ci-dessous associeriez-vous les architectures suivantes ?



Document A



Document B



Document C



Document D



Document E

Caractères	Architectures
A	
B	
C	
D	
E	




Photo 1




Photo 4




Photo 3




Photo 2





Photo 5

/5


Groupement inter-académique	Session 2005	SUJET
C.A.P. & Mention complémentaire <<Graveur sur Pierre>>		
Epreuve écrite de :		Durée : 1h 30' Coef. : 3
"Technologie et prévention des accidents"		page 4/ 5

- b) Classez les alphabets présentés à la question précédente selon la classification A Typ1 (Mettez une croix dans la case correspondante): /10

	Doc A	Doc B	Doc C	Doc D	Doc E
Humanes, Garamdes, Réales					
Didones					
Mécanes					
Linéales					
Incises					
Manuaires					
Scriptes					
Fractures					
Formes étrangères					



- c) Le directeur de ce même restaurant souhaiterait que vous lui présentiez un projet (au crayon de papier) de monogramme comportant ses initiales « AC ». Vous pourrez vous inspirer des modèles ci-dessous pour le tracer dans la cadre prévu à cet effet. /14



Groupement inter-académique	Sesslon 2005	SUJET
C.A.P. & Mention complémentaire <Graveur sur Pierre>		
Epreuve écrite de :		Durée : 1h 30'
"Technologie et prévention des accidents"		Coef. : 3
		page 5/ 5