

Académie : _____ Session : _____
 Examen : _____ Série : _____
 Spécialité/option : _____ Repère de l'épreuve : _____
 Epreuve/sous épreuve : _____
 NOM : _____
 (en majuscule, suivi s'il y a lieu, du nom d'épouse)
 Prénoms : _____ N° du candidat
 Né(e) le : _____ (le numéro est celui qui figure sur la convocation ou liste d'appel)


NOTE

Appréciation du correcteur



Corrigé Toutes les réponses sont à 0,5 point

CAP MENUISIER EN SIEGES - Session 2009
Epreuve : Etude des Styles et des Techniques dans l'Ameublement

Quel est le nom de ce siège : 1
Caquetoire
 Quel est son style :
Renaissance, ou Henri II
 De quel siècle : **...XVI...**
 Quel est le nom de la forme de son assise : **Trapézoïdale**
 Après avoir utilisé le bois de : **Chêne**
 Au Moyen age, quel est le bois qui va être de plus en plus utilisé ? : **Noyer**
 Quelle technique est utilisée pour fabriquer les pieds antérieurs ? : **Tournage**
 Sur son dossier un motif est sculpté.
 Quel est le nom de ce motif : **Arc en plein cintre**
 D'où vient ce motif ? : **Antiquité romaine**




Quel est le nom de ce siège : 2
Fauteuil cabriolet
 Quel est son style :
Louis XVI
 De quel siècle : **XVIII^e**
 Quelle est la forme géométrique de son dossier ? :
Trapézoïdale
 Les pieds sont ? :
Cannelés
 D'où vient ce motif ? :
de l'Antiquité greco-romaine
 A cette époque les bois des sièges peuvent être en naturel, Mais aussi recouverts de deux manières. Quelles sont elles ? :
...Dorure
...Peinture



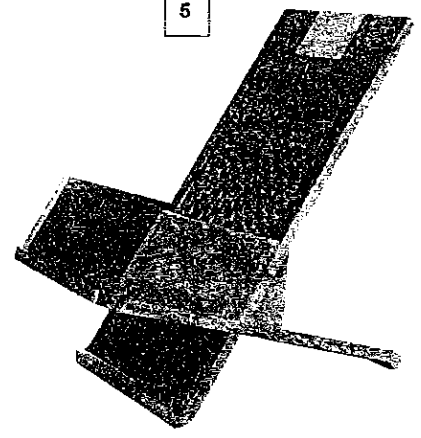
3

Quel est le nom de ce siège :
...Fauteuil curule
 Quel est son style :
...Directoire
 De quel siècle : **...fin XVIII**
 Il est une interprétation d'un siège d'une époque ancienne, quelle est cette époque ? : **Antiquité romaine**



4

Quel est le nom de ce siège :
...chaise volante
 Quel est son style :
...Napoléon III
 De quel siècle : **XIX^e**
 Quelle est la décoration qui s'ajoute au bois teinté noir ? : **...Nacre**
 Son assise est ? :
...Capitonée



5

Quel est le nom de ce siège :
...Fauteuil de lecture ou repos
 Quel est son style :
...Art Déco
 De quel siècle : **XX^e**
 D'où vient son influence ? :
...Afrique


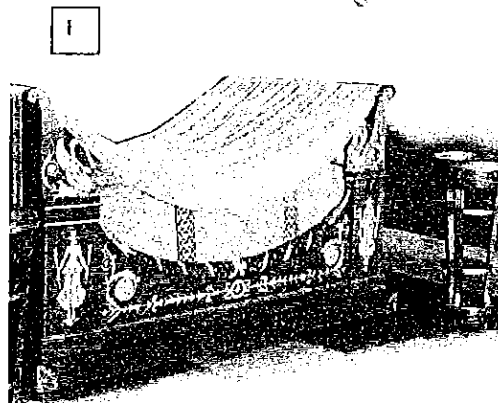


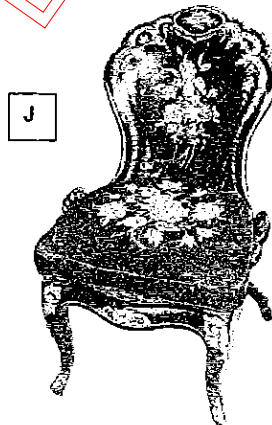
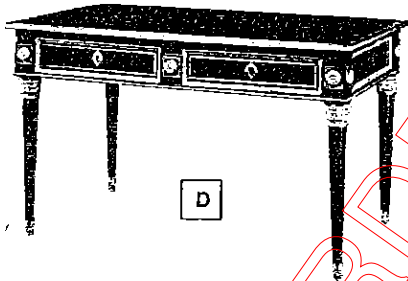



Ne rien inscrire dans ce cadre

Corrigé

Toutes les réponses sont à 0,5 point

Dix meubles sont présentés ci-dessous. Inscrivez dans les cases respectives les lettres qui correspondent aux sièges de la page 1/2

Siège 1	Siège 2	Siège 3	Siège 4	Siège 5
B - G	A - D	C - I	F - J	E - H



CAP MENUISIER EN SIEGES

Repère 50 23411

Session juin 2009

Epreuve : Etude des styles et des techniques dans l'ameublement

Durée 1h

Coefficient 1

Page 2/2