

DANS CE CADRE

NE RIEN ECRIRE

Académie : _____ Session : _____
 Examen : _____ Série : _____
 Spécialité/option : _____ Repère de l'épreuve : _____
 Epreuve/sous épreuve : _____
 NOM : _____
 (en majuscule, suivi s'il y a lieu, du nom d'épouse)
 Prénoms : _____ N° du candidat _____
 Né(e) le : _____ (le numéro est celui qui figure sur la convocation ou liste d'appel)

NOTE

Appréciation du correcteur


CAP MENUISIER EN SIEGES - Session 2009
Epreuve : Etude des Styles et des Techniques dans l'Ameublement

1
 Quel est le nom de ce siège ? :

 Quel est son style ? :

 De quel siècle ? :
 Quel est le nom de la forme de son assise :
 Après avoir utilisé le bois de ? :
 Au Moyen age, quel est le bois qui va être de plus en plus utilisé ? :
 Quelle technique est utilisée pour fabriquer les pieds antérieurs ? :
 Sur son dossier un motif est sculpté. Quel est le nom de ce motif ? :

 D'où vient ce motif ? :



2
 Quel est le nom de ce siège ? :



 Quel est son style ? :

 De quel siècle ? :
 Quelle est la forme de son dossier ? :

 Les pieds sont ? :

 D'où vient ce motif ? :

 A cette époque les bois des sièges peuvent être en nature, Mais aussi recouverts de deux manières. Quelles sont elles ? :




3

Quel est le nom de ce siège ? :

 Quel est son style ? :

 De quel siècle ? :
 Il est une interprétation d'un siège d'une époque ancienne, quelle est cette époque ? :

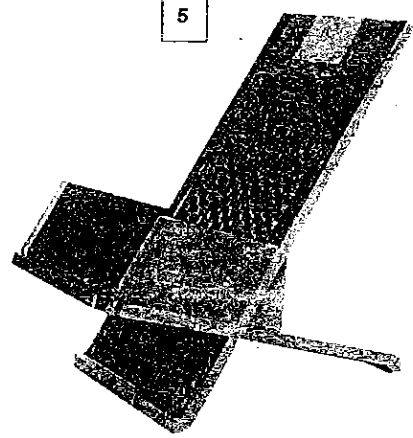


4

Quel est le nom de ce siège ? :

 Quel est son style ? :

 De quel siècle ? :
 Quelle est la décoration qui s'ajoute au bois teinté noir ? :
 Son assise est ? :



5

Quel est le nom de ce siège ? :

 Quel est son style ? :

 De quel siècle ? :
 D'où vient son influence ? :

Ne rien inscrire dans ce cadre

Dix meubles sont présentés ci-dessous. Inscrivez dans les cases respectives les lettres qui correspondent aux sièges de la page 1/2

Siège 1	Siège 2	Siège 3	Siège 4	Siège 5



CAP MENUISIER EN SIEGES

Repère 50 23411

Session juin 2009

Epreuve : Etude des styles et des techniques dans l'ameublement

Durée 1h

Coefficient 1

Page 2/2