

SESSION 2006

C.A.P.

**TAILLEUR DE PIERRE - MARBRIER DU  
BATIMENT ET DE LA DECORATION**

**Épreuve EP3-UP3**

**Réalisation de tracés professionnels.**

Ponctuelle: Ecrite et Pratique

CONTENU	4 DOCUMENTS	CONSIGNES
1/4	Fiche contrat : travail demandé et barème.	
2/4	Perspective de l'entrée.	
3/4	Élévation de l'ensemble de l'arcade à calépinier. (Document de calépinage écrit à rendre).	A la fin de l'épreuve, rendre aux correcteurs avec votre numéro de candidat, l'ensemble de ce dossier avec les éléments produits.
4/4	Dessins de l'épure et des gabarits à réaliser.	
EP3 sur . . . /20		
<b>DURÉE: 4 heures</b>		
<b>Coef.: 4</b>		

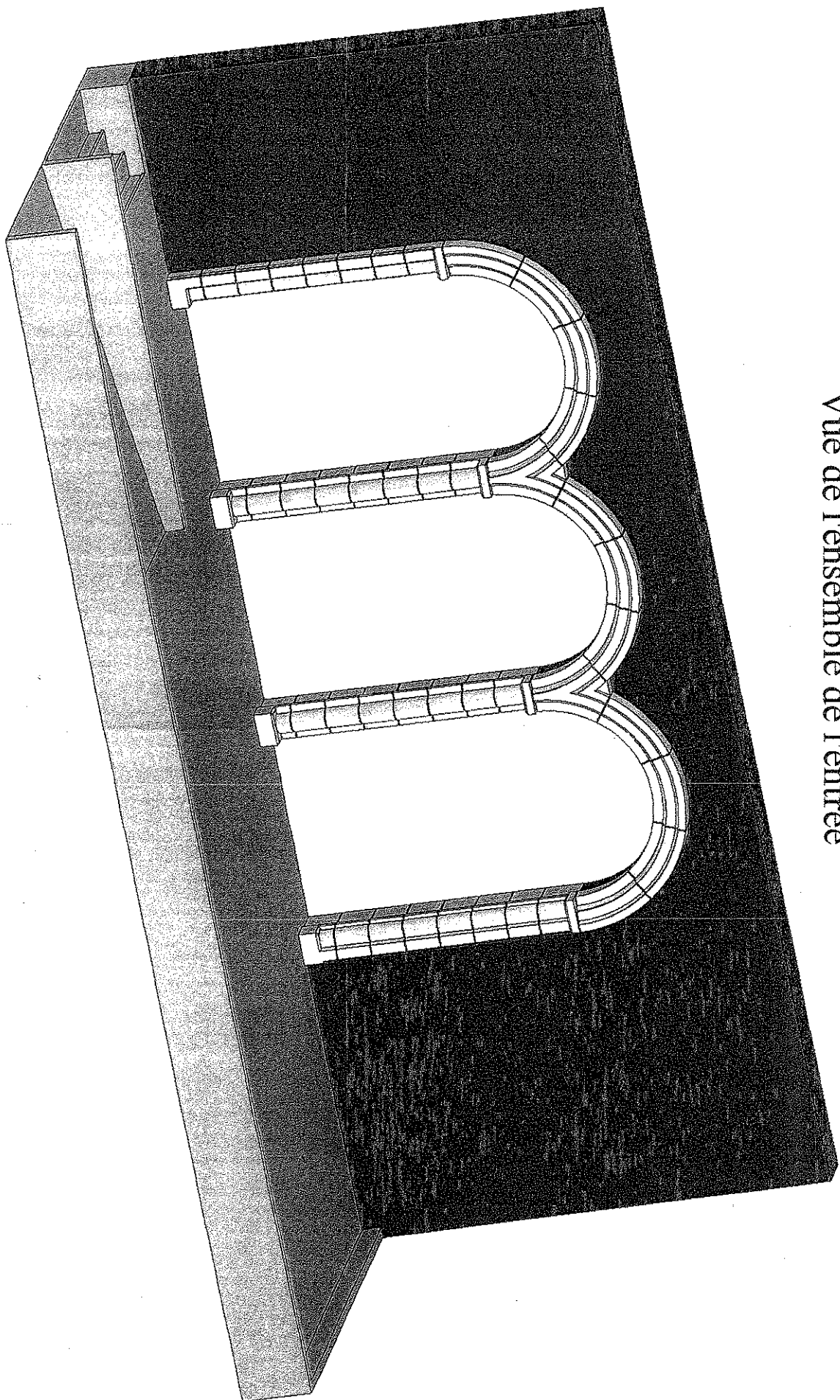
**Contexte :** Un projet d'aménagement de l'entrée d'un bureau de poste avec rampe d'accès est à l'étude.

ON DONNE	ON DEMANDE	ON EXIGE	NOTES
<p>- La vue de face de l'ensemble de l'arcade, page 3 / 4 de ce dossier.</p>	<p>1) De calepiner l'ensemble des arcs et leurs jambages, sur le document réponse page 3 / 4.</p>	<p>Un calepinage juste et exploitable. (Document page 3 / 4 à rendre).</p>	<p>/20</p>
<p>Une surface d'épure, nécessaire à la réalisation de 2000 x 1500 mm.</p> <p>Les dessins nécessaires à cette réalisation page 4/4 de ce dossier. (Epure à réaliser).</p>	<p>2) De réaliser la demi épure d'un demi arc et du sommier en doubleau, sans les jambages, d'après les données de la page 4 / 4.</p> <p>L'épure doit être composée du :</p> <ul style="list-style-type: none"> <li>- panneau de tête des éléments complets.</li> <li>- du tracé de la mouluration des arcs.</li> </ul>	<p>Une épure exacte et complète.</p>	<p>/80</p>
<p>Une feuille de calque dur de 1000 x 1200</p> <p>Les dessins nécessaires à cette réalisation page 4/4 de ce dossier.</p>	<p>3) Réaliser sur calque dur, les gabarits du sommier en doubleau nécessaires à sa réalisation (panneaux de joint, panneau de tête, contre profils, cerces).</p>	<p>Des profils et contre profils justes et utilisables.</p>	<p>/100</p>
<p style="text-align: right;">Total des points =</p>			<p>/200</p>
<p><b>Note Epreuve EP3 = . . . . /20</b></p>			

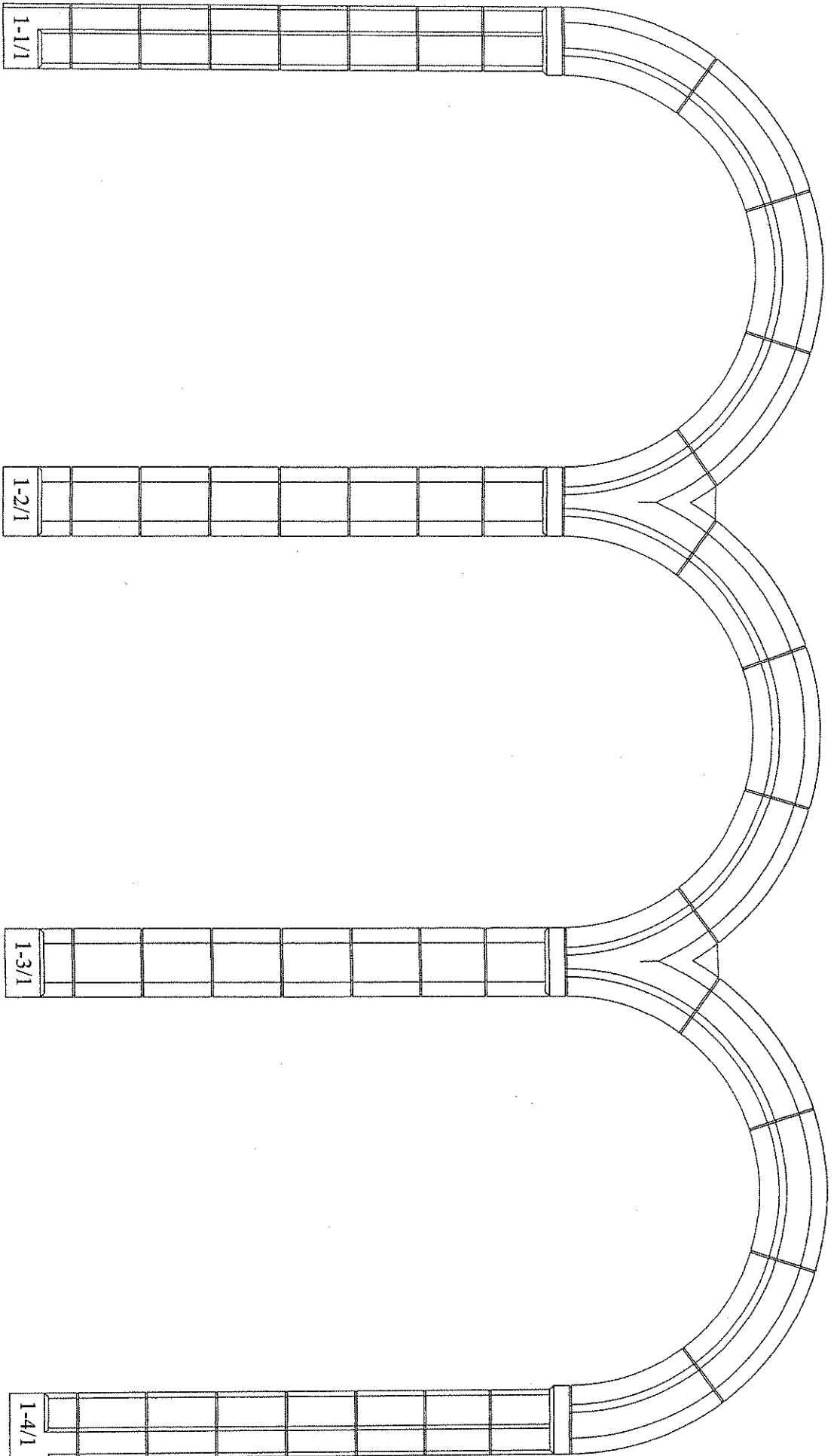
**FICHE  
CONTRAT**

Groupement "Est"	Session 2006	<b>S U J E T</b>		TIRAGES
CAP Tailleur de pierre, marbrier du bâtiment et de la décoration		Code(s) examen(s) :		
Épreuve : EP3 – UP3 Réalisation de tracés professionnels.		Durée: 4 h	Coef.: 4	
Partie: écrite et pratique.		Page 1 / 4		

# Vue de l'ensemble de l'entrée

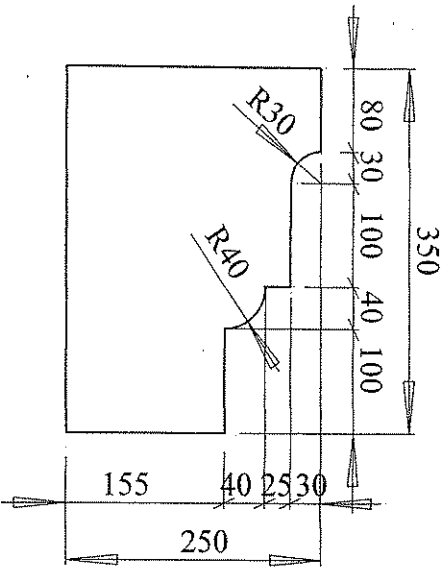


Groupement "Est"	Session 2006	S U J E T		TIRAGES
CAP Tailleur de pierre, marbrier du bâtiment et de la décoration.		Code(s) examen(s) :		
Épreuve : EP3 – UP3 Réalisation de traces professionnels.		Durée: 4h	Coef.: 4	
Partie : écrite et pratique.			Page 2 / 4	



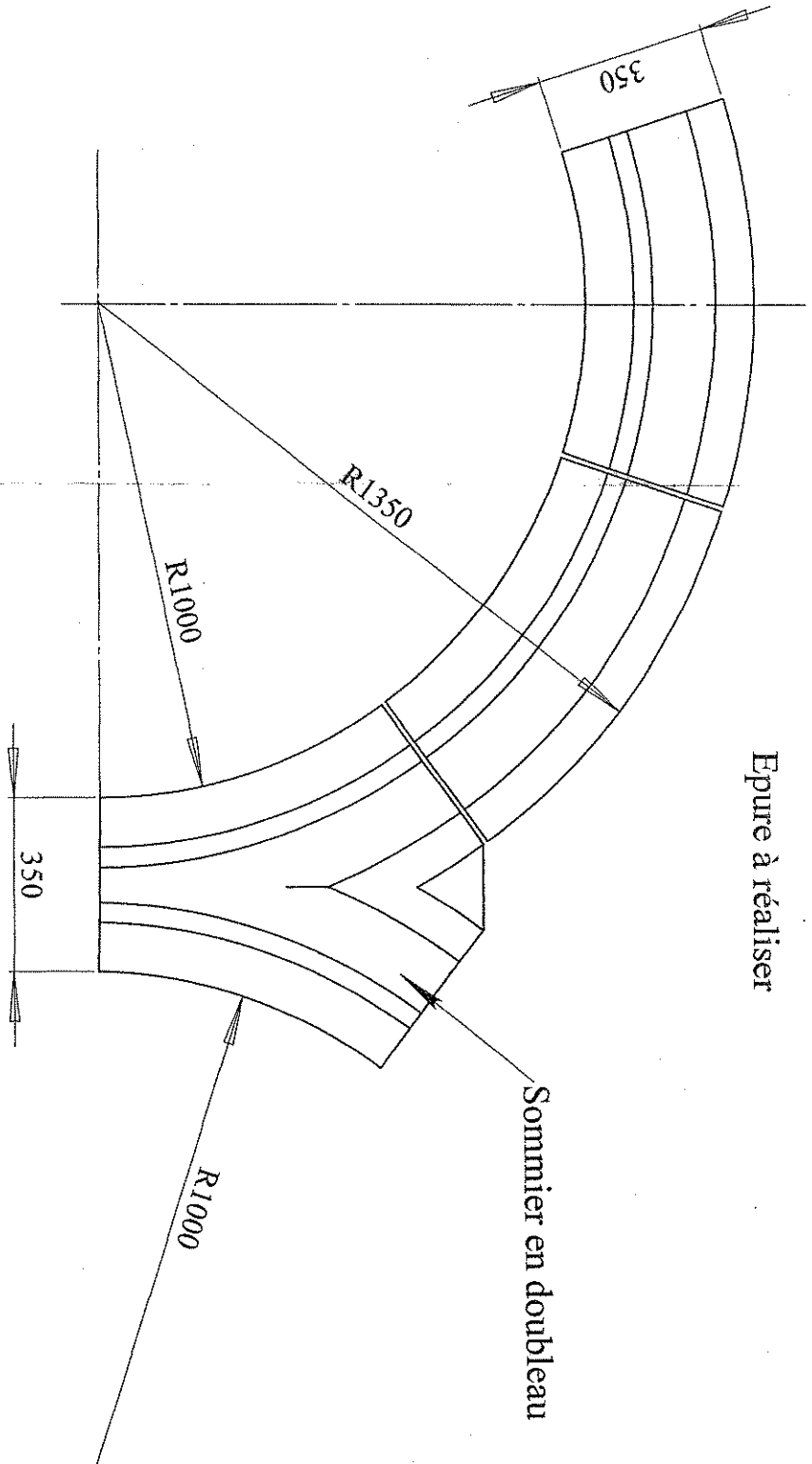
# Document réponse

Groupe ment "ES"		Session 2006		S U J E T		T I R A G E S	
CAP Tailleur de pierre, marbrier du bâtiment et de la décoration.				Code(s) examen(s) :			
Épreuve : EP3 -- UP3 Réalisation de tracés professionnels.				Durée: 4 h		Coef.: 4	
Partie : écrite et pratique.				Page 3 / 4			



Détail panneau de joint

Côtes en mm



Epure à réaliser

Arc en cinq voussoirs identiques avec joint de 1 cm

Groupement "Est"		Session 2006		S U J E T		T I R A G E S	
CAP Tailleur de pierre, marbrier du bâtiment et de la décoration.				Code(s) examen(s) :			
Épreuve : EP3 - UP3 Réalisation de tracés professionnels.				Durée: 4 h		Coef: 4	
Partie : écrite et pratique.				Page 4 / 4			