

A l'occasion de son anniversaire, Amélie relooke sa chambre, située dans une maison à caractère bourgeois.
Pour cela et sur les conseils de sa maman, elle choisit un style romantique.
Pour effectuer ce travail, vous devez répondre à ce questionnaire.



C.A.P

Spécialité: Tapissier-Tapissière d'ameublement en décor

Durée:
2h30

Session:
2008

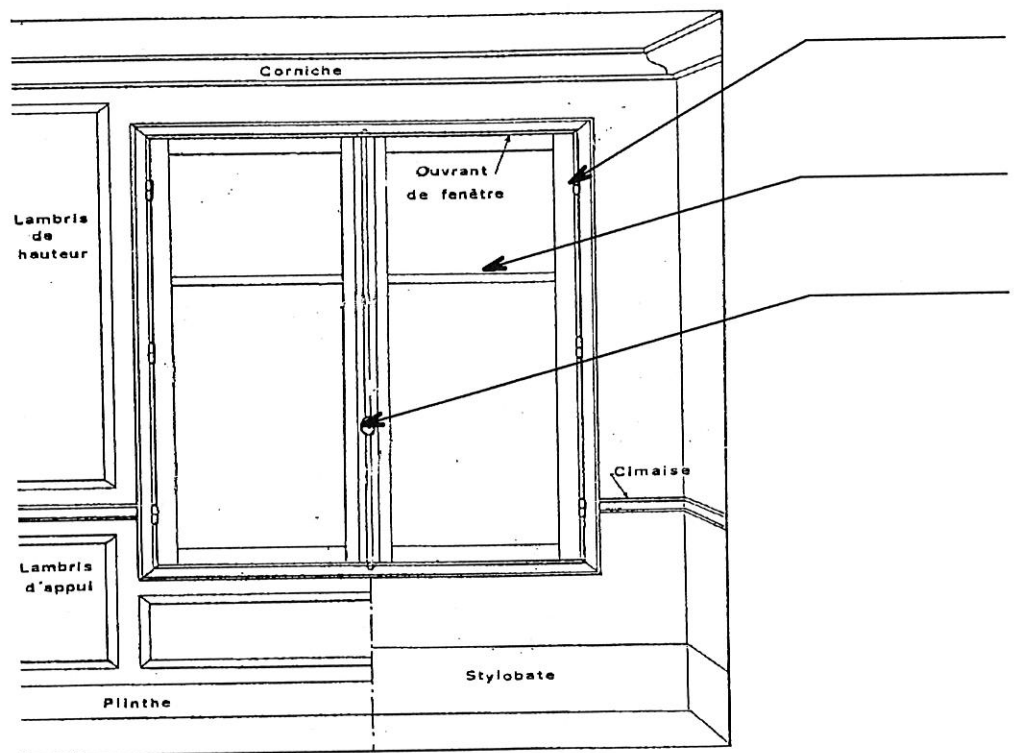
Epreuve: EP1 Analyse technique et préparation

N° Sujet : 08.63

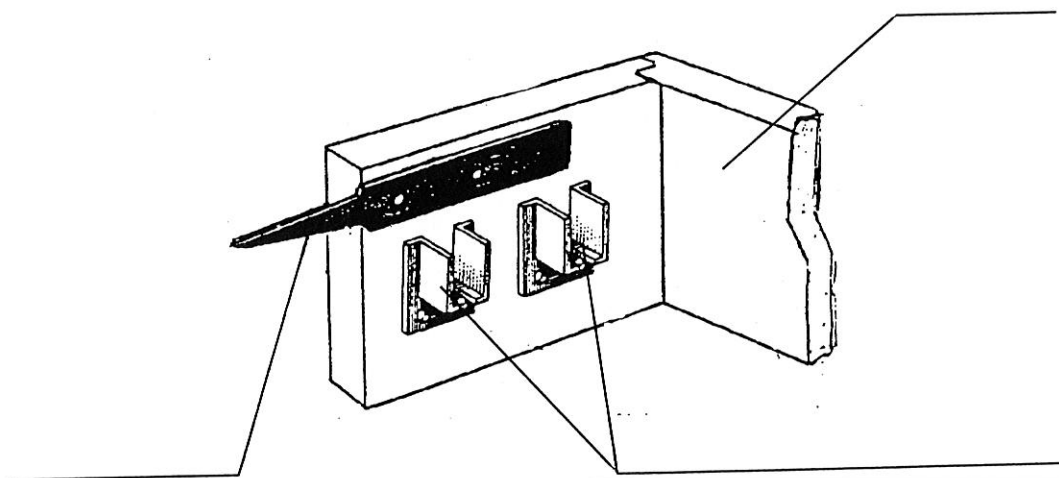
Coef
2

Doc
1/10

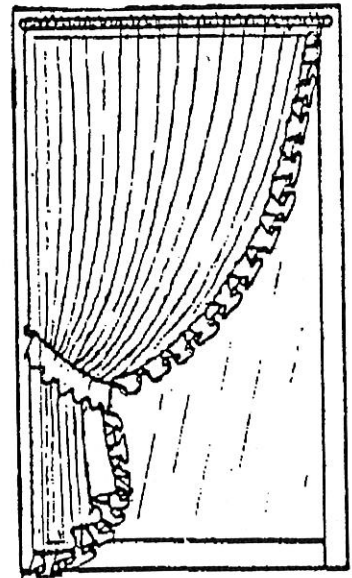

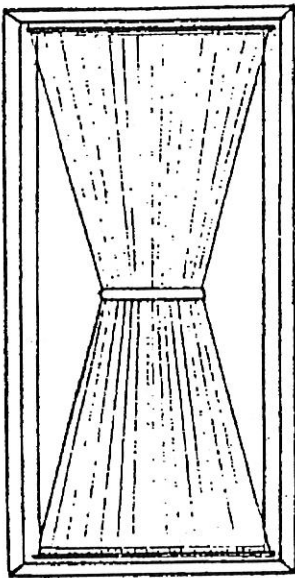
1) Citer les différentes parties de la fenêtre ci-dessous:



2) Nommer les divers éléments que composent ce schéma:



3) Citer le nom de ces vitrages :



4) Nommer l'espace compris entre les 2 lisières

5) Indiquer le nom du traitement d'une étoffe utilisée dans un lieu public

6) Relier à l'aide d'une flèche le terme correspondant à la définition.

Fil de chaîne

Point invisible réalisé en une seule opération

Point de
bague

Fixation lâche de la doublure à l'étoffe.
Longueur des points égale à 5 cm.

Point de
rentrature

Bande d'étoffe froncée, plissée ou drapée.

Fil de trame

Fils perpendiculaires aux lisières

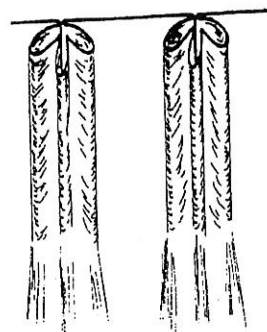
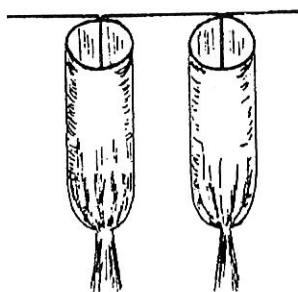

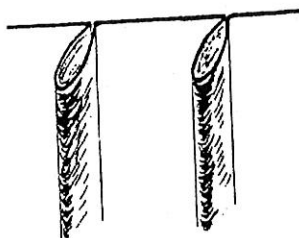
Volant

Fils parallèles aux lisières

7) Une cliente désire habiller une fenêtre de cuisine avec des vitrages.
Proposer 3 étoffes possibles

8) Enumérer 4 possibilités d'utilisation de rideaux

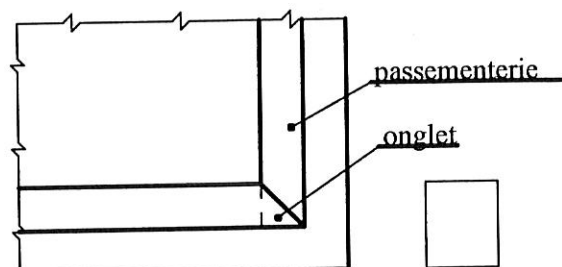
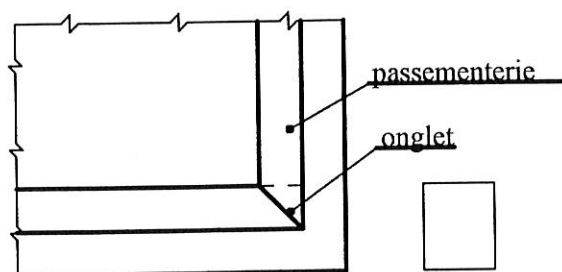
9) Citer le nom de chaque tête de rideau.



10) Citer la définition d'une contre doublure.

11) Vous devez poser un galon sur un rideau sans repère.
Nommer les procédés utilisés sans risque d'abimer l'étoffe.

12) Il vous faut réaliser un coin en onglet avec un galon sur un rideau.
Voici 2 exemples.
Sélectionner celui qui vous convient par une croix.



Justifier votre choix.

13) Relier à l'aide d'une flèche le terme correspondant à la définition.

Lézarde

Galon à crête festonnée, répétitive.

Gland

Pompons constitués de fil de coton de même longueur rassemblés par un fil. Elles se placent sous les fils de coussin ou de matelas.

Cartisane

Élément décoratif de passementerie pour terminer les embrasses.

Bouffette

Élément de passementerie de forme circulaire
Fils montés sur un moule. Permet de dissimuler des semences sur un siège ou un raccord de couture.

14) Citer le nom du matériel utilisé pour la pose d'un passepoil.

15) Vous réalisez une série de rideaux de façon semi-industrielle.

Quelles machines pensez-vous utiliser pour réaliser les cotés et les ourlets ?


16) Pour l'installation d'une barre de fixation murale, le plan de travail ci - dessous vous est proposé :

- 1- Introduire la barre dans les supports en la centrant,
- 2- Fixer les supports avec la visserie adéquat,
- 3- Placer les anneaux sur la barre,
- 4- suspendre votre voilage,
- 5- Tracer les repères de fixation des supports à égale distance de chaque coté de la fenêtre,
- 6- Tracer l'horizontalité des supports de barre à l'aide d'une règle et d'un niveau.



Reporter chaque numéro correspondant à l'ordre logique des opérations

17) En vous référant aux différentes photos ci-dessous, nommer chaque type de fenêtre.

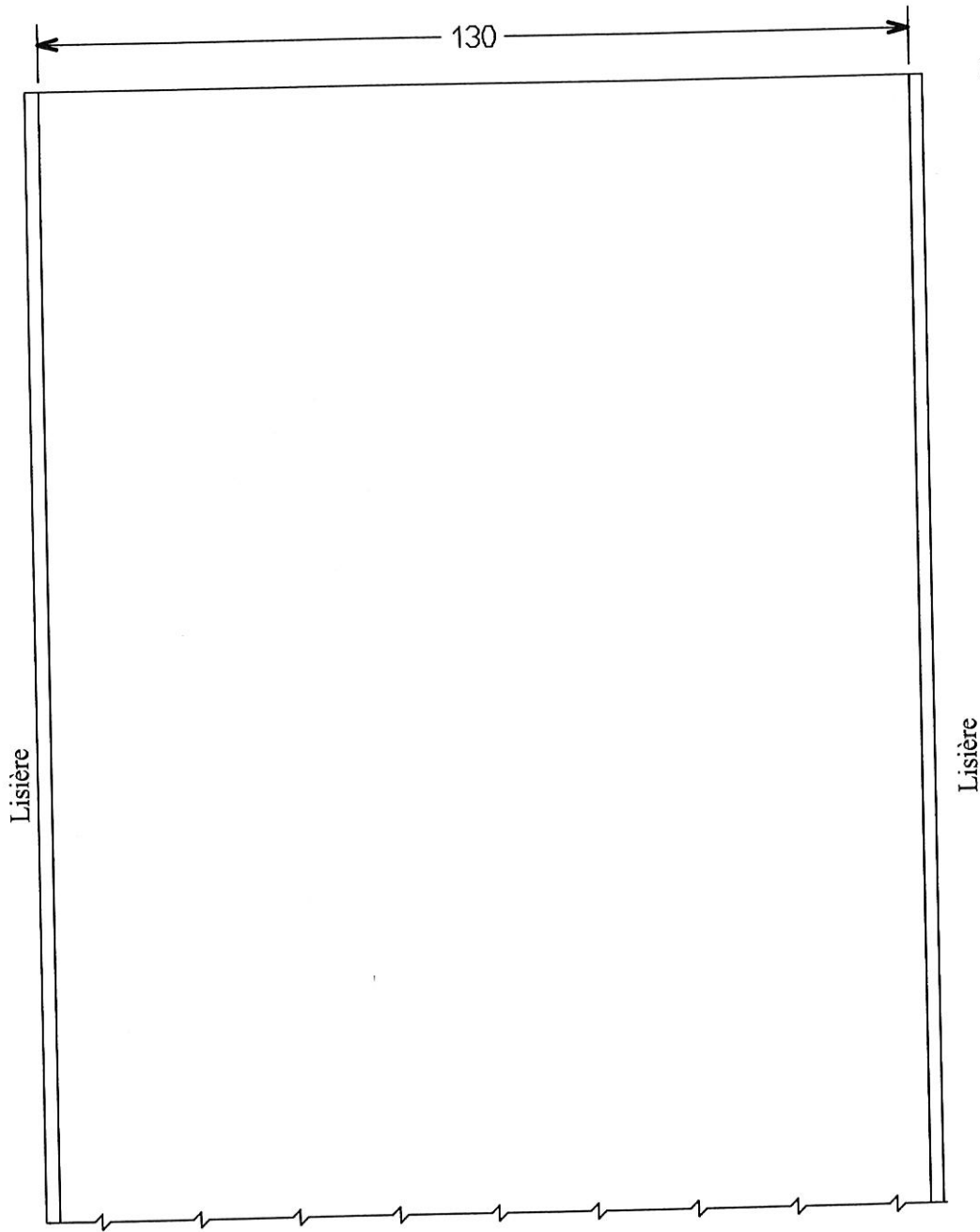


18) Plan de coupe :

Madame Humbert vous commande la réalisation d'un rideau à pattes.

Suivant le tableau ci-dessous, tracer les éléments à l'échelle 1/10.

Désignation	Nombre	Hauteur	Largeur
Rideau	1	1120	885
Ruban de tête	1	12	1120
Pattes	12	220	70



Echelle 1/10

Lisière

Lisière

Métrage nécessaire à l'échelle 1/10 = mm

Métrage nécessaire à l'échelle 1/1 = mm ou mètre(s)