


## TECHNOLOGIE

Pour la saison de l'été, l'entreprise <<MODE CHIC>> réalisera une série de 300 jupes en lin.  
Nous vous demandons de répondre aux questions suivantes :

- 1) Le tissu utilisé pour la fabrication de la jupe est une armure toile.  
Schématisez l'armure en coloriant les cases.



- 2) La jupe est en lin.  
Quelle est l'origine du lin ?  
Quels sont les avantages et les inconvénients de cette matière ?


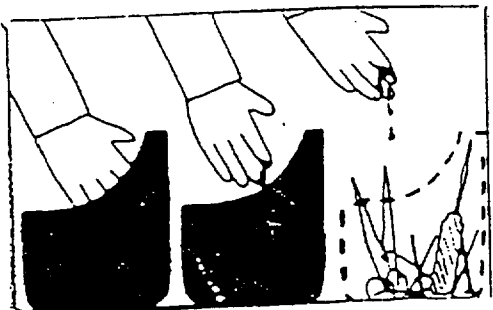
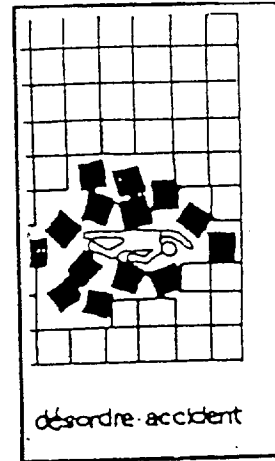

- 3) Citer les organes effecteurs intervenant dans la formation du point 504 ?

4) Citez 3 types de travaux pour le montage de l'enforme à la taille ?

5) L'entreprise <<MODE CHIC>> décide de changer l'implantation de l'atelier et de mettre en place un groupe autonome.  
Donnez la définition du groupe autonome.  
Citez les avantages.

6) A partir du document ressource, définissez au moins 5 règles de sécurité à respecter dans un atelier.

DOCUMENT RESSOURCE



DEFENSE DE FUMER