

## CE DOSSIER COMPREND :

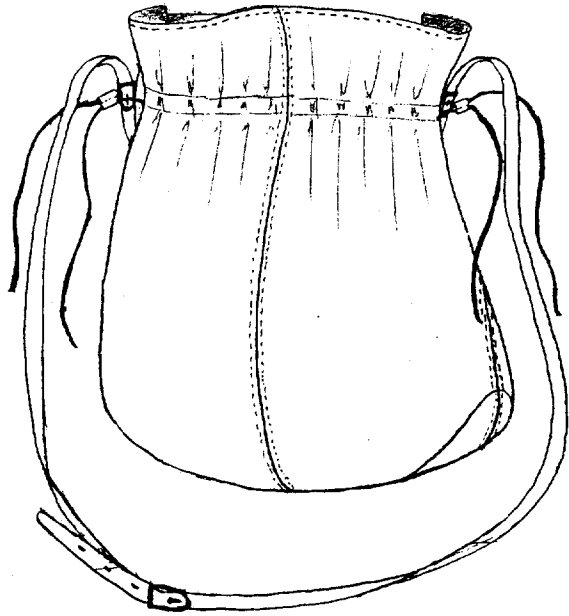
- 1/6 Page de garde
- 2/6 Extrait du cahier des charges
- 3/6 Travail demandé + nomenclature —————> à rendre
- 4/6 Proposition sol. Tech. + questions —————> à rendre
- 5/6 Gabarit – face, coté droit du sac « Bourse »
- 6/6 Gabarit – fond du sac « Bourse »

### Barème de notation : /20

- gabarits /9
- nomenclature /2
- tracé de section /2
- 1<sup>ère</sup> question /2
- 2<sup>ème</sup> question /5

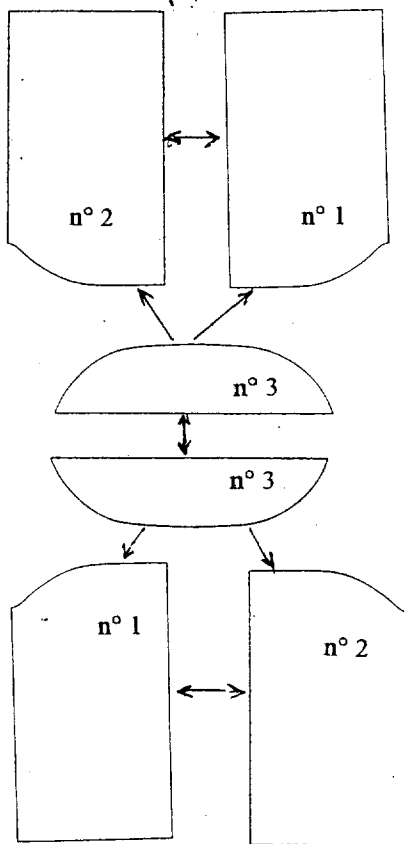
Groupement « Est »	Session 2002	Sujet	Tirages
<b>CAP MAROQUINERIE</b>		Code (s) examen(s) 24317	A
Epreuve : EP1 Préparation, mise en œuvre, arts appliqués	Durée totale CAP : 16h	Coeff. : 10	L
Partie : <b>Préparation</b>	Durée épreuve : 2 h	Page : 1/6	R

# Sac « Bourse »



## Extrait du cahier des charges :

Article de maroquinerie, réalisé en cuir souple, avec une majorité d'assemblages, piqués retournés, et surpiqués. Le haut est rembourdé sur un texon, contrecollé avec des réhausses en bords francs, et surpiqué. Il est doublé et comprend une poche double. Le fond ainsi que les faces sont en 2 parties.




3	2	Fonds
2	2	Faces - coté gauche -
1	2	Faces - coté droit -
<b>Rp</b>	<b>Nb</b>	<b>Désignation</b>

<b>Groupement « Est »</b>	<b>Session 2002</b>	<b>Sujet</b>	Tirages
<b>CAP MAROQUINERIE</b>		Code (s) examen(s) 24317	A
Epreuve : EP1 Préparation, mise en œuvre, arts appliqués	Durée totale CAP : 16h	Coeff. : 10	L
Partie : <b>Préparation</b>	Durée épreuve : 2 h	Page 2/6	R

La ligne du sac « Bourse » va être complétée d'une petite trousse de maquillage, de forme identique, seules les proportions seront diminuées de moitié.

## Trousse de maquillage



### description :

- cette trousse sera composée de deux faces, et d'un fond en un seul élément, qui seront assemblés en piqué, retourné, avec des valeurs de couture de 5mm
- elle ne sera pas doublée et le haut reste à définir
- un lien inséré dans des trous permettra la fermeture.

Conditions initiales	Travail demandé	Exigences de qualité
<ul style="list-style-type: none"> <li>- gabarits sac »Bourse » :                             <ul style="list-style-type: none"> <li>- face coté droit (5/6)</li> <li>- fond (6/6)</li> </ul> </li> <li>- fourniture :                             <ul style="list-style-type: none"> <li>- carton gris 250gr</li> </ul> </li> <li>- documents de travail</li> </ul>	<ul style="list-style-type: none"> <li>- réaliser à partir des gabarits du sac « Bourse » échelle 1/1, les gabarits de la petite trousse de maquillage à l'échelle 1/2, en tenant compte des modifications à apporter ( ne pas faire les perforations)</li> <li>- la finition du haut ouvert, est laissé à votre initiative</li> <li>- les gabarits devront comporter les valeurs de couture (laissées à votre initiative) et les indications nécessaires à la coupe</li> <li>- compléter la nomenclature (d'après vos gabarits)</li> <li>- tracer la section de votre proposition de finition du haut de la trousse</li> <li>- répondre aux questions</li> </ul>	<ul style="list-style-type: none"> <li>- respect des mesures et des contraintes</li> <li>- respect des techniques de gabarits</li> <li>- qualité du découpage des gabarits</li> </ul>

### Nomenclature à compléter d'après vos gabarits et à rendre :


Rp	Nb	DESIGNATION

Groupement « Est »	Session 2002	Sujet	Tirages
<b>CAP MAROQUINERIE</b>		Code (s) examen(s) 24317	A
Epreuve : EP1 Préparation, mise en œuvre, arts appliqués	Durée totale CAP : 16h	coeff. : 10	L
Partie : <b>Préparation</b>	<b>Durée épreuve : 2 h</b>	<b>Page 3/6</b>	R

Tracer dans le cadre ci-dessous, sous forme de section :

**document à rendre**

- votre proposition de finition du haut de la trousse, correspondant à vos gabarits



1 ère question :

Le sac « Bourse » est réalisé en cuir ***pleine fleur*** ; que signifie ce terme ?

2ème question :


Ce sac est réalisé en piqué, retourné et surpiqué.

Lorsque vous devez réaliser des surpiquûres, les points de la piqueuse plate doivent être bien réglés.

Quels défauts peuvent survenir, quelles en sont leurs causes et comment y remédier ? **Compléter le tableau.**

Défauts	Causes	Solutions à apporter

Groupement « Est »	Session 2002	Sujet	Tirages
CAP MAROQUINERIE		Code (s) examen(s) 24317	A
Epreuve : EP1 Préparation, mise en œuvre, arts appliqués	Durée totale CAP : 16h	Coeff. : 10	L
Partie : <b>Préparation</b>	Durée épreuve : 2 h	Page 4/6	R




N° 1

(valeurs de couture non comprises)

Groupement « Est »	Session 2002	Sujet	Tirages
<b>CAP MAROQUINERIE</b> Epreuve : EPI Préparation, mise en œuvre, arts appliqués Partie : Préparation	Durée totale CAP : 16h Durée épreuve : 2 h	Code (s) examen(s) 24317	A
		Coeff. : 10	L
		Page 5/6	R

M



(valeurs de couture non comprises)

N° 3

Groupement « Est »	Session 2002	Sujet	Tirages
<b>CAP MAROQUINERIE</b> Epreuve : EPI Préparation, mise en œuvre, arts appliqués Partie : Préparation		Code (s) examen(s) 24317	A
		Coeff. : 10	L
		Durée totale CAP : 16h Durée épreuve : 2 h	Page 6/6 R