

Groupement "Est"	Session 2002	Sujet	Tirages
C.A.P DESSINATEUR D'EXECUTION EN COMMUNICATION GRAPHIQUE		Code(s) examen(s) 32101	
Épreuve : EP1 Préparation, réalisation	Durée totale : 16H00	Coef : 8	A (B)
Partie B : Réalisation informatisée	Durée : 8H00	page : 1/4	

La FNAC vous demande de réaliser un dépliant : ce dépliant annonce un concours pour la fin de l'année avec des lots à gagner.

Caractéristiques techniques du dépliant :

- **impression quadri**
- **format** : 279 mm X 131 mm
- **typo**, le document utilise les polices suivantes :
 - Trebuchet MS/**Trebuchet MS bold** (corps : 3, 4, 6, 7)
 - Bauhaus Medium (corps : 12 - échelle horizontale à 150 % et corps : 8 - échelle horizontale à 120 %)
 - Zapf dingbats BT

On vous donne des documents papier :

- une sortie couleur du document final. (doc 2/4)
- le texte à importer et à composer (doc 3/4)
- le visage en modèle noir et blanc avec les indications couleur (doc 4/4)

On vous donne des éléments numériques dans le dossier "Dépliant FNAC CAP 2002" :

- 2 fichiers photoshop "images à détourer" (en tout 7 images)
- le fichier *texte FNAC*
- le fond illustrator du document à compléter.
- le modèle noir et blanc pour faire le tracé du visage.

On vous demande :

- **sur illustrator, de compléter l'image de fond en redessinant le visage d'après le modèle fourni et les indications couleurs données sur la sortie papier (doc 4/4) .**
- **sur photoshop, de détourer les 7 images.**
- **sur xpress, d'importer l'image de fond ainsi que les images détourées. Le texte sera importé et composé suivant le document de référence (doc 2/4) avec feuilles de style et tabulations.**

A rendre pour l'évaluation :

- une épreuve (noir & blanc) avec les repères de coupe et les bords perdus à 3 mm, centré dans la page de sortie A4 du document final xpress. La sortie imprimante comportera votre numéro de candidat.
- un dossier nommé "*numéro de candidat-FNAC*" et enregistré sur le bureau de votre ordinateur.

Attention ce dossier sera prêt à flasher, il devra comporter tous les éléments nécessaires !

Évaluation :

- qualité et justesse du tracé du visage sur illustrator
- qualité du détourage des 7 images sur photoshop
- traitement du texte (le texte est complet et composé de manière professionnelle)
- le travail est terminé (textes et images) et correspond parfaitement au modèle.
- le dossier est complet et conforme pour le flashage
- l'ensemble est correctement enregistré et imprimé

Groupeement "Est"		Session 2002	Sujet	Tirages COULEUR
C.A.P DESSINATEUR D'EXECUTION EN COMMUNICATION GRAPHIQUE			Code(s) examen(s) 32101	
Épreuve : EP1 Préparation, réalisation		Durée totale : 16H00	Coef : 8	A (B)
Partie B : Réalisation informatisée		Durée : 8H00	page : 2/4	

**GAGNEZ DES SOUVENIRS DE
LA FIN DU 2^{ème} MILLENAIRE !**

1^{er} lot



Televiseur Ecran Plasma
Thomson 42 WS 92 E

2^{ème} lot




Dvd de Packard Bell

3^{ème} lot




Ensemble "Home Cinema"
"Télévision 16:9" TV PEG4 32 PW 9116 et Configuration lecteur DVD
Pioneer DV-SB, Ampli Power VS 609 et Ecran Triangle Zucke

4^{ème} lot




Caméscope Numérique
JVC GR. DVL 9800 ST

5^{ème} lot



Appareil Photo Numérique
Nikon Coolpix 990

6^{ème} lot



Micro Chaîne lecteur et graveur CD
Pioneer Ultimate XMit-7

Et aussi :

- 3 Chaînes "Home cinema" Sony DAV-S300
- 3 Consoles PlayStation 2 avec le jeu "Tekken Tag" et le DVD "Matrix"
- 3 Assistants Personnel Visor Deluxe
- 3 Baladeurs MP3 Thomson Lyra
- 3 Baladeurs MiniDisc portables Sharp MDSR 70
- 1980 chèques-Cadeaux Fnac de 200 F

**AU TOTAL,
1001 CHANCES
DE GAGNER !**

JOYEUX NOEL 2000

Vos coordonnées (à remplir obligatoirement)

Nom :
Prénom :
Adresse :
Code Postal : Ville :

N° d'Adhérent :



Numéro d'Adhérent

- 1) Quel protocole permettait de naviguer sur internet depuis un téléphone mobile ?
 le bluetooth l'ADSL le WAP
- 2) Où se trouvait le Millenium Dome ?
 New-York Paris Londres
- 3) Lequel de ces formats d'image ne faisait pas partie des 3 formats de l'APS (Advanced Photo System) ?
 Classique Panoramique Carré
- 4) Quel système permettait de restituer chez soi les effets sonores des salles de cinéma ?
 THX Home Cinema Dolby Digital DRST

5) Combien existait-il de zones DVD différentes ?
 3 4 6

6) Quelle durée d'enregistrement les brevets MiniDisc pouvaient-ils contenir ?
 60 mn 74 mn 90 mn

7) Quel type de CD-ROM pouvait être enregistré plusieurs fois ?
 CD-RV CD-RX CD-RW

8) Que signifiait le sigle MP3 ?
 Music protocol export band audio 3 Media process expedition system audio 3 Motion picture expert group audio layer 3

Question subsidiaire :
Combien de dossiers techniques Fnac datés 2000 (2000 + été 2000) la Fnac a-t-elle imprimée ?



Groupement "Est"	Session 2002	Sujet	Tirages
C.A.P DESSINATEUR D'EXECUTION EN COMMUNICATION GRAPHIQUE		Code(s) examen(s) 32101	
Épreuve : EP1 Préparation, réalisation	Durée totale : 16H00	Coef : 8	A (B)
Partie B : Réalisation informatisée	Durée : 8H00	page : 3/4	

Téléviseur Ecran Plasma
Thomson 42 WS 92 E

Diva de Packard Bell

Ensemble "Home Cinéma" :
Télévision 16/9ème TV Philips 32 PW 9616 et Configuration lecteur DVD
Pionner DV-535, Ampli Pionner VSX 609 et Enceintes Triangle Zapping.

Caméscope Numérique
JVC GR DVL 9800 ST

Appareil Photo Numérique
Nikon Coolpix 990

Micro Chaîne lecteur et graveur CD
Pionner Ultima XMR-7

TEXTE À IMPORTER (FICHER JOINT)

Et aussi :

3 Chaînes "Home cinema" Sony DAV-S300
3 Consoles PlayStation 2 avec le jeu "Tekken Tag"
et le DVD "Matrix"
3 Assistants Personnel Visor Deluxe
3 Baladeurs MP3 Thomson Lyra
3 Baladeurs MiniDisc portables Sharp MDSR 70
1980 Chèques-Cadeaux Fnac de 200 F.

Vos coordonnées (à remplir obligatoirement)

Nom :

Prénom :

Adresse :

Code Postal : Ville :

N° d'Adhérent :

- 1) Quel protocole permettait de naviguer sur internet depuis un téléphone mobile ?
le bluetooth l'ADSL le WAP
- 2) Où se trouvait le Millenium Dome ?
New-York Paris Londres
- 3) Lequel de ces formats d'image ne faisait pas partie des 3 formats de l'APS (Advanced Photo System) ?
Classique Panoramique Carré
- 4) Quel système permettait de restituer chez soi les effets sonores des salles de cinéma ?
THX Home Cinema Dolby Digital DRST
- 5) Combien existait-il de zones DVD différentes ?
3 4 6
- 6) Quelle durée d'enregistrement les premiers MiniDisc pouvaient-ils contenir ?
60 mn 74 mn 90 mn
- 7) Quel type de CD-ROM pouvait être enregistré plusieurs fois ?
CD-RV CD-RX CD-RW
- 8) Que signifiait le sigle MP3 ?
Music protocol Media process Motion picture
export band expedition system expert group
audio 3 audio 3 audio layer 3

Question subsidiaire :

Combien de dossiers techniques Fnac datés 2000
(2000 + été 2000) la Fnac a-t-elle imprimée ?

Groupement "Est"	Session 2002	Sujet	Tirages
C.A.P DESSINATEUR D'EXECUTION EN COMMUNICATION GRAPHIQUE		Code(s) examen(s) 32101	
Épreuve : EP1 Préparation, réalisation	Durée totale : 16H00	Coef : 8	A (B)
Partie B : Réalisation informatisée	Durée : 8H00	page : 4/4	

Références colorimétriques à reporter

