

Examen ou concours : \_\_\_\_\_ Série\* : \_\_\_\_\_

Spécialité/option : \_\_\_\_\_

Repère de l'épreuve : \_\_\_\_\_

Épreuve/sous-épreuve : \_\_\_\_\_

*(Préciser, s'il y a lieu, le sujet choisi)*

*Numérotez chaque page (dans le cadre en bas de la page) et placez les feuilles intercalaires dans le bon sens.*

Note :  20
------------------

*Appréciation du correcteur (uniquement s'il s'agit d'un examen) :*

\* Uniquement s'il s'agit d'un examen.

# BEP Secteur A

## Vie Sociale et Professionnelle

### Session 2002

# **VIE SOCIALE ET PROFESSIONNELLE**

SITUATION :

*Nicolas vient de signer un C.D.D. d'une durée de 9 mois pour un poste de chaudronnier dans une entreprise de Valence. Il habitait jusque là chez ses parents à Chambéry. Cette nouvelle situation le stresse. Il a tendance à être insomniaque et voudrait trouver d'autres solutions que les somnifères.*

## **1- ANALYSE DE SITUATION**

Indiquez quatre modifications que la signature de ce contrat va entraîner dans la vie sociale et professionnelle de Nicolas.

-  
-  
-  
-

## **2- ENTREPRISE ET VIE PROFESSIONNELLE**

2.1- Donnez la signification du sigle C.D.D.

2.2- Citez deux autres types de contrat de travail.

-  
-

ACADEMIE DE GRENOBLE		SESSION 2002	
EXAMEN : B.E.P		Durée : 30 mn	
Epreuve : Vie sociale et professionnelle		Coefficient : 1	
Echelle :	Nb Tirage :	<b>SUJET</b>	Feuille : 1/5

2.3- Indiquez deux cas pour lesquels une entreprise peut signer un C.D.D.

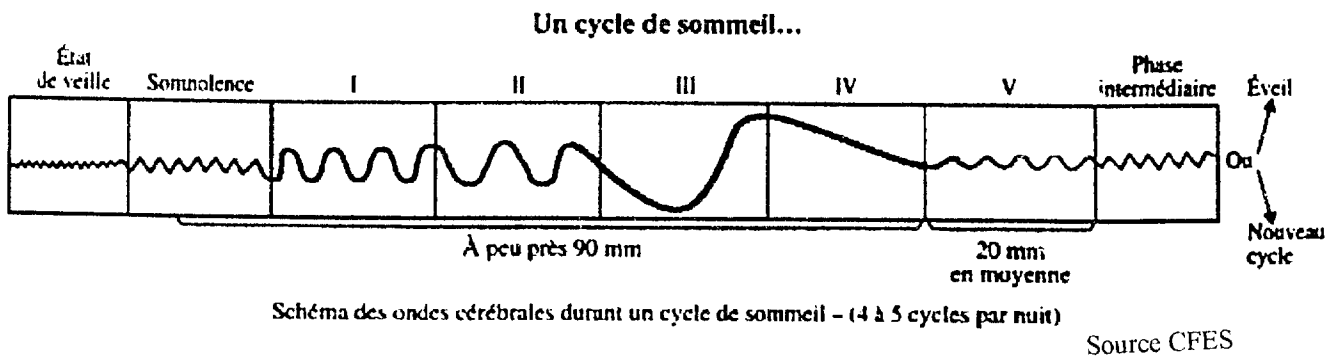
-  
-

### 3- SANTE

3.1- A partir du document 1, retrouvez :

- La durée moyenne du cycle de sommeil : de ----- à -----
- Le nombre de cycle de sommeil dans une nuit normale pour Nicolas : de ----- à -----

Document 1



3.2- Donnez trois rôles du sommeil.

-  
-  
-

3.3- Nicolas a tendance à être insomniaque.

Expliquez le terme insomnie.

ACADEMIE DE GRENOBLE		SESSION 2002	
EXAMEN : B.E.P		Durée : 30 mn	
Epreuve : Vie sociale et professionnelle		Coefficient : 1	
Echelle :	Nb Tirage :	<b>SUJET</b>	Feuille : 2/5

3.4- Énoncez quatre causes de l'insomnie.

-

-

-

-

-

3.5- Donnez quatre conseils à Nicolas pour améliorer son sommeil sans avoir recours aux somnifères.

-

-

-

-

ACADEMIE DE GRENOBLE		SESSION 2002
EXAMEN : B.E.P		Durée : 30 mn
Epreuve : Vie sociale et professionnelle		Coefficient : 1
Echelle :	Nb Tirage :	<b>SUJET</b>
		Feuille : 3/5

## 4- CONSOMMATION

Nicolas tient son compte bancaire à jour, il reçoit le document suivant :

Document 2

M. RENAUD Nicolas 2, rue des alouettes 73 000 CHAMBERY			
Relevé du 01-05-02 au 30-05-02		Date : 10-05-02	
BNP		Ancien solde : 353, 10 €	
N° compte : 9850147			
Date	Nature de l'opération	Débit	Crédit
04-05-02	Retrait CB	30,00	
05-05-02	Virement paye avril		969,75
07-05-02	Chèque n° 7018003	39, 45	
18-05-02	Prélèvement GAN	71, 17	
25-05-02	Chèque n° 7018007	113, 40	
26-05-02	Chèque n° 7018005	280, 95	
			Nouveau solde : 787, 45 €

4.1- Nommez ce document.

4.2- Expliquez les termes :

- crédit :
  
- débit :

4.3- A partir du document ci-dessus, donnez le montant sur le compte de Nicolas :

- le 01-05-02 :
  
- le 30-05-02 :

ACADEMIE DE GRENOBLE		SESSION 2002	
EXAMEN : B.E.P		Durée : 30 mn	
Epreuve : Vie sociale et professionnelle		Coefficient : 1	
Echelle :	Nb Tirage :	<b>SUJET</b>	Feuille : 4/5



4.4- Voici un extrait du chéquier de Nicolas :

04-05	Chèque 7018003	39, 45 €
10-05	Chèque 701 8004	292, 35 €
15-05	Chèque 7018005	280, 85 €
19-05	Chèque 7018006	75, 00 €
22-05	Chèque 7018007	113, 40 €

Dites si le nouveau solde inscrit sur le document 3, correspond à l'argent que Nicolas possède réellement sur son compte le 30-05-02. Justifiez votre réponse.

4.5- Calculez la somme d'argent qui lui reste réellement le 30-05-02. Posez votre calcul.

4.6- Nicolas a acheté un CD d'un montant de 22 € à ARR à Chambéry le 30-05-02. Complétez le chèque pour payer cet achat,

 <b>CAISSE D'ÉPARGNE DES ALPES</b>		 à rédiger exclusivement en euros
Payez contre ce chèque non endossable sauf au profit d'une banque, d'une Caisse d'Épargne ou d'un établissement assinié		somme en toutes lettres
A _____		€ _____
Payable en France	agence n° _____	compte n° _____
<b>13825 00200</b> <b>6 RUE RAYMOND BANK</b> <b>38026 GRENOBLE CED 1</b> <b>TEL. 04 76 28 32 12</b>		A _____ Le _____ Signature
<b>Mr Nicolas RENAUD</b> <b>2, rue des alouettes</b> <b>73000 CHAMBERY</b>		
Chèque N° _____		

ACADEMIE DE GRENOBLE		SESSION 2002	
EXAMEN : B.E.P		Durée : 30 mn	
Epreuve : Vie sociale et professionnelle		Coefficient : 1	
Echelle :	Nb Tirage :	<b>SUJET</b>	Feuille : 5/5