

VIE SOCIALE ET PROFESSIONNELLE AU BEPEPREUVE PONCTELLE

BAREME DE NOTATION

Rappel de la situation : Manon et Bruno MARTIN ; route de Chartreuse 38 000 GRENOBLE ; organisent leurs vacances d'été.

COMPETENCE	CRITERES DE REUSSITE	BAREME
Mobiliser des connaissances scientifiques, technologiques, juridiques	1.1- 2 résultats exacts, calcul posé 1.2.1- 2 réponses exactes 1.2.2- bordereau exact 3.2- 4 mentions obligatoires exactes 3.3- sigle complet exact 3.4- droits et obligations corrects	2 1 1 4 1 2
Analyser une situation	1.4 -2 démarches adaptées à la situation	2
Effectuer des choix raisonnés	1.3- 2 avantages et 2 inconvénients pertinents	2
Analyser un document	3.1- taux exact en rapport avec la situation	1
Compléter un document, un formulaire	2.1- schéma complet : 8 organes correctement identifiés	2
Inventorier des mesures individuelles de prévention	2.2- 4 propositions pertinentes	2
TOTAL		20 points

VIE SOCIALE ET PROFESSIONNELLE

SITUATION :

Manon et Bruno MARTIN ; route de Chartreuse 38 000 GRENOBLE ; organisent leurs vacances d'été. Ils ont opté pour un séjour en Méditerranée avec option plage et tourisme local pour une durée de deux semaines. Ils préparent leur budget en vue d'une location dans un village de vacances et de l'achat d'une planche à voile. Bruno a décidé de profiter de cette période de détente pour arrêter de fumer.

1- CONSOMMATION

1.1- Le jeune couple se décide pour l'achat d'une planche à voile à 580 €, le 1^{er} JUIN 2002 chez Duranton. Après étude de leur budget, Bruno et Manon optent pour l'achat à crédit. Ils signent l'offre de crédit. Ils paient leur planche à voile en 6 mensualités de 110 €.

Calculez le coût total de la planche et déduisez le coût du crédit.

2 pts

Posez vos calculs.

* coût de la planche : $6 \times 110 = 660 \text{ €}$

* coût du crédit : $640 - 580 = 60 \text{ €}$

1.2- Au bout de 5 jours, après la signature, ils désirent annuler leur achat.

1.2.1- Précisez le rôle du délai de rétractation et sa durée.

1 pt


* il permet d'annuler la vente

* le délai a une durée de 7 jours.

1.2.2- Complétez le bordereau de rétractation donné ci-dessous. (pas d'erreur pas d'oubli)

1 pt

Bordereau de rétractation

A renvoyer au plus tard le  par lettre recommandée avec accusé de réception

à : Cetelem, Service consommateurs, B.P. 502 - 92595 Levallois-Perret Cedex.

Offre préalable de crédit accessoire ou non à des contrats de vente, utilisable par fractions, et assortie d'une carte de crédit et d'avis de débit.

Cette rétractation n'est valable que si elle est adressée avant l'expiration des délais rappelés au verso du contrat (cf. I-2 relatif à la "rétractation de l'acceptation") Etablissement parfaitement rempli.


Je soussigné (e) M. MARTIN

demeurant Route de Chartreuse

38000 GRENOBLE

déclare renoncer à l'offre de crédit de 580 € de Cetelem, que j'avais acceptée le 1^{er} Juin 2002

chez DURANTON

Date :  06/06/02

Signature de l'emprunteur



Martin



ACADEMIE DE GRENOBLE		SESSION 2002	
EXAMEN : B.E.P		Durée : 30mn	
Epreuve : Vie sociale et professionnelle		Coefficient : 1	
Echelle :	Nb Tirage :	CORRIGE	Feuille : 1/3

1.3- Indiquez deux avantages et deux inconvénients que présente l'achat à crédit.

4 x 0,5=2 pts

Avantages	Inconvénients
<ul style="list-style-type: none"> - permet de profiter d'un bien immédiatement - Petites mensualités : étalement des paiements - Possibilité de rétraction protection par la loi sur le crédit. 	<ul style="list-style-type: none"> - Ne pas oublier de budgétiser les mensualités - Danger à cumuler les crédits : surendettement - Taux d'intérêt élevé : coût du crédit

Ils arrivent sur le lieu de vacances. Malheureusement, la location ne correspond pas à leurs attentes. La photo de la plaquette publicitaire est trompeuse. Le studio est mal équipé et les prestations promises par le centre de vacances ne sont pas respectées. Au retour de leur séjour, très mécontents, ils décident de faire des réclamations à l'agence concernée qui fait la « sourde oreille ».

1.4- Indiquez deux démarches possibles que peut entreprendre le couple pour obtenir réparation pour le préjudice subi ? 2 pts

* Courrier en recommandé avec accusé de réception à l'agence afin de proposer un règlement à l'amiable

* Intervention d'une association de consommateurs

* Médiation possible par l'intermédiaire de la DGCCRF (direction générale de la concurrence de la consommation et de la répression des fraudes) boîte postale 5000

* plainte auprès du tribunal d'Instance (litige > 50 000 F) pour dommages et intérêts

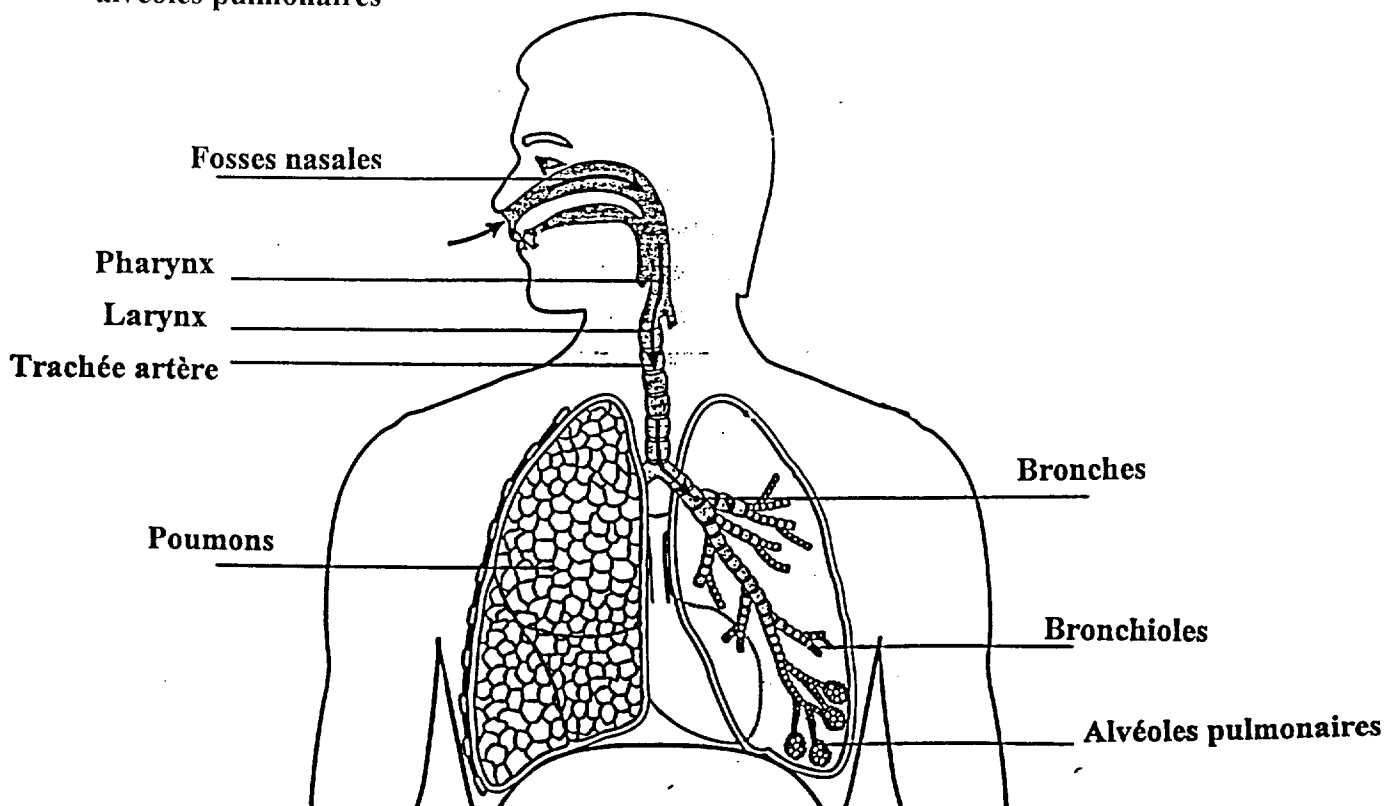
2- SANTE

2.1- Voici le schéma de l'appareil respiratoire et les principaux organes de cet appareil.

Reportez sur le schéma le nom de chacun de ces organes.

8 x 0,25 = 2 pts

Bronchioles – bronches – poumons – fosses nasales – trachée artère – larynx – pharynx – alvéoles pulmonaires



Source : Pochette Foucher VSP

ACADEMIE DE GRENOBLE		SESSION 2002
EXAMEN : B.E.P.		Durée : 30 mn
Epreuve : Vie sociale et professionnelle		Coefficient :
Echelle :	Nb Tirage :	CORRIGE
		Feuille : 2/3

2.2- Proposez à Bruno quatre méthodes pour arrêter de fumer

2 pts

- * développer des pôles d'intérêt : sport, bricolage, loisirs.....
- * les substituts de la nicotine : patch, médicaments, pâtes à mâcher....
- * auriculothérapie,
- * acupuncture
- * thérapie de groupe : plan de 5 jours, association d'anciens fumeurs.....

3- ENTREPRISE ET VIE PROFESSIONNELLE

3.1- En septembre 2002, Manon, âgée de 20 ans au 1^{er} septembre 2002, continuera son contrat de qualification pour la deuxième année dans un salon de coiffure.

Précisez le taux du SMIC que son employeur appliquera pour le calcul du salaire.

1 pt

Rémunération	16-17 ans	18-20 ans	21-25 ans
1 ^{ère} année	30% du SMIC	50% du SMIC	65% du SMIC
2 ^{ème} année	45% du SMIC	60% du SMIC	74% du SMIC

Le taux est de 60 %

3.2- Citez quatre éléments qui doivent obligatoirement figurer sur le contrat de travail signé par Manon.

4 pts

- * Les coordonnées de l'entreprise
- * La durée du temps de travail
- * La rémunération
- * La fonction, le poste occupé
- * La durée de la période d'essai
- * La convention collective si elle existe
- * La signature des deux parties

3.3- Donnez la signification du sigle SMIC

1 pt

Salaire Minimum Interprofessionnel de Croissance

3.4- Complétez le tableau ci-dessous en indiquant un droit et une obligation pour chacune des parties signant le contrat de travail

2 pts

PARTIES	DROITS	OBLIGATIONS
Employeur	Au licenciement réel et sérieux Aux heures sup. légales	Payer les heures de travail Respecter le code du travail
Salarié	Aux congés payés A la formation professionnelle A la démission	Faire le travail demandé Respecter le matériel Respecter les clauses de non concurrence

concurrence

ACADEMIE DE GRENOBLE		SESSION 2002	
EXAMEN : B.E.P.		Durée : 30 mn	
Epreuve : Vie sociale et professionnelle		Coefficient :	
Echelle :	Nb Tirage :	CORRIGE	Feuille : 3/3