

Académie de Grenoble

SESSION 1999

CAP PATISSIER GLACIER CHOCOLATIER CONFISEUR

CAP CHARCUTIER PREPARATION TRAITEUR

CAP PREPARATEUR EN PRODUITS CARNES

CAP BOULANGER

**Epreuve : EP4 Connaissance de l'entreprise et de son
environnement économique, juridique et social.**

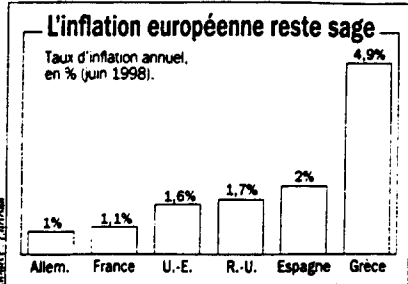
Questionnaire

Durée : 30 min

Coef : 1

↳ Ce dossier est à rendre agrafé et dans son intégralité.

ENVIRONNEMENT ECONOMIQUE



L'inflation s'est stabilisée dans l'Union européenne : en juin 1998, les prix à la consommation y ont progressé de 1,6%, le même rythme qu'un an plus tôt. En Allemagne et en France, la hausse des prix ne dépasse plus guère les 1%. Même le mauvais élève, la Grèce, fait des progrès : les prix y grimpent au rythme de 4,9% l'an, contre 5,6% en juin 1997.

Taux d'inflation depuis 1960

Année	Taux d'inflation	Année	Taux d'inflation	Année	Taux d'inflation
1960	3,9	1973	8,5	1986	2,1
1961	4,1	1974	15,0	1987	3,1
1962	4,3	1975	9,8	1988	3,1
1963	5,8	1976	10,0	1989	3,6
1964	1,9	1977	9,0	1990	3,4
1965	2,8	1978	9,7	1991	3,1
1966	2,8	1979	11,7	1992	2,1
1967	3,6	1980	13,7	1993	2,1
1968	5,2	1981	13,9	1994	1,6
1969	5,8	1982	9,7	1995	2,1
1970	5,4	1983	9,3	1996	1,7
1971	6,2	1984	6,7		
1972	7,0	1985	4,7		

CAPITAL (septembre 1998)

1°) Qu'est-ce-que l'inflation ? (2 points).

2°) d'après le tableau ci-dessus, citez quelles sont les années au cours desquelles l'inflation a été :

- la plus forte : 19... (1 point).

- la plus faible : 19... (1 point).


3°) Citez un inconvénient d'une inflation trop forte ? (1 point).


ACADEMIE DE GRENOBLE				SESSION 1999	
EXAMEN : CAP CHARCUTIER PREPARATION TRAITEUR - CAP PREPARATEUR EN PRODUITS CARNES - CAP PATISSIER GLACIER CHOCOLATIER CONFISEUR - CAP BOULANGER -				Durée : 00 h 30	
				EPREUVE : EP4 Connaissance de l'entreprise et environnement économique.	
Echelle :	Nb. Tirages :	SUJET	N°	Feuille : 1 / 4	

CONNAISSANCE DE L'ENTREPRISE ET ELEMENTS COMPTABLES

L'entreprise Maxi Marché reçoit la facture des achats qu'elle a effectués à la fromagerie AUDEMONT.

Complétez la facture et remplissez le chèque correspondant. (5 points)

Les fromages SAUDEMONT			
18, place du théâtre 02050 AVESNES SARL au capital de 50 000 F RCS Avesnes B 255 486 651 Tél. 03 27 55 41 21		FACTURE n° 574 <i>Doit</i> Maxi Marché 132, rue Lamendin 59000 Lille	
Le 30/11/98			
Désignation	Qté	PUHT	Montants
Boulette d'Avesnes	100	8,30	830,00
Gruyère Français	50	29,60	1 480,00
Total marchandises			_____
Remise habituelle 10 %			_____
TOTAL NET HORS TAXE MARCHANDISES			_____
TVA 5,50 %			_____
TOTAL À PAYER TTC			_____
Échéance le 30/11/98			_____

F. _____ Ordre _____ _____ _____ Date _____		Banque Nationale de Paris Payez contre ce chèque non endossable sauf au profit d'un établissement bancaire ou assimilé	B.P.F. _____
		A. PAYABLE	A. _____
		Agence Place Clichy 59000 LILLE Téléphone 91 30 13 00 compensable à LILLE chèque n° 7 456 093	compte n° 00212 05216075 84 le MAXI MARCHÉ 132, rue Lamendin 59000 LILLE
N° 7 456 097		@7456095@014010004068A021205216075#	

ACADEMIE DE GRENOBLE		SESSION 1999	
EXAMEN : CAP CHARCUTIER PREPARATION TRAITEUR - CAP PREPARATEUR EN PRODUITS CARNES - CAP PATISSIER GLACIER CHOCOLATIER CONFISEUR - CAP BOULANGER -		Durée : 00 h 30	
EPREUVE : EP4 Connaissance de l'entreprise et environnement économique.		Coefficient : 1	
Echelle :	Nb. Tirages :	SUJET	N°
		Feuille : 2/4	

LEGISLATION DU TRAVAIL (10 points)

Après avoir pris connaissance des annexes 1 et 2, répondez aux questions suivantes :

1. Peut-on renouveler un contrat de qualification ?

oui non

2. Le contrat d'apprentissage est-il un contrat de travail ?

oui non

3. Citez trois obligations de l'apprenti dans un contrat d'apprentissage :

-
-
-

4. Citez trois obligations du Maître d'apprentissage :

-
-
-

5. D'après les statistiques du ministère de l'Education nationale, quel est le diplôme le plus représentatif des apprentis ?

-

6. Quel est celui qui est le plus en augmentation ? Quel en est son pourcentage ?

-
-

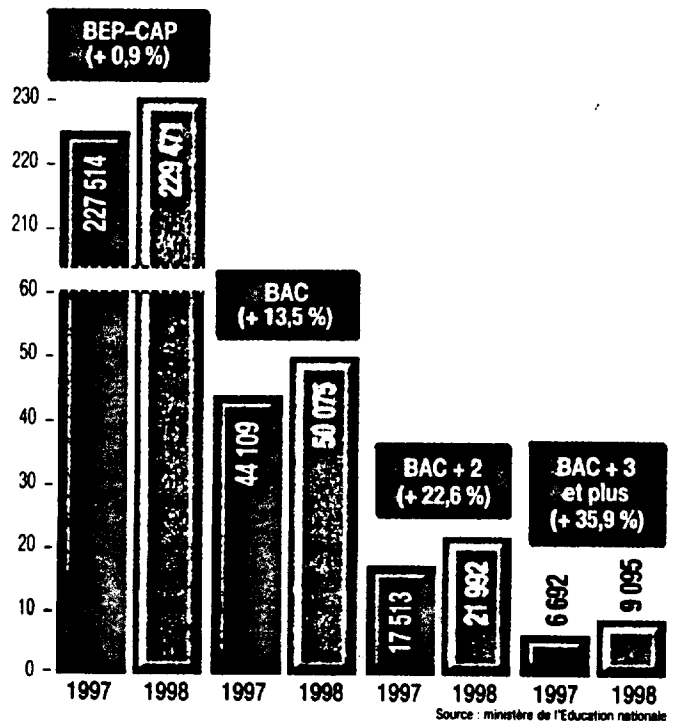
ACADEMIE DE GRENOBLE		SESSION 1999	
EXAMEN : CAP CHARCUTIER PREPARATION TRAITEUR - CAP PREPARATEUR EN PRODUITS CARNES - CAP PATISSIER GLACIER CHOCOLATIER CONFISEUR - CAP BOULANGER -		Durée : 00 h 30	
EPREUVE : EP4 Connaissance de l'entreprise et environnement économique.		Coefficient : 1	
Echelle :	Nb. Tirages :	SUJET	N°
		Feuille : 3 / 4	

Alternance mode d'emploi

Deux dispositifs permettent de préparer une formation en alternance. Le contrat d'apprentissage et le contrat de qualification. Le premier conduit uniquement à la préparation d'un diplôme d'Etat et permet d'enchaîner les formations. Le second mène soit à un diplôme, soit à une qualification reconnue par une branche professionnelle. Il ne

peut être renouvelé. L'un comme l'autre sont des contrats de travail qui confèrent à leur signataire tous les droits et toutes les obligations d'un salarié.

Des apprentis de plus en plus diplômés



● L'EXPRESS 8/10/98

ACADEMIE DE GRENOBLE				SESSION 1999	
EXAMEN : CAP CHARCUTIER PREPARATION TRAITEUR - CAP PREPARATEUR EN PRODUITS CARNES - CAP PATISSIER GLACIER CHOCOLATIER CONFISEUR - CAP BOULANGER -				Durée : 00 h 30	
EPREUVE : EP4 Connaissance de l'entreprise et environnement économique.				Coefficient : 1	
Echelle :	Nb. Tirages :	SUJET	N°	Feuille : 4/4	