

Examen ou Concours:
 Section ou option ou Spécialité:
 NOM:
 Prénom (s):
 Nature de l'épreuve:
 Répère de l'épreuve:

N° d'inscription:
 Académie d'inscription:

QUESTIONS (CBGO, CMBA)

dosage des enduits extérieurs

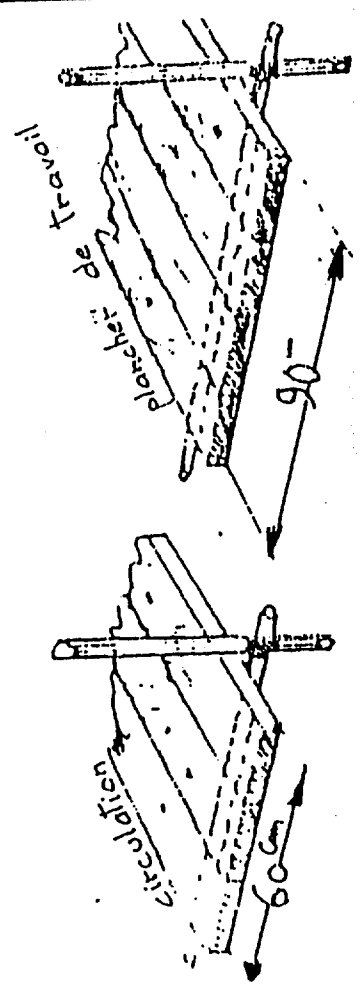
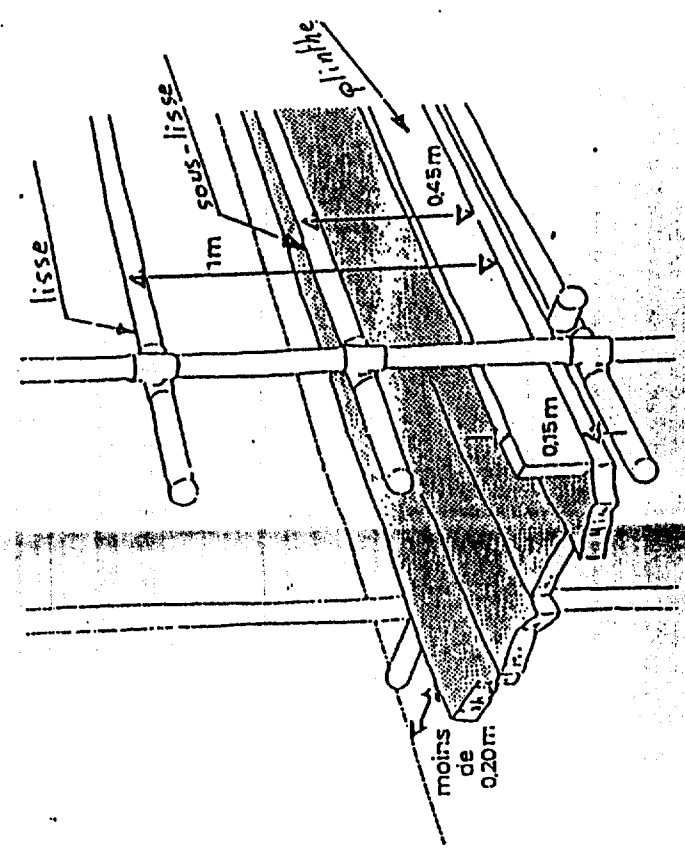
poils de llants par mètre cube de sable sec

CORRIGE

	P solution	g solution	sable
1 gobets ou couche d'acrotchage	500 à 600 kg de ciment/m ³	500 à 600 kg de ciment/m ³	grossier 0.35 - 0.4
2 corps de l'enduit	400 à 500 kg de ciment/m ³	250 à 350 kg de ciment et 125 à 175 kg de chaux hydraulique ou grasse (1/3 chaux, 2/3 de ciment)	Moyen 0.25
3 couche de finition	300 à 400 kg de ciment/m ³	200 à 300 kg de ciment/m ³ 150 à 250 kg de chaux hydraulique/m ³	Fin 0.15

LES ECHAFAUDAGES

Protections contre les chutes



Note: / 10

DC3

Examen ou Concours :
 Section ou option ou Spécialité :
 NOM :
 Prénom (s) :
 Nature de l'épreuve :
 Répère de l'épreuve :

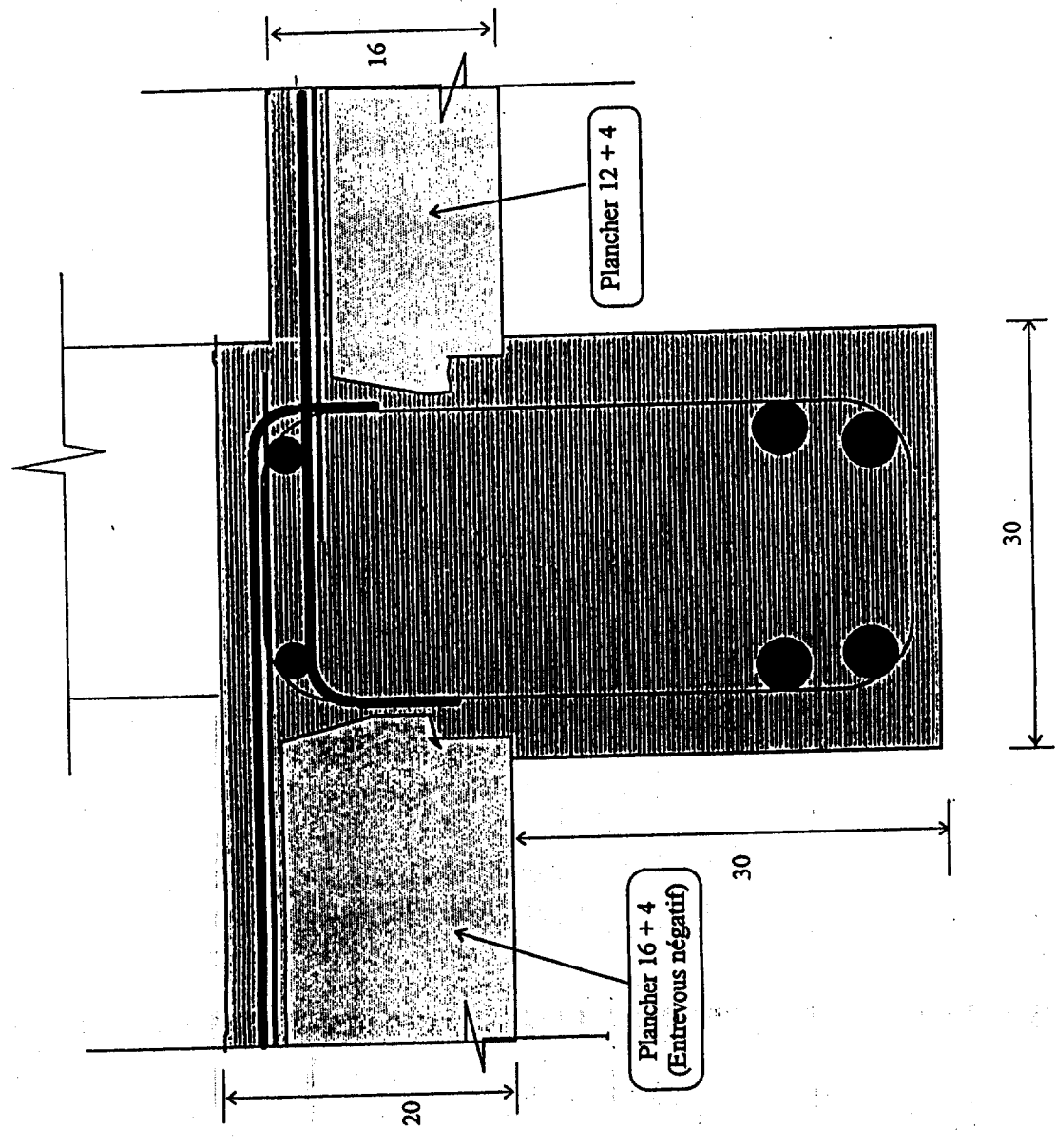
Académie d'inscription :

N° d'inscription :

QUESTIONS (CBAB)

3 : Faire le croquis de détail en coupe verticale de la poutre "L1" en retombée sous le mur de façade de la maison (compris liaisons entre planchers, armatures incluses).
 éch: 1 / 5

CORRIGE



NOTE: / 10

DC4

51 23 2 01	50 23 2 08	50 23 2 10	page 5 / 5
C B A B	EXAMEN : CAP 1999	CODE :	

MINISTRE DE L'EDUCATION NATIONALE