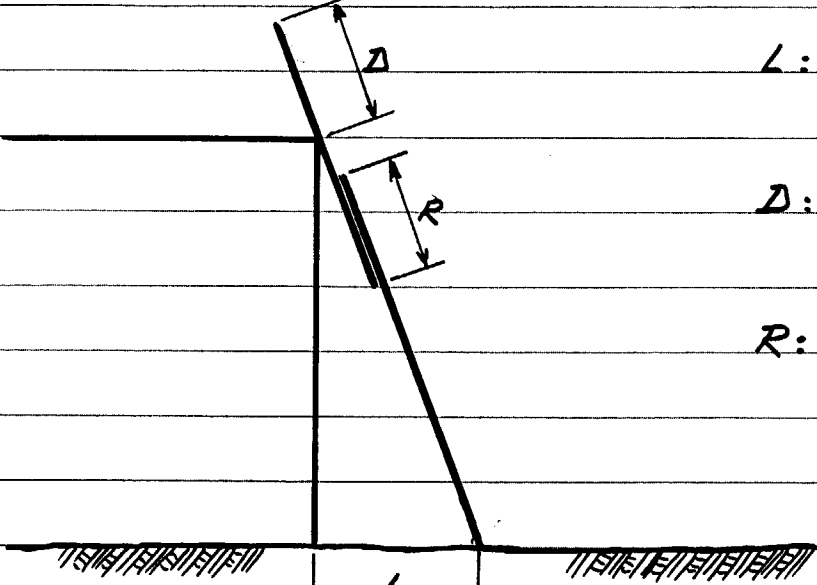







ON DONNE	ON DEMANDE	REPOSES	POINTS
<u>4) PREVENTION DES ACCIDENTS</u>			
	<p>4.1 Quelles sont les charges maximales d'utilisation des échelles métalliques ?</p>	<p>Simples : Doubles :</p>	12
	<p>4.2- Mise en place des échelles</p> <p>-Inclinaison : L'écartement « L » du pied doit être compris entre :</p> <p>-Dépassement : pour accéder à un niveau, un dépassement « D » est nécessaire, de combien ?</p> <p>-Recouvrement : les échelles à coulisses doivent assurer lors de leur plus grand développement un recouvrement « R » des plans de :</p>	 <p style="text-align: right;">L: D: R:</p>	13
	<p>4.3- Lorsque du personnel travaille ou circule à une hauteur de plus de 3 m en se trouvant exposé à un risque de chute dans le vide, il doit être installé des garde-corps et des plinthes. A quelles hauteurs ?</p>		12
TOTAL			17

ACADEMIE DE GRENOBLE		SESSION 1999	
Examen : CAP / BEP Couverture Technique du Toit		Durée : 4 Heures	
Epreuve : EP1 ANALYSE DU TRAVAIL et TECHNOLOGIE		Coeff : CAP : 4 - BEP : 3	
Echelle :	Nb de tirage	SUJET	Feuille : 8/9

ON DONNE	ON DEMANDE	REponses	POINTS
	<p>4.4 Qui dit électricité dit « risques ».</p> <p>Quelles précautions faut-il prendre ?</p> <ul style="list-style-type: none"> - Avant le travail. - Pendant le travail. - Après le travail 	<p>Avant : -</p> <p>Pendant : -</p> <p>Après : -</p>	/6
	<p>4-5 Les risques chimiques.</p> <p>A quels risques correspondent les étiquettes ci-contre?</p>	<div style="display: flex; justify-content: space-around; align-items: flex-start;"> <div style="text-align: center;">  C : </div> <div style="text-align: center;">  T+ : </div> <div style="text-align: center;">  Xi : </div> <div style="text-align: center;">  F : </div> </div>	/2
		TOTAL	/8

ACADEMIE DE GRENOBLE		SESSION 1999	
Examen : CAP / BEP Couverture Technique du Toit		Durée : 4 Heures	
Epreuve : EP1 ANALYSE DU TRAVAIL et TECHNOLOGIE		Coeff : CAP : 4 - BEP : 3	
Echelle :	Nb de tirage	SUJET	Feuille : 9/9