

Un extrait du DTU sur les parquets à clouer.

(dossier technique feuille 9/9)

La vue en plan du premier étage
dossier technique feuille 4/9

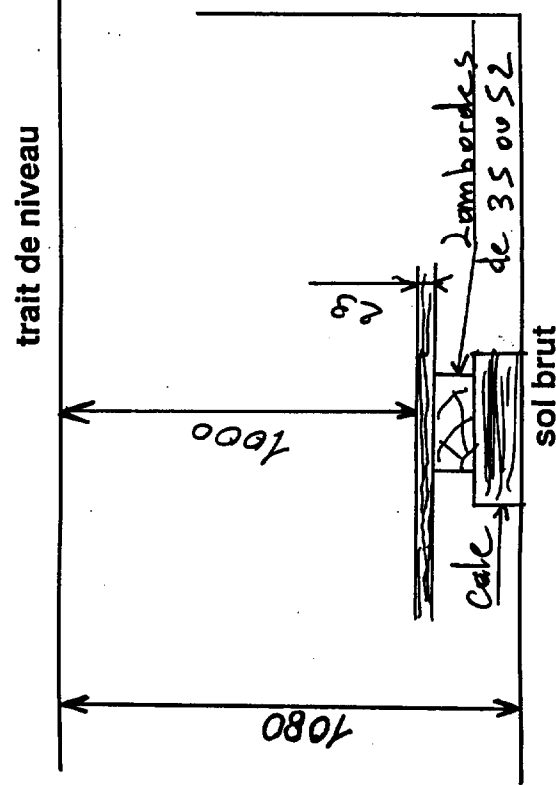
le client ayant fait son choix pour un parquet dont la mise en oeuvre
est expliquée dans le DTU joint :

ON DEMANDE

1/ pour les chambres 2 et 3 donner l'orientation des lames
de parquets par rapport au pignon de la maison. (parallèle ou
perpendiculaire au pignon) ?

Parallèle au pignon.

2/ pour ce parquet à lames à clouer donner la cote du calage
par rapport au sol brut.



justifier par
un croquis

14

une fiche technique sur un outil à plate-bande avec la section
d'un panneau et de son bâti. (dossier technique feuille 9/9)

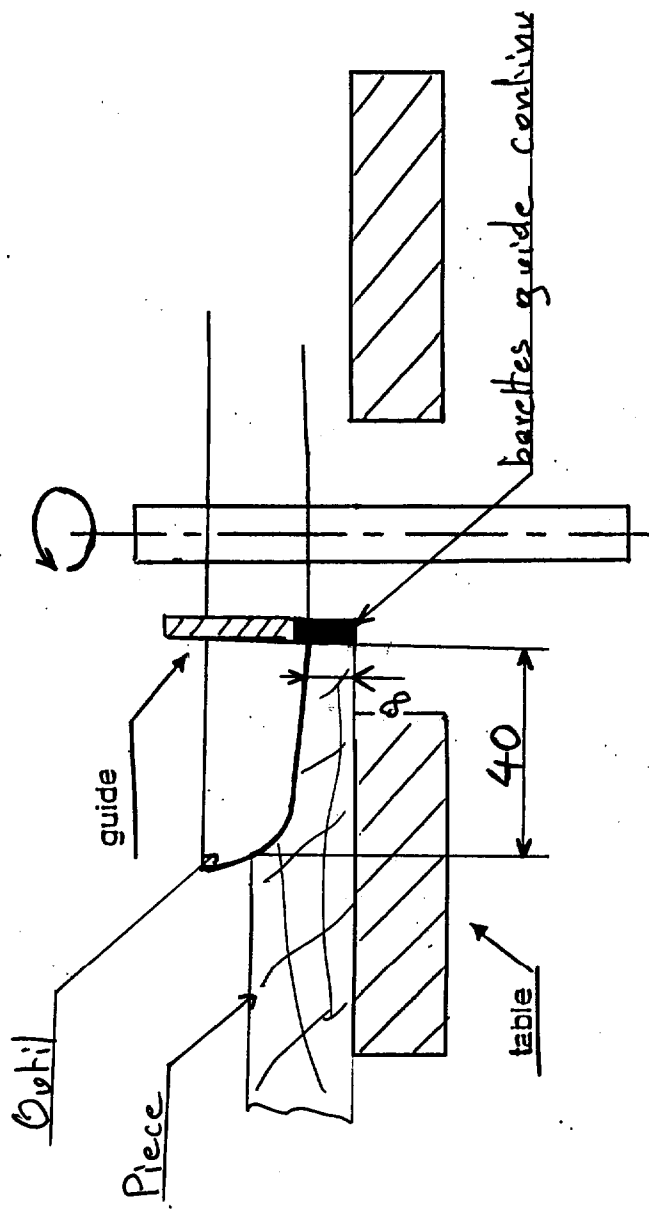
une fiche OPPBTP sur les profilages de la toupie.
(dossier technique feuille 8/9)

ON DEMANDE

De réaliser une plate-bande suivant les caractéristiques de l'outil
jointes pour les portes vitrées du rez de chaussée.

1/ Représenter l'outil et la pièce en position ainsi que les cotes
nécessaire au réglage en complétant le croquis ci-dessous.

16



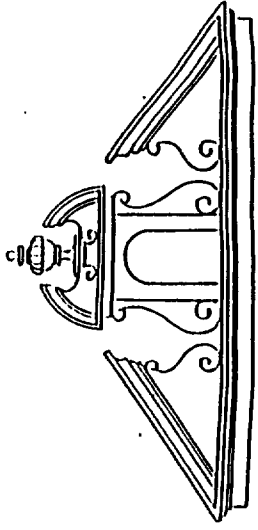
ACADEMIE DE LYON	SESSION 1999	code examen	2340/1 tirage
SPECIALITE CAP - BEP: Bois et matériaux associés - Menuiserie agencement		épreuve	
SUJET de EP18- Réalisation, technologie, et arts appliqués		P40 C35 R66	5
COEFFICIENT	5	durée : 4h	7

EPREUVE DESSIN D'ART

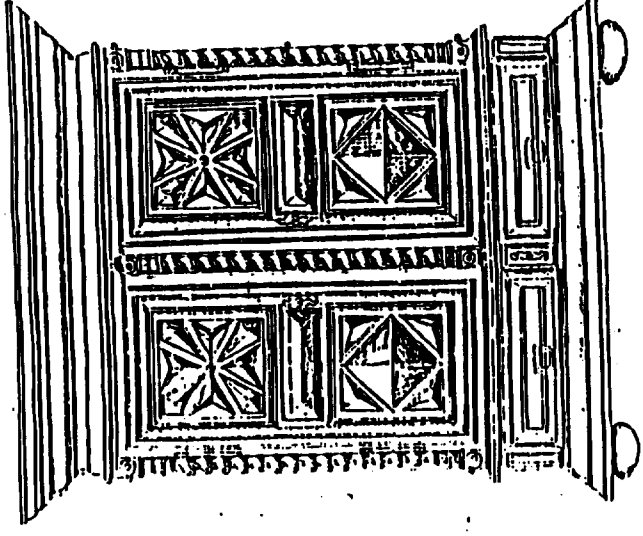
FEUILLE DE REPONSES

INDIQUER LE STYLE
ET REGROUPER LES PIÈCES DE MEME STYLE

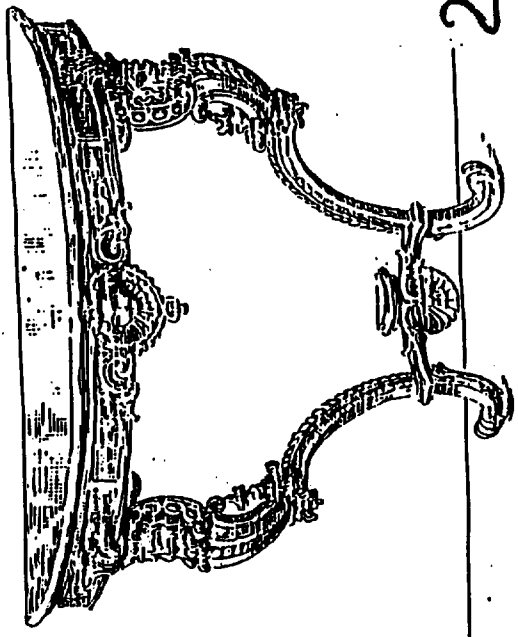
STYLE	CHIFFRE	LETTRE
Gothique	4	E
Renaissance	5	B
LOUIS XIV	2	D
LOUIS XIII	3	A



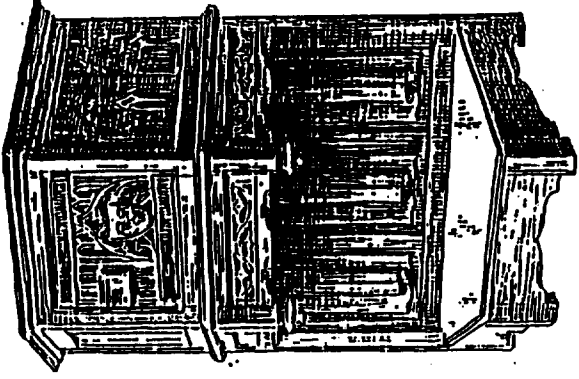
B



3



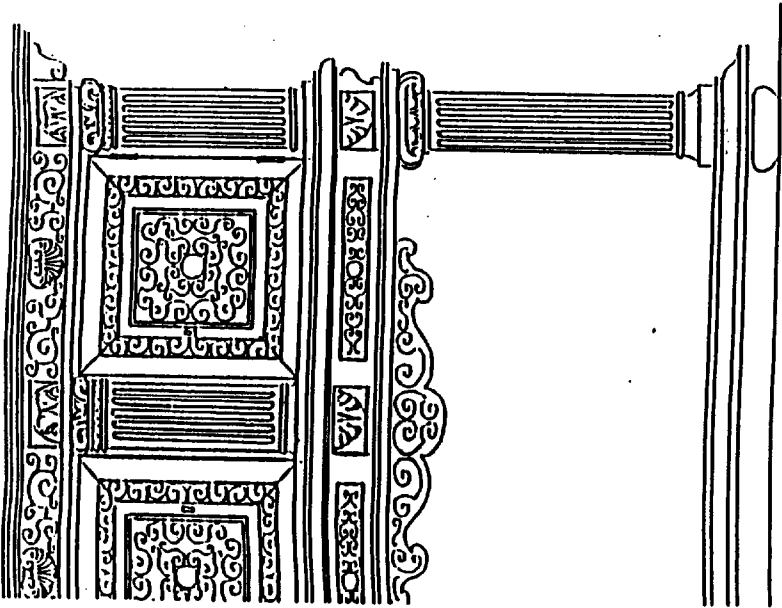
2



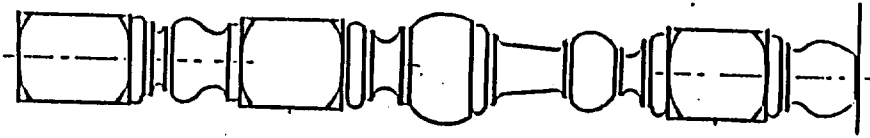
4




D



5



A



E

ACADEMIE DE LYON

SESSION 1999

tirage

code examen 23444

SPECIALITE CAP - BEP Bois et matériaux associés - Menuiserie agencement

epreuve

SUJET de 318 Réalisation, technologie, et arts appliqués

A40 / 35 R66

6

COEFFICIENT 5

durée : 4h

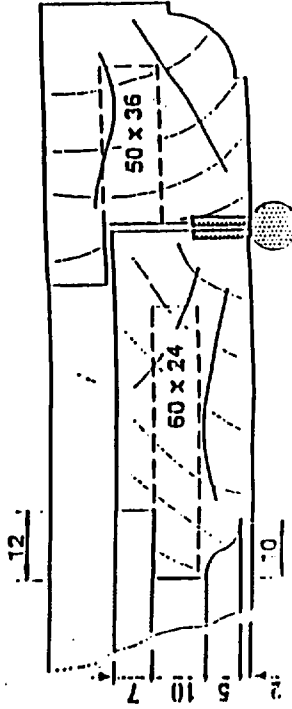
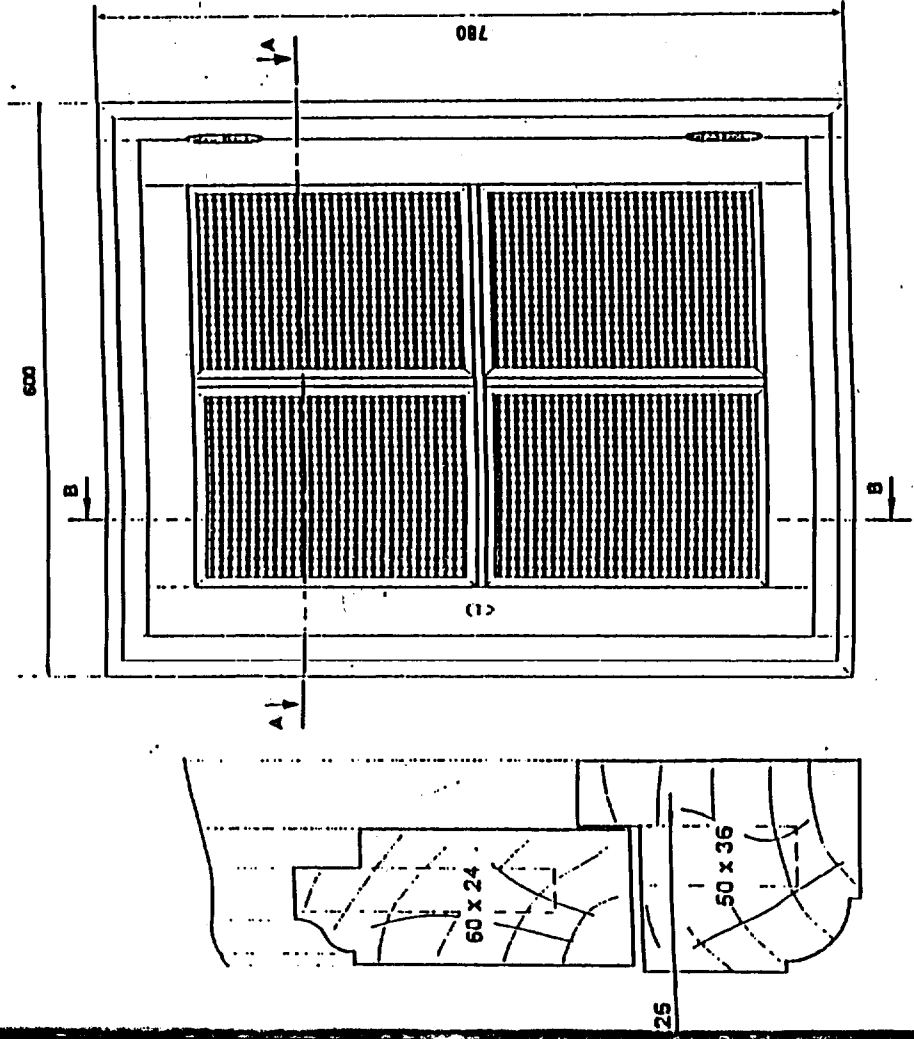
7

On donne

L'élévation d'une vitrine

La coupe A-A partielle

La coupe B-B partielle



On demande

A) BATI DORMANT :

A l'échelle 1:1

Assemblage : tenon mortaise de 10

La vue de gauche du montant

La vue de dessus de la traverse

basse .

B) OUVRANT

A l'échelle 1:1

Assemblage : tenon mortaise de 8

avec moulure contreprofilée .

La vue de gauche du battant

La vue de dessus de la traverse

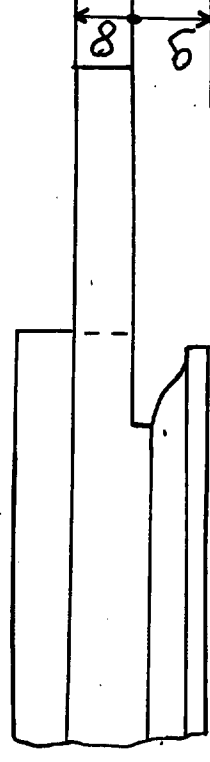
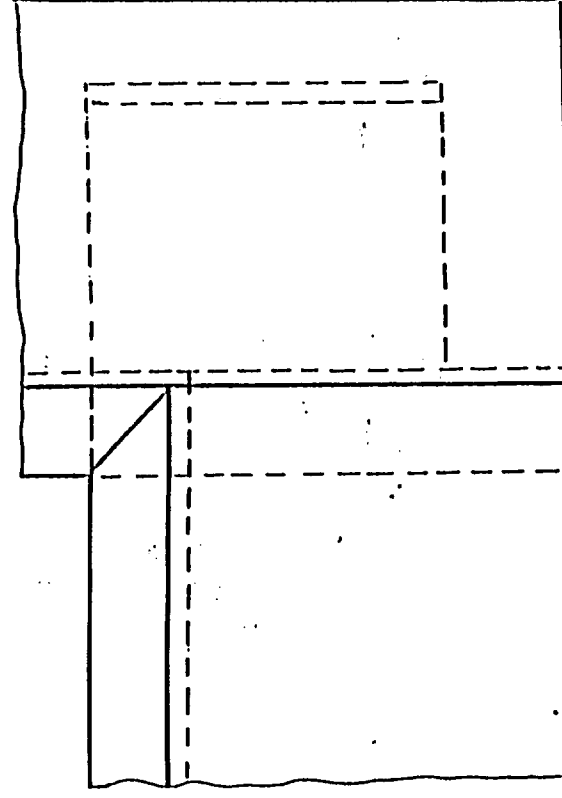

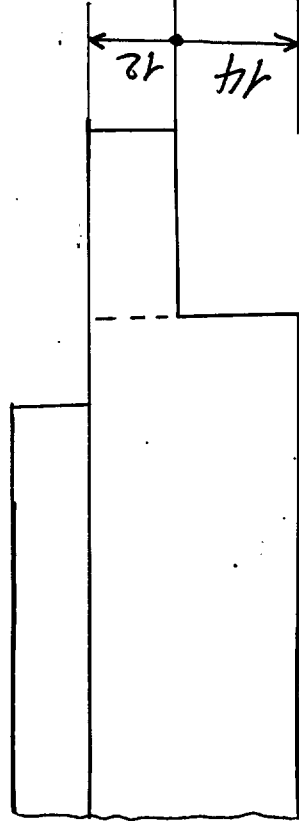
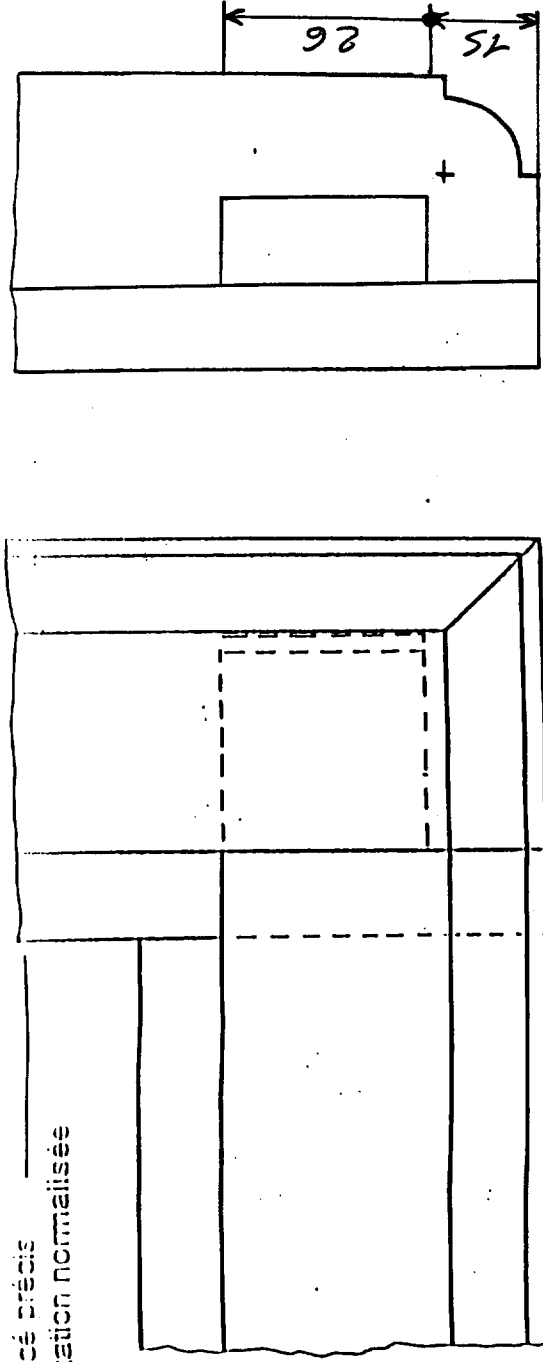
basse .

C) Cotation des assemblages .

On exige

Tracé précis

Cotation normalisée



ACADEMIE DE LYON

SESSION 1999

SPECIALITE CAP - BEP Bois et matériaux associés - Menuiserie agencement

SUJET de 18- Réalisation, technologie, et arts appliqués

COEFFICIENT: 5

durée : 4h

code examen 23407

code examen 23424

tirage

epreuve

A401 35 R66

7

7