

ON DONNE

Un extrait du DTU sur les parquets à clouer.

(*dossier technique feuille 9/9*)

La vue en plan du premier étage
dossier technique feuille 4/9

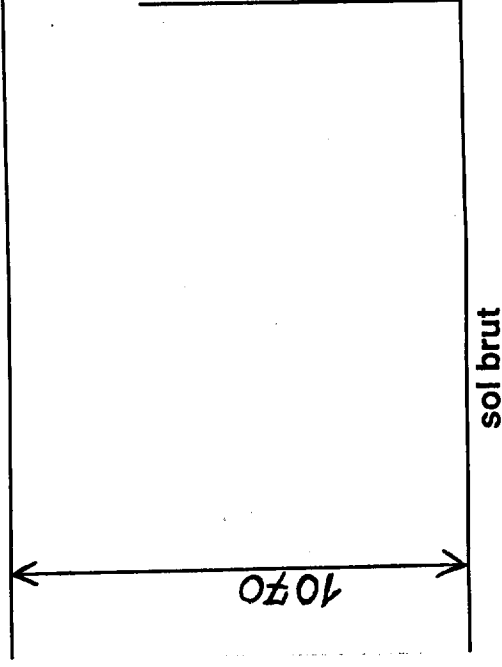
le client ayant fait son choix pour un parquet dont la mise en oeuvre est expliquée dans le DTU joint :

ON DEMANDE

1/ pour les chambres 2 et 3 donner l'orientation des lames de parquets. par rapport au pignon de la maison (parallèle ou perpendiculaire au pignon)? /2

2/ pour ce parquet à lames à clouer donner la cote du calage par rapport au sol brut.

trait de niveau



/4

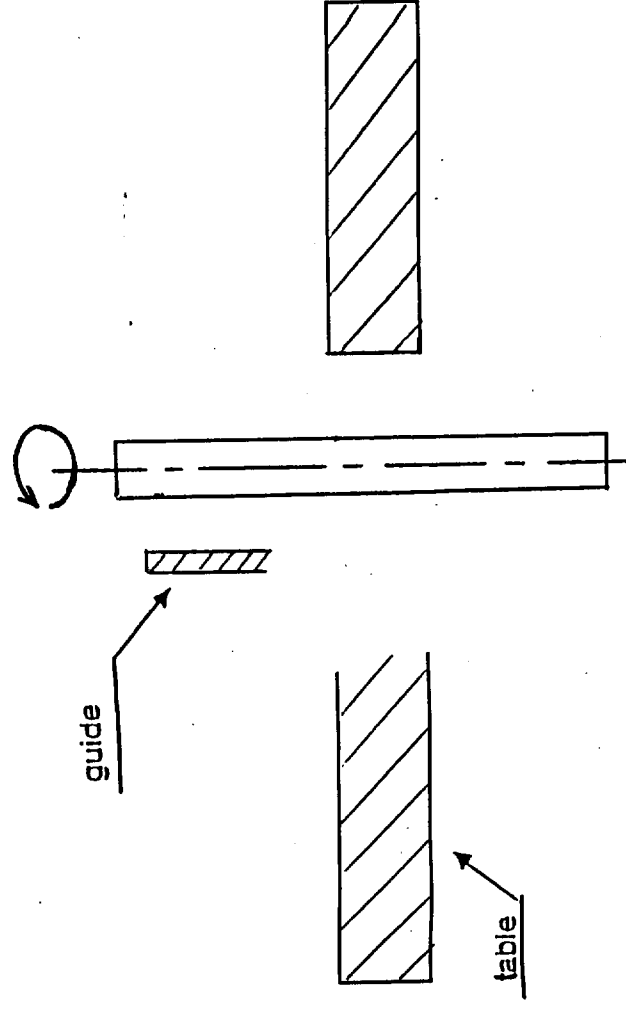
ON DONNE

une fiche technique sur un outil à plate-bande avec la section d'un panneau et de son bâti. (dossier technique feuille 9/9)

une fiche OPPBTP sur les profilages de la toupie.
(*dossier technique feuille 8/9*)

De réaliser une plate-bande suivant les caractéristiques de l'outil jointes pour les portes vitrées du rez de chaussée.

1/ Représenter l'outil et la pièce en position ainsi que les cotes nécessaires au réglage en complétant le croquis ci-dessous. /6



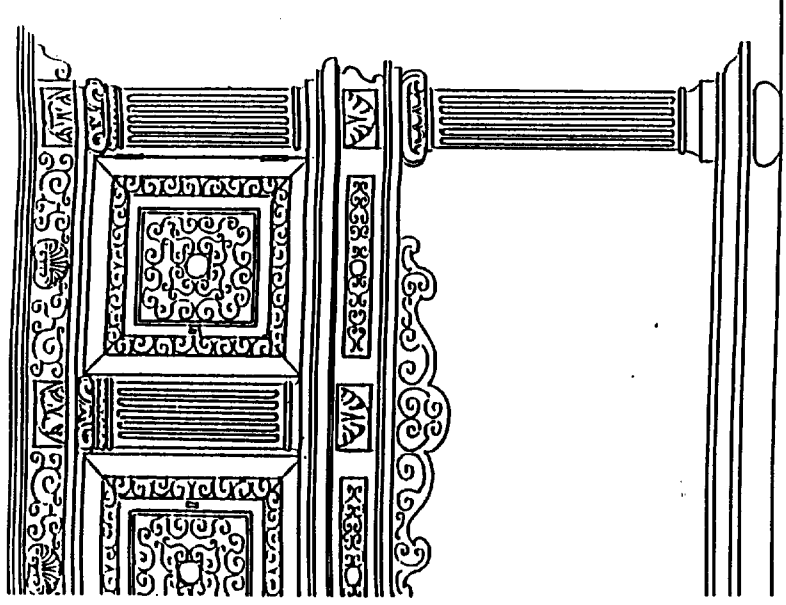
Justifier par un croquis

Académie de Lyon	Session 1999	Code examen - épreuve
SPECIALITE - BEP - Bois et matériaux associés - CAP Menuiserie agencement		N° 23.424
SUJET de - EP1B - Réalisation technologique et arts appliqués Feuillelet N°	5/7	N° 23.401
Coefficient 5	Durée 4 H	ASo L8oR 148

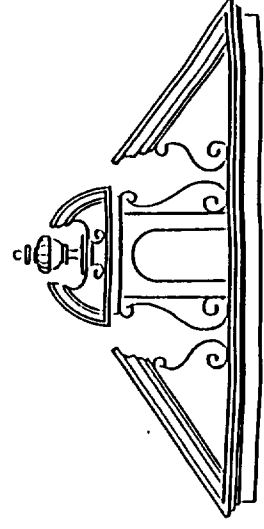
EPREUVE DESSIN D'ART

FEUILLE DE REPONSES

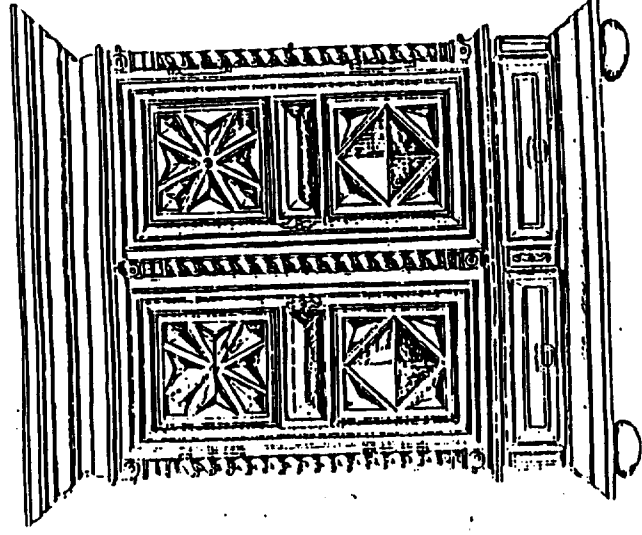

INDIQUER LE STYLE
ET REGROUPER LES PIÈCES DE MEME STYLE




5




B



4

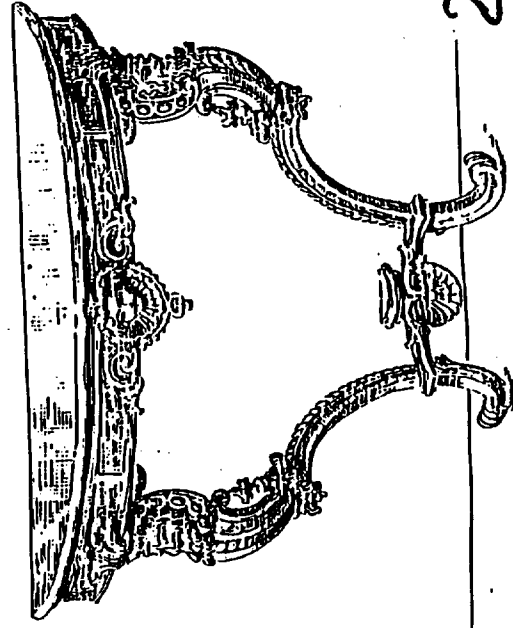


E



D

3



2

STYLE	CHIFFRE	LETTRE

Académie de Lyon	Session 1999	Code examen - épreuve
SPECIALITE -BEP - Bois et matériaux associés - CAP Menuiserie agencement		N° 23.424
SUJET de -EP1B- Réalisation, technologie et arts appliqués	Feuillelet N°	N° 23.401
Coefficient 5	Durée 16 H	ASo L80 R-148

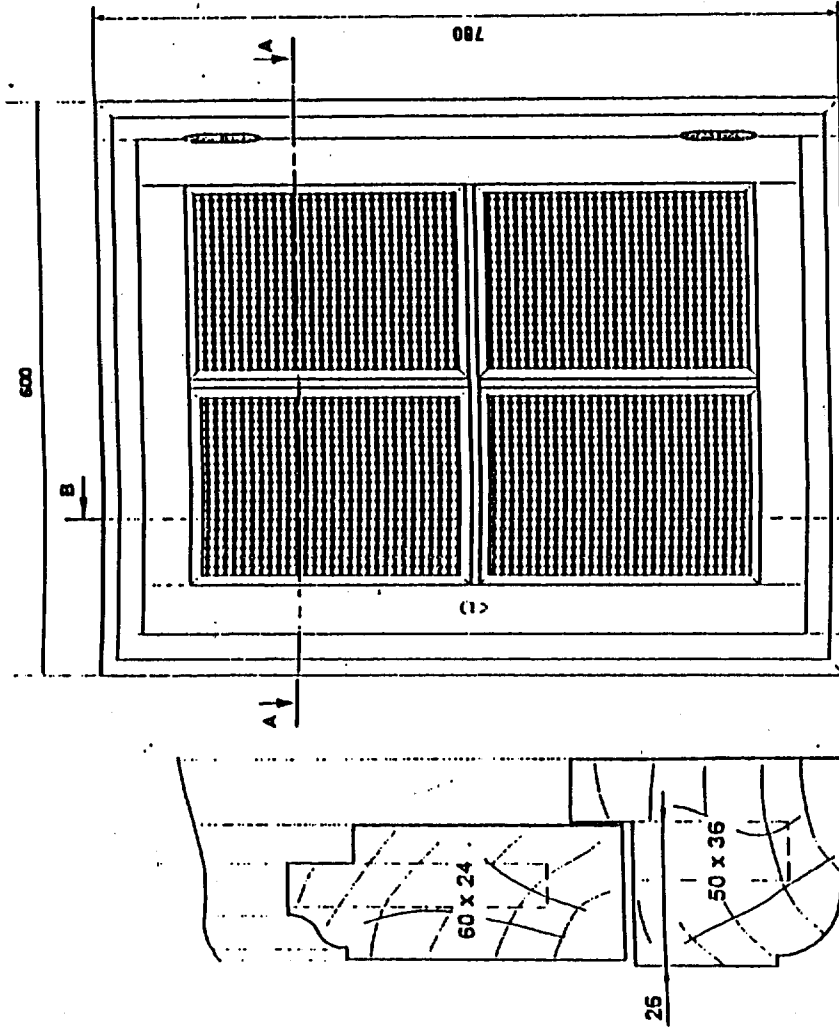
6/7

On donne

L'élévation d'une vitrine

La coupe A-A partielle

La coupe B-B partielle



B-B

A-A

On demande

A) BATI DORMANT :

A l'échelle 1:1

Assemblage : tenon mortaise de 10

La vue de gauche du montant

La vue de dessus de la traverse

basse .

B) OUVRANT

A l'échelle 1:1

Assemblage : tenon mortaise de 6

avec moulure contreprofilée .

La vue de gauche du battant


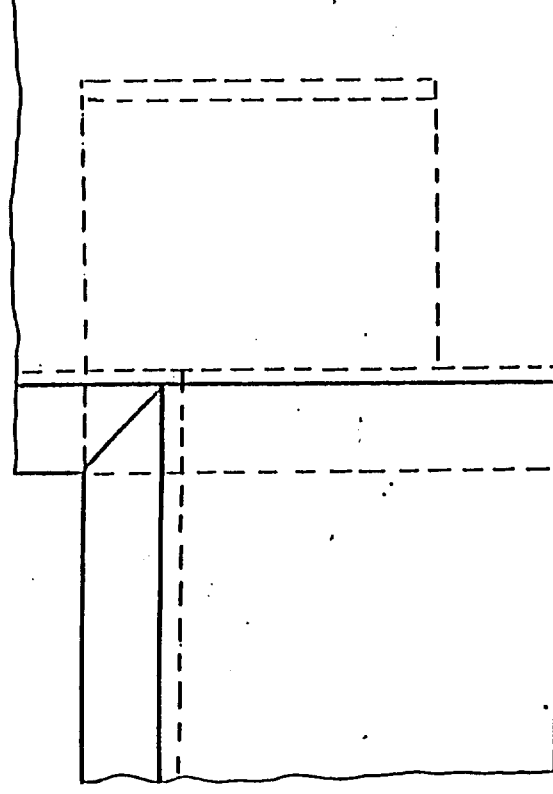

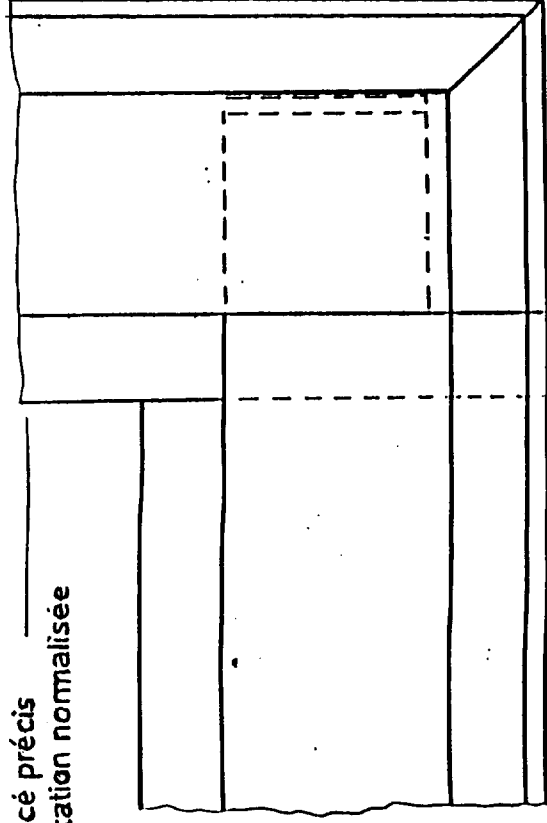
La vue de dessus de la traverse

basse .

C) Cotation des assemblages .

On exige

Tracé précis
Cotation normalisée



Académie de Lyon

Session 1999

Code examen - épreuve

SPECIALITE

-BEP - Bois et matériaux associés - CAP Menuiserie agencement

N° 23.424

SUJET de

-EPI6- Réalisation , technologie et arts appliqués

Feuillet N°

N° 23.401

Coefficient 5

Durée 16 H

ASO L80 R148

7/7