



ACADÉMIE DE
CLERMONT-FERRAND

Session
1999

Vous devez enlever les agrafes pour faciliter votre travail
La numérotation des pages vous permettra de reconstituer votre dossier pour le rendre en fin d'épreuve.

CAP : F.I.M.M.

BEP : Bois et matériaux
associés

Durée de l'épreuve : 4 h.

ÉPREUVE EP1b

Réalisation et technologie (partie écrite)

COEF: CAP:

BEP:

DOSSIER DE TRAVAIL

RECAPITULATIF DES NOTES

Lecture de plan	1/6 G	27
Nomenclature	1/6 D	28
Dessin professionnel - Traverse	2/6	15
"	Montant	30
Matériau	4/6 G	18
Outillage - Usinage	4/6 D	16
Machine	5/6 G	20
"	5/6 D	26
Dessin d'art appliqué	6/6	20
TOTAL :		200
NOTE / 20		

COMPOSITION DU DOSSIER

	PAGE
Lecture de plan Nomenclature	1/6
Dessin professionnel - Traverse	2/6
"	- Montant
Matériau Outillage - Usinage	4/6
Machine	5/6
Dessin d'art appliqué	6/6

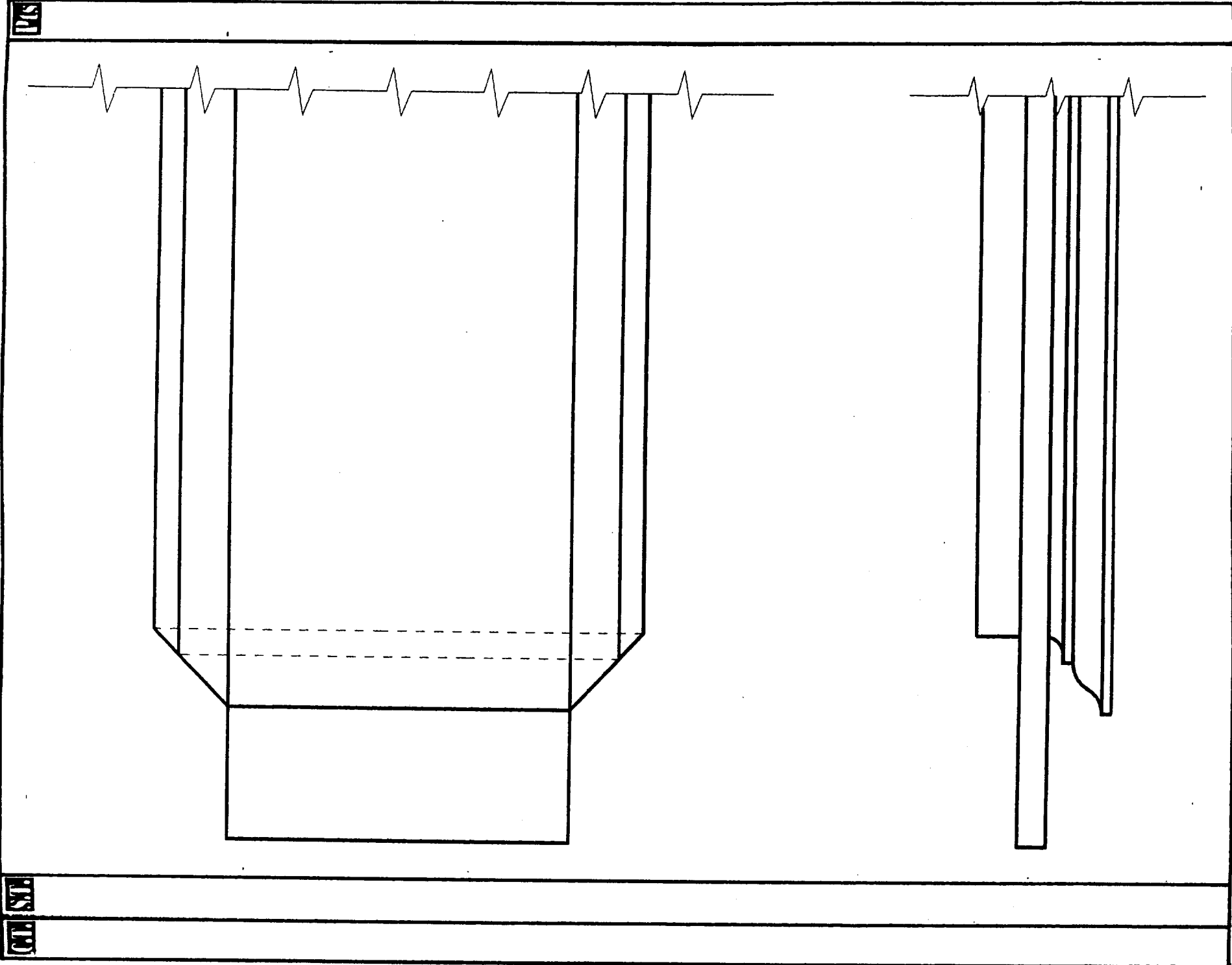
IMPORTANT:

Pour répondre aux questions posées ci-après et réaliser le travail demandé, vous devez consulter le **DOSSIER TECHNIQUE** qui vous a été remis conjointement.
Avant de formuler une réponse, analysez avec toute l'attention voulue les documents.
Soignez la présentation et utilisez pleinement le temps alloué.
Ce dossier est récupéré en totalité en fin d'épreuve.

Examen: CAP - BEP	Spécialité: F.I.M.M.	Session: 99
Épreuve: EP1b	Durée de l'épreuve: 4 h	PAGE:

ACADÉMIE DE CLERMONT-FD

CORRIGÉ



GT. SSB	PTS
2.04.3.2	30
2.04	15

DESSIN PROFESSIONNEL

ON DONNE : Le dossier technique de l'ouvrage à réaliser

ON DEMANDE :

1°) Dessiner sur la feuille 3/7, à l'échelle 1÷2, le dessin de définition du montant gauche de l'ouvrant repéré (201) en représentant : la vue de Face (avec interruptions) la vue de Droite en correspondance (chant intérieur, sans arêtes cachées) une section rabattue

Cotation complète sauf rayons des moulures et quart de rond

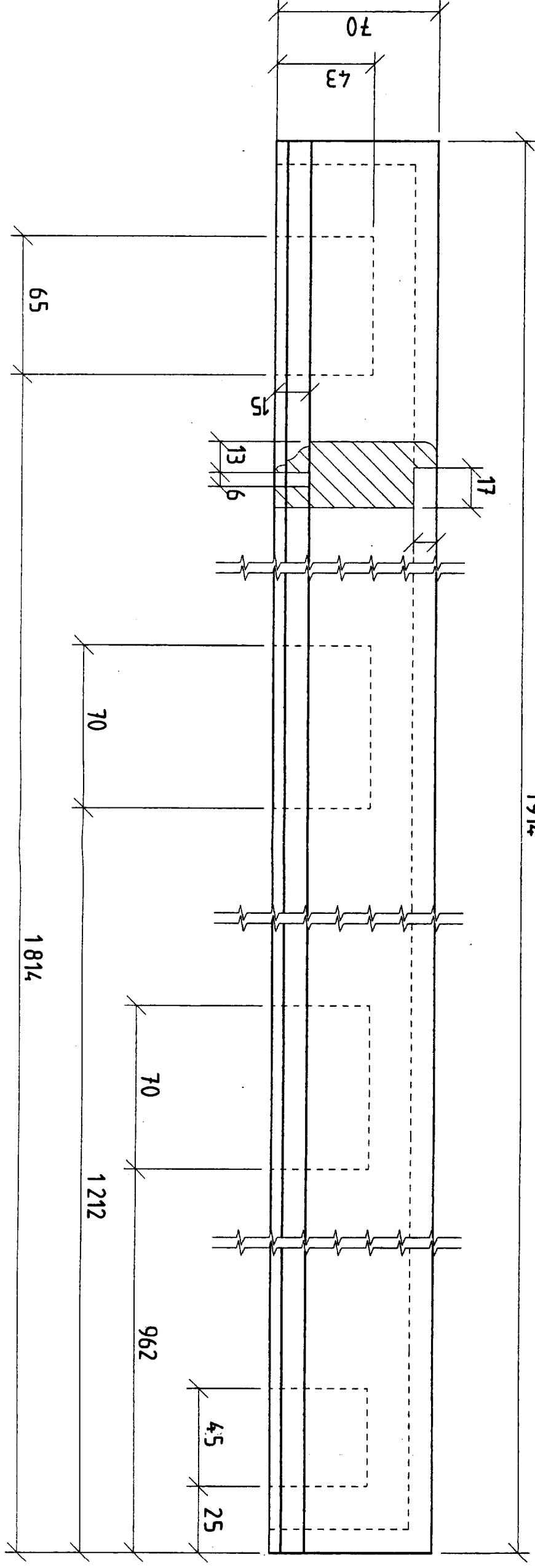
2°) Dessiner ci-contre à l'échelle 1÷1, et sans cotation l'extrémité gauche de la traverse intermédiaire basse repérée (203) en représentant : la vue de Face montrant le tenon et l'usinage de ses araselements la vue de Dessus correspondante

Élément : CAP - BEP	Spécialité : F. I. M. M.	Session : 1999
Épreuve : EP1 b	Durée de l'épreuve : 4 h. Coefficient : PAGE: 2 / 6	

ACADEMIE DE CLERMONT - PD

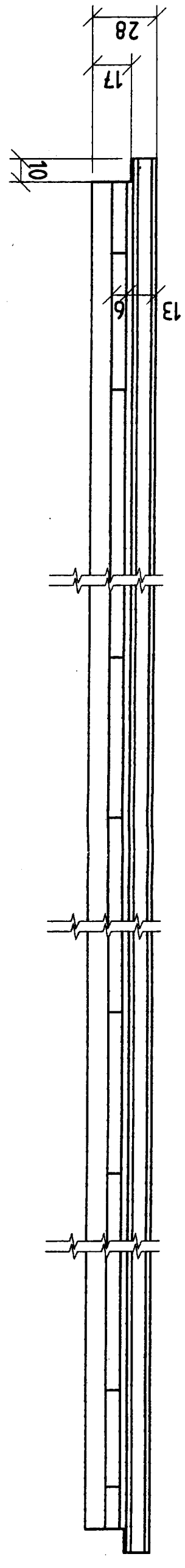
CORRIGÉ

CORRIGÉ



Vue de face

1914



Vue de droite

Document CAP - BEP	Spécialité F. I. M. M.	Session: 1999	
		PAGE: 3/6	
Niveau EP1b		Durée de l'épreuve: 4 h.	Coefficient:

ACADEMIE DE CHERBOURG - PD

CORRIGÉ