

Vous devez enlever les agrafes pour faciliter votre travail
La numérotation des pages vous permettra de reconstituer votre dossier pour le rendre en fin d'épreuve.

CAP : F.I.M.M.
BEP : Bois et matériaux associées
Durée de l'épreuve : 4 h.

ÉPREUVE EP1b
Réalisation et technologie (partie écrite)

COEF.: CAP: BEP:

DOSSIER DE TRAVAIL

COMPOSITION DU DOSSIER

| | PAGE |
|---------------------------------|------|
| Lecture de plan Nomenclature | 1/7 |
| Dessin professionnel - Traverse | 2/7 |
| " - Montant | 3/7 |
| Matériau Outillage - Usinage | 4/7 |
| Machine | 5/7 |
| Dessin d'art appliqué | 6/7 |
| Dessin d'art appliqué | 7/7 |

IMPORTANT :

Pour répondre aux questions posées ci-après et réaliser le travail demandé, vous devez consulter le **DOSSIER TECHNIQUE** qui vous a été remis conjointement.
Avant de formuler une réponse, analysez avec toute l'attention voulue les documents.
Soignez la présentation et utilisez pleinement le temps alloué.
Ce dossier est récupéré en totalité en fin d'épreuve.

| RECAPITULATIF DES NOTES | | |
|---------------------------------|---------|-----|
| Lecture de plan | 1/7 G | 27 |
| Nomenclature | 1/7 D | 28 |
| Dessin professionnel - Traverse | 2/7 | 15 |
| " - Montant | 3/7 | 30 |
| Matériau | 4/7 G | 18 |
| Outillage - Usinage | 4/7 D | 16 |
| Machine | 5/7 G | 20 |
| " | 5/7 D | 26 |
| Dessin d'art appliqué | 6/7_7/7 | 20 |
| TOTAL : | | 200 |
| NOTE / 20 | | |

| | | |
|-------------------------|--|--------------|
| Examen: CAP - BEP | Spécialité: F. I. M. M. | Session : 99 |
| Epreuve: EP1b | Durée de l'épreuve : 4 h. Coefficient : | PAGE: |



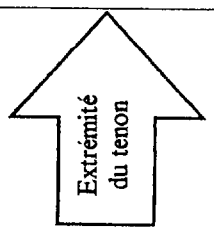
Ne rien inscrire dans cette case

ACADEMIE DE CLERMONT-FD

NE PAS OUBLIER DE COMPLETER LA "BANDE ANONYMAT"

N° d'inscription du candidat N° _____ NOM : _____ Prénom : _____

Ne rien inscrire dans cette case



DESSIN PROFESSIONNEL

ON DONNE : Le dossier technique de l'ouvrage à réaliser

ON DEMANDE :

1°) Dessiner sur la feuille 3/7, à l'échelle 1÷2, le dessin de définition du montant gauche de l'ouvrant repéré (201) en représentant : la vue de Face (avec interruptions) la vue de Droite en correspondance (chant intérieur, sans arêtes cachées) une section rabattue

Cotation complète sauf rayons des moulures et quart de rond

2°) Dessiner ci-contre à l'échelle 1÷1, et sans cotation l'extrémité gauche de la traverse intermédiaire basse repérée (203) en représentant : la vue de Face montrant le tenon et l'usinage de ses araselements la vue de Dessus correspondante

2.04.3.2

30

2.04

15

| | | |
|-------------------|-------------------------|--------------------------|
| Examen: CAP - BEP | Spécialité: F. I. M. M. | Session: 1999 |
| Examen: EP1b | | Durée de l'épreuve: 4 h. |
| | | Coefficient: PAGE: 2/7 |

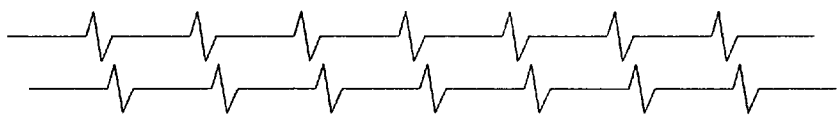
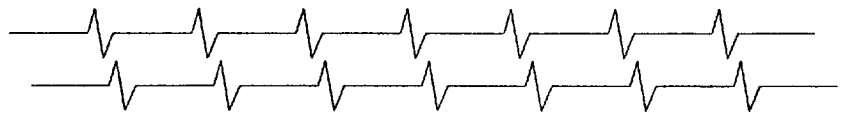
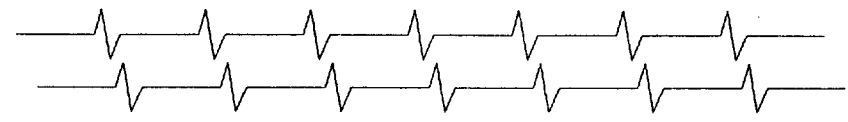
ACADEMIE DE CLERMONT - FD

Ne rien inscrire dans cette case

Ne rien inscrire dans cette case

N° d'inscription du candidat N° NOM: Prénom:

NE PAS OUBLIER DE COMPLETER LA "BANDE ANONYMAT"



Vue de face

Vue de droite

ACADEMIE DE CLERMONT - FD

| | | |
|----------------------|----------------------------|--|
| Examen: CAP - BEP | Spécialité: F. I. M. M. | Session : 1999 |
| Epreuve: EP1b | | Durée de l'épreuve : 4 h. Coefficient : |
| | | PAGE: 3 / 7 |

Ne rien inscrire dans cette case

Ne rien inscrire dans cette case

N° d'inscription du candidat N° _____ NOM : _____ Prénom : _____

NE PAS OUBLIER DE COMPLETER LA "BANDE ANONYMAT"