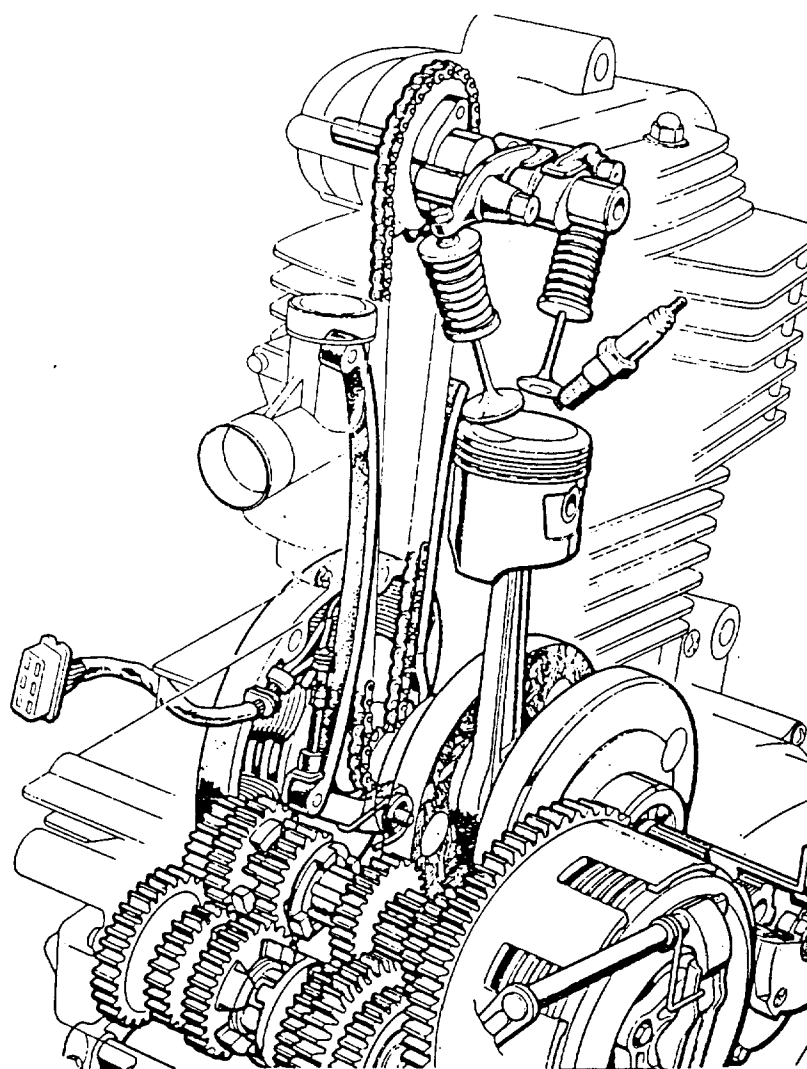
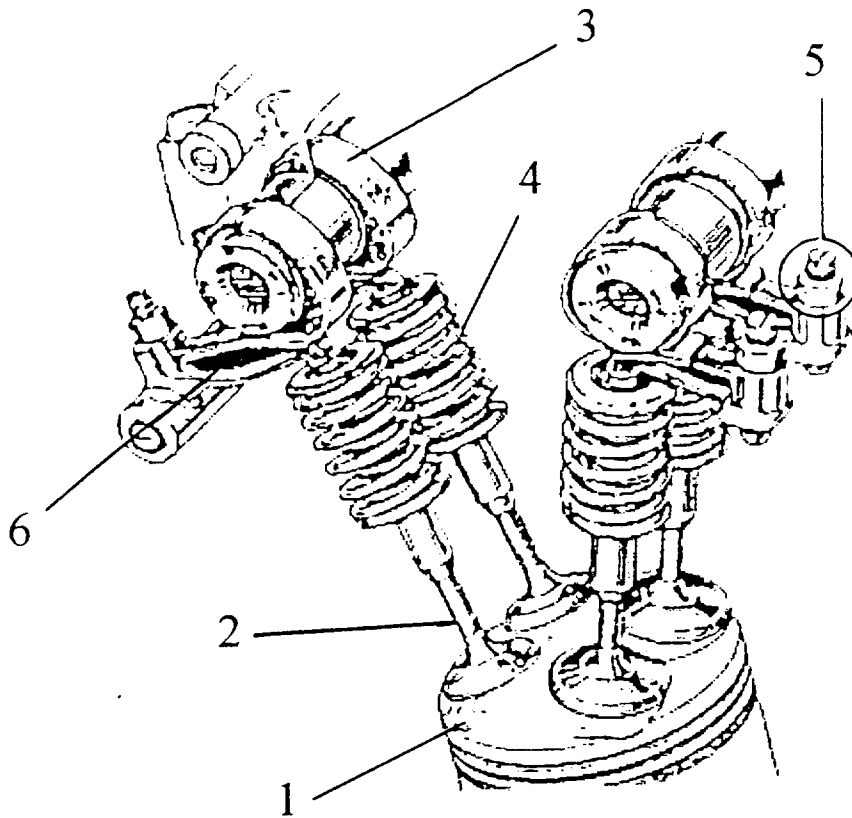


2.1 - Sur la figure ci-dessous, entourer la frontière d'étude concernant la distribution. /1



ACADEMIES DE GRENOBLE ET LYON			SESSION 1999	
EXAMEN : MAINTENANCE DE VEHICULES AUTOMOBILES : OPTION D			Durée : 2 H 30	
Epreuve : Communication Technique - EP1-2			Coefficient : 1,5	
Echelle :	Nb. Tirages :	SUJET	N°	Feuille : 9/27

2.2.1 - Donner un nom aux différents numéros. /3



1 / _____

2 / _____

3 / _____

4 / _____

5 / _____

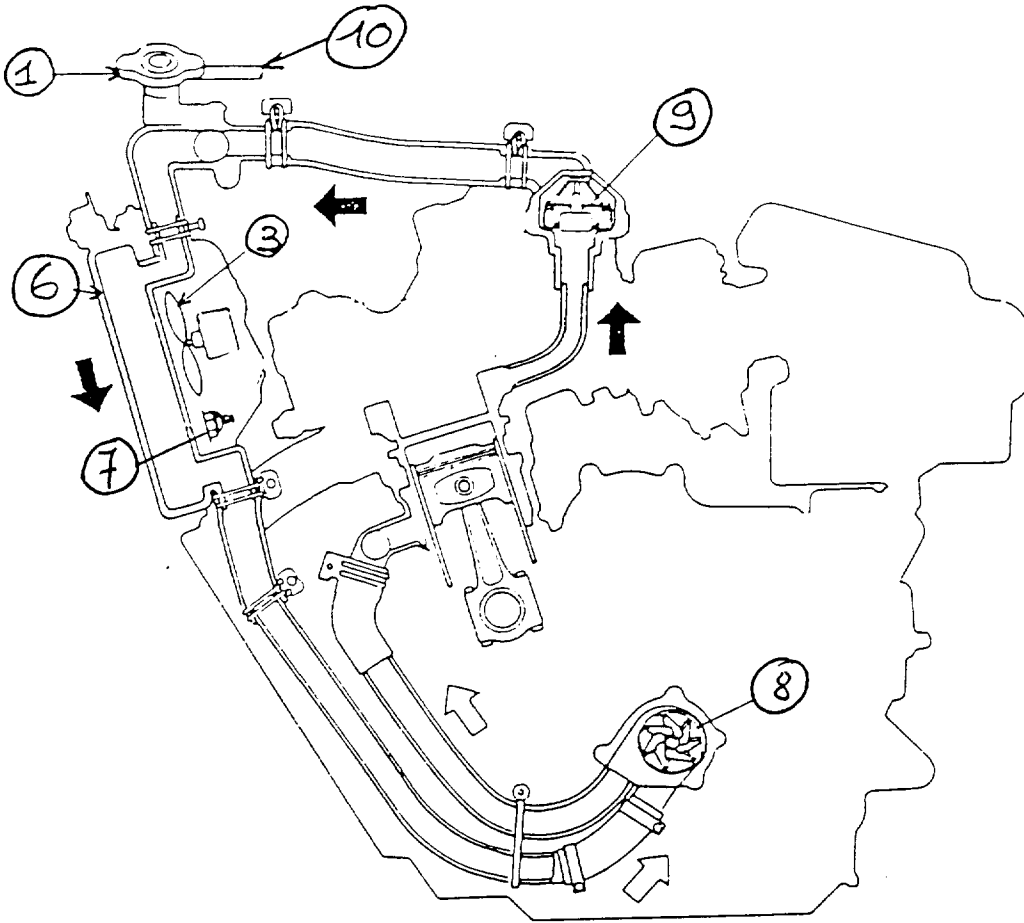
6 / _____

2.2.2 - Quels sont les éléments et le matériel permettant le réglage du jeu aux soupapes ? /2

ACADEMIES DE GRENOBLE ET LYON				SESSION 1999
EXAMEN : MAINTENANCE DE VEHICULES AUTOMOBILES : OPTION D				Durée : 2 H 30
Epreuve : Communication Technique - EP1-2				Coefficient : 1,5
Echelle :	Nb. Tirages :	SUJET	N°	Feuille : 10/27

2.2.3 - Quels est le rôle du jeu spécifique aux soupapes /2

ACADEMIES DE GRENOBLE ET LYON				SESSION 1999
EXAMEN : MAINTENANCE DE VEHICULES AUTOMOBILES : OPTION D				Durée : 2 H 30
Epreuve : Communication Technique - EP1-2				Coefficient : 1,5
Echelle :	Nb. Tirages :	SUJET	N°	Feuille : 11/27



2.3.1 - Donner un nom aux différents numéros : /4

1/ _____

3/ _____

6/ _____

7/ _____

8/ _____

9/ _____

10/ _____

ACADEMIES DE GRENOBLE ET LYON				SESSION 1999
EXAMEN : MAINTENANCE DE VEHICULES AUTOMOBILES : OPTION D				Durée : 2 H 30
Epreuve : Communication Technique - EP1-2				Coefficient : 1,5
Echelle :	Nb. Tirages :	SUJET	N°	Feuille : 12/27

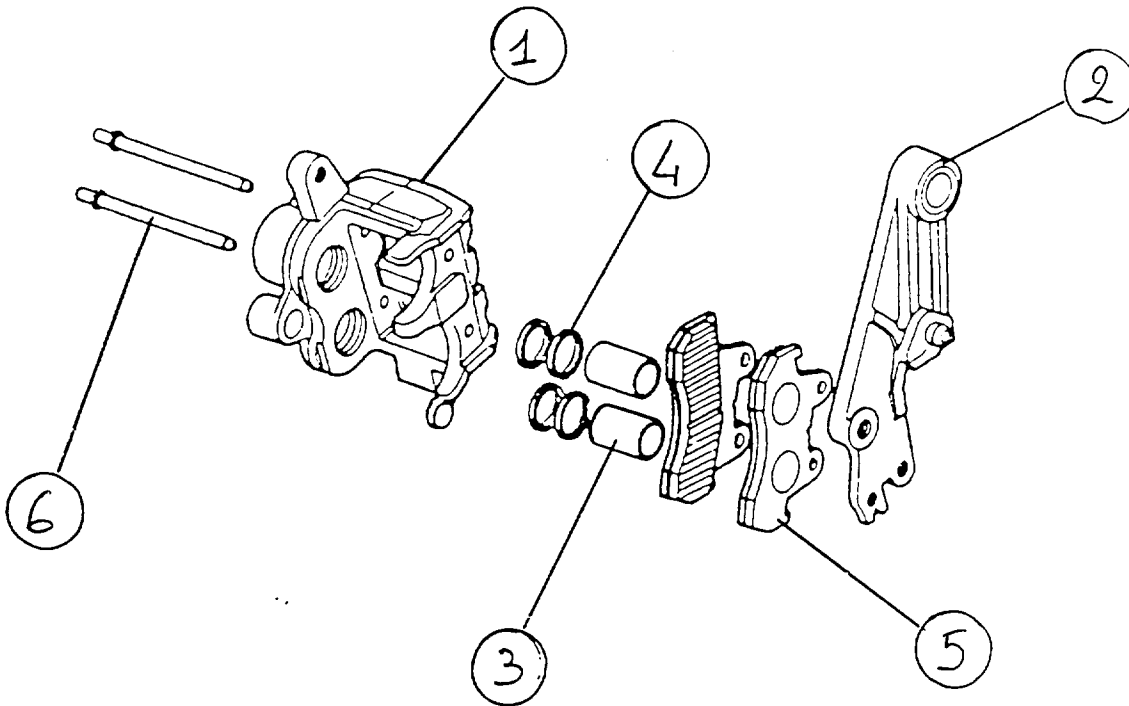
2.3.2 - Quelle est la fonction de la pièce n° 7 ? : /2

2.3.3 - Quelle est la fonction de la pièce n° 8 ? : /2

2.3.4 - Quelle est la fonction de la pièce n° 9 ? : /2

ACADEMIES DE GRENOBLE ET LYON			SESSION 1999
EXAMEN : MAINTENANCE DE VEHICULES AUTOMOBILES : OPTION D			Durée : 2 H 30
Epreuve : Communication Technique - EP1-2			Coefficient : 1,5
Echelle :	Nb. Tirages :	SUJET	N°
			Feuille : 13/27

2.4 - Etrier de frein avant.



2.4.1 - Donner un nom aux différents numéros : /3

1 / _____

2 / _____

3 / _____

4 / _____

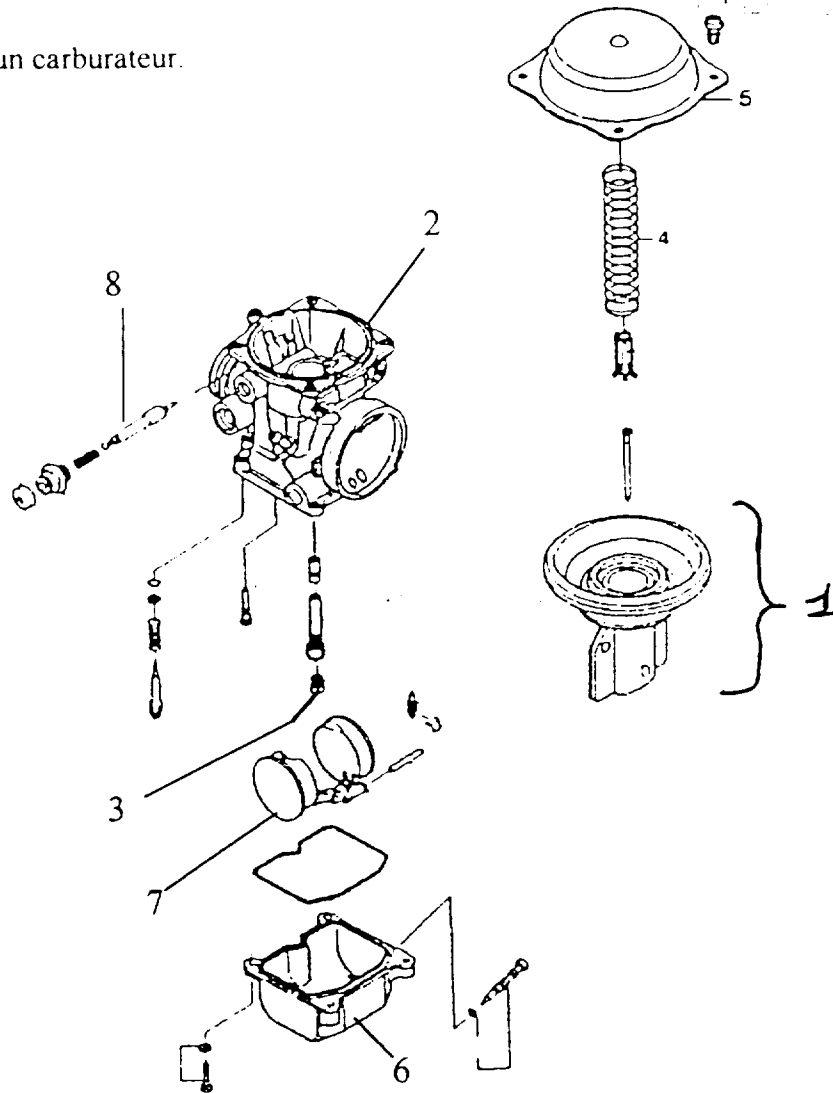
5 / _____

6 / _____

2.4.2 - De quel type d'étrier s'agit-il ? /1

ACADEMIES DE GRENOBLE ET LYON				SESSION 1999
EXAMEN : MAINTENANCE DE VEHICULES AUTOMOBILES : OPTION D				Durée : 2 H 30
Epreuve : Communication Technique - EPI-2				Coefficient : 1,5
Echelle :	Nb. Tirages :	SUJET	N°	Feuille : 14/27

2.5 - Vue éclatée d'un carburateur.



2.5.1 - Donner un nom aux différents numéros : /4

1 / _____

2 / _____

3 / _____

4 / _____

5 / _____

6 / _____


7 / _____

8 / _____

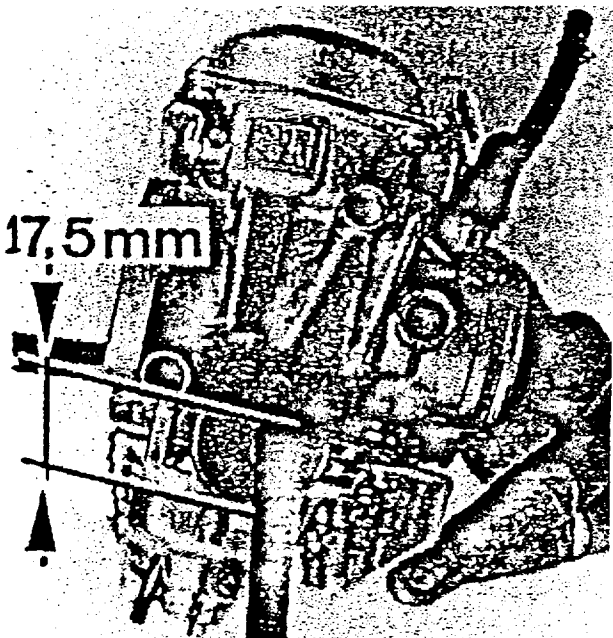
2.5.2 - De quel type de carburateur s'agit-il ? /1

ACADEMIES DE GRENOBLE ET LYON				SESSION 1999
EXAMEN : MAINTENANCE DE VEHICULES AUTOMOBILES : OPTION D				Durée : 2 H 30
Epreuve : Communication Technique - EP1-2				Coefficient : 1,5
Echelle :	Nb. Tirages :	SUJET	N°	Feuille : 15/27

2.5.4 - Quels sont le nom et le but de cette opération ? /4

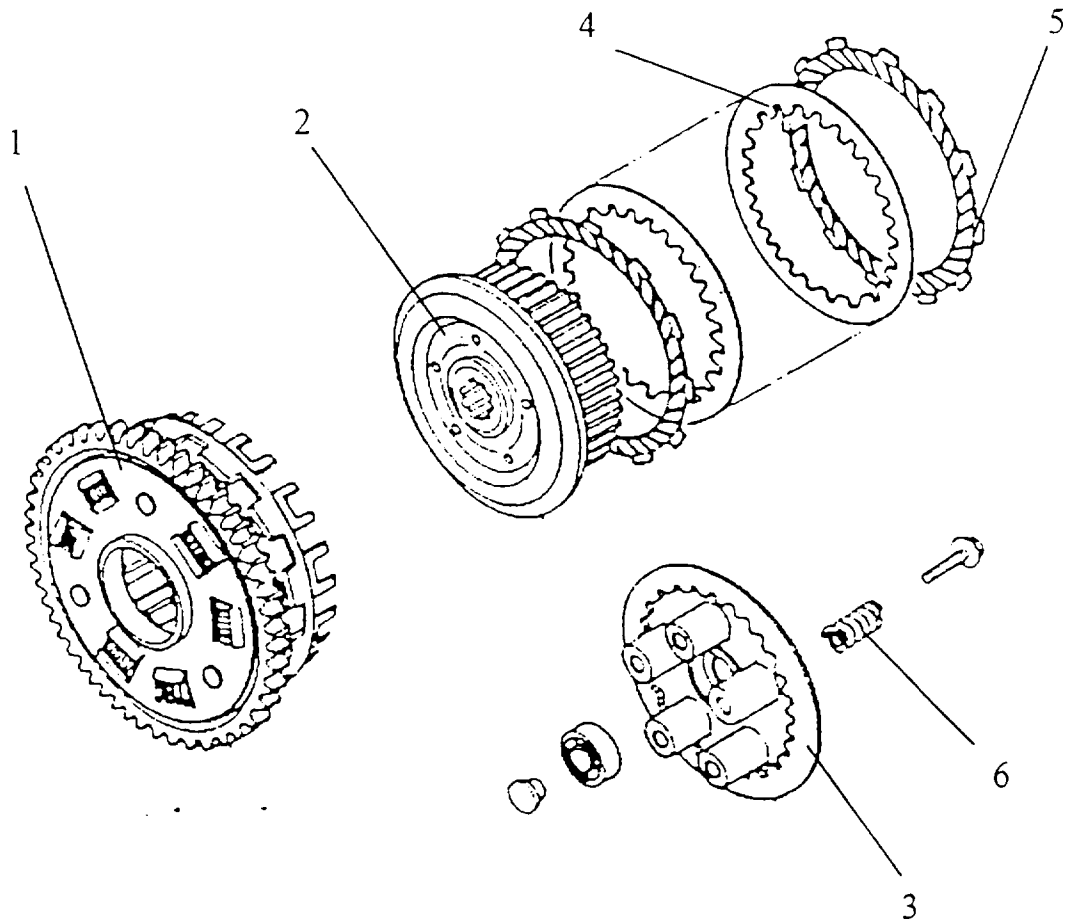


2.5.3 - A quoi correspond la valeur «17,5 mm» sur la figure ci-dessous ? /4



ACADEMIES DE GRENOBLE ET LYON			SESSION 1999
EXAMEN : MAINTENANCE DE VEHICULES AUTOMOBILES : OPTION D			Durée : 2 H 30
Epreuve : Communication Technique - EP1-2			Coefficient : 1,5
Echelle :	Nb. Tirages :	SUJET	N°
			Feuille : 16/27

2.6.1 - Dans la figure ci-dessous, donner un nom aux numéros : /3



1 / _____

2 / _____

3 / _____

4 / _____

5 / _____

6 / _____

2.6.2 - Que se passe-t-il si la commande d'embrayage a : /4

- une garde insuffisante ?

ACADEMIES DE GRENOBLE ET LYON				SESSION 1999
EXAMEN : MAINTENANCE DE VEHICULES AUTOMOBILES : OPTION D				Durée : 2 H 30
Epreuve : Communication Technique - EPI-2				Coefficient : 1,5
Echelle :	Nb. Tirages :	SUJET	N°	Feuille : 17/27